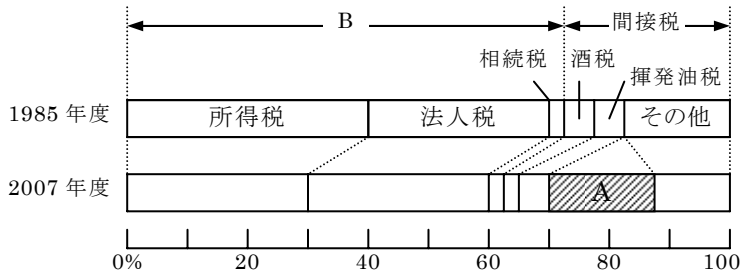


得点	<h1>演習問題</h1>	実施日	月 日	氏名
	財政 ③			

【1】 次の問いに答えなさい。



- (1) 上の図の A、B にあてはまる税の名を答えなさい。
 A() B()
- (2) 次の文のうち、正しいものを選びなさい。
 ()

- ア 所得税は、その全額が都道府県や市町村に納められる地方税である。
- イ 消費税は、消費者が購入する商品の価格に応じて税率が決められている。
- ウ 所得税は、所得の多少にかかわらず、同じ税率で課税されている。
- エ 消費税は、税金を負担する人と、それを納める人が異なる間接税である。

- (3) 次の考え方にもとづいて、歳入項目と歳出項目とを正しく組み合わせたものを、下のア～エから選びなさい。()

歳入に際しては累進課税制度というしくみによって税を徴収し、歳出に際しては収入の少ない人の生活を支えるための費用などを支出することによって、個人間の収入の格差を少なくする。

- ア 相続税と国土保全費
- イ 所得税と社会保障関係費
- ウ 法人税と国債費
- エ 消費税と地方財政費

- (4) 下の表を見て書いた次の文について、誤っているものを選びなさい。()

【年度末国債残高の推移】

年度	残高〔億円〕	年度	残高〔億円〕	年度	残高〔億円〕
1976	220,767	1987	1,518,093	1998	2,952,491
1977	319,024	1988	1,567,803	1999	3,346,195
1978	426,158	1989	1,609,100	2000	3,639,983
1979	562,513	1990	1,663,379	2001	3,924,341
1980	705,098	1991	1,716,473	2002	4,210,991
1981	822,734	1992	1,783,681	2003	4,569,736
1982	964,822	1993	1,925,393	2004	4,990,137
1983	1,096,947	1994	2,066,046	2005	5,269,279
1984	1,216,936	1995	2,251,847	2006	5,317,015
1985	1,344,314	1996	2,446,581	2007	5,466,725
1986	1,451,267	1997	2,579,875	2008	5,533,118

- ア 1976 年度末以降、国債残高は増え続けており、その後一度も前年度末を下回っていない。
- イ 2008 年度の国債残高は、1976 年度末の国債残高の 20 倍を超えている。
- ウ 2008 年度末の国民一人あたりの国債残高は、およそ 43 万円である。
- エ 1995 年度末と 1990 年度末の国債残高の差は、1990 年度末と 1985 年度末の差より大きい。

- (5) 介護保険が導入された背景として、人口の高齢化の進展がある、人口の高齢化が進展している理由として、出生率が低下して子どもの数が減少していることのほかにどんなことがあるか。
 []

- (6) 次のうち、運営に必要な費用が保険料などによってまかなわれているものを選びなさい。()

- ア 児童福祉
- イ 予防接種
- ウ 国民年金
- エ 老人福祉

- 【2】 次の文の()にあてはまる語句をカタカナで答えなさい。また、この文の状態を改善するための対策を、下のア～ウから選びなさい。
 語句() 対策()

景気がよくなり経済活動が活発になると、通貨量が増加するとともに、需要量が供給量を上回り、物価が上昇することが多い、このような物価の上昇が持続的に起こる状態を()という。


- ア 政府は公共事業などへの支出を増やして、企業の生産活動を活発にしようとする。
- イ 政府は所得税などの減税を実施して国民の購買意欲を高め消費を増やそうとする。
- ウ 日本銀行は一般の銀行に国債を売り、流通するお金を減らそうとする。

【3】 次の文を読んで、あとの問いに答えなさい。

政府の行う経済活動のことを(①)という。(①)の役割には、公共的な財やサービスを提供すること、a 経済を安定させる政策を実施することなどがある。また、所得の多い少ないによって貧富の格差が広がりすぎないように、b 税制や社会保障制度を通じて所得を再分配したりする。これらの役割を果たすため、毎年度、(②)を作成し実施している。

- (1) 文中の①・②にあてはまる語句を答えなさい。
 ①() ②()
- (2) 政府が行う下線部 a のような政策を何といいますか。
 ()
- (3) 下線部 b に関し、所得が多い人ほど税率を高くしている制度を何といいますか。
 ()

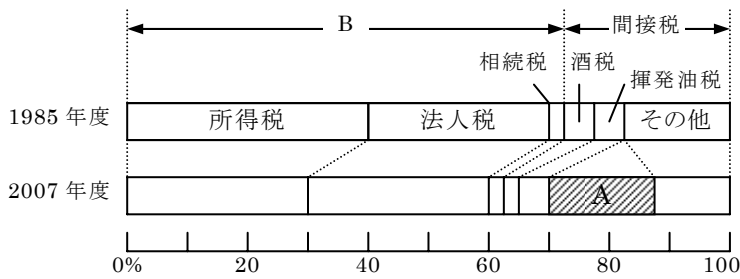
- (4) 右の図は、通常の前算とは別の資金を使い、政府関係機関に資金を貸すことを通じ、住宅や道路などを充実させる制度を示している。これを何といいますか。
 ()



- (5) 税収入の少ない地方公共団体の公共サービスに格差が生じないように、国から支出されるものを何といいますか。
 ()

得点	演習問題〔解答〕	実施日	月 日	氏名
	財政 ③			

【1】 次の問いに答えなさい。



(1) 上の図の A、B にあてはまる税の名を答えなさい。
 A(消費税) B(直接税)

(2) 次の文のうち、正しいものを選びなさい。
 (エ)

- ア 所得税は、その全額が都道府県や市町村に納められる地方税である。
- イ 消費税は、消費者が購入する商品の価格に応じて税率が決められている。
- ウ 所得税は、所得の多少にかかわらず、同じ税率で課税されている。
- エ 消費税は、税金を負担する人と、それを納める人が異なる間接税である。

(3) 次の考え方にもとづいて、歳入項目と歳出項目とを正しく組み合わせたものを、下のア～エから選びなさい。(イ)

歳入に際しては累進課税制度というしくみによって税を徴収し、歳出に際しては収入の少ない人の生活を支えるための費用などを支出することによって、個人間の収入の格差を少なくする。

- ア 相続税と国土保全費
- イ 所得税と社会保障関係費
- ウ 法人税と国債費
- エ 消費税と地方財政費

(4) 下の表を見て書いた次の文について、誤っているものを選びなさい。(ウ)

【年度末国債残高の推移】

年度	残高〔億円〕	年度	残高〔億円〕	年度	残高〔億円〕
1976	220,767	1987	1,518,093	1998	2,952,491
1977	319,024	1988	1,567,803	1999	3,346,195
1978	426,158	1989	1,609,100	2000	3,639,983
1979	562,513	1990	1,663,379	2001	3,924,341
1980	705,098	1991	1,716,473	2002	4,210,991
1981	822,734	1992	1,783,681	2003	4,569,736
1982	964,822	1993	1,925,393	2004	4,990,137
1983	1,096,947	1994	2,066,046	2005	5,269,279
1984	1,216,936	1995	2,251,847	2006	5,317,015
1985	1,344,314	1996	2,446,581	2007	5,466,725
1986	1,451,267	1997	2,579,875	2008	5,533,118

- ア 1976 年度末以降、国債残高は増え続けており、その後一度も前年度末を下回っていない。
- イ 2008 年度の国債残高は、1976 年度末の国債残高の 20 倍を超えている。
- ウ 2008 年度末の国民一人あたりの国債残高は、およそ 43 万円である。
- エ 1995 年度末と 1990 年度末の国債残高の差は、1990 年度末と 1985 年度末の差より大きい。

(5) 介護保険が導入された背景として、人口の高齢化の進展がある、人口の高齢化が進展している理由として、出生率が低下して子どもの数が減少していることのほかにどんなことがあるか。
 [平均寿命が延びたこと。]

(6) 次のうち、運営に必要な費用が保険料などによってまかなわれているものを選びなさい。(ウ)

- ア 児童福祉
- イ 予防接種
- ウ 国民年金
- エ 老人福祉

【2】 次の文の()にあてはまる語句をカタカナで答えなさい。また、この文の状態を改善するための対策を、下のア～ウから選びなさい。

語句(インフレーション) 対策(ウ)

景気がよくなり経済活動が活発になると、通貨量が増加するとともに、需要量が供給量を上回り、物価が上昇することが多い、このような物価の上昇が持続的に起こる状態を()という。

- ア 政府は公共事業などへの支出を増やして、企業の生産活動を活発にしようとする。
- イ 政府は所得税などの減税を実施して国民の購買意欲を高め消費を増やそうとする。
- ウ 日本銀行は一般の銀行に国債を売り、流通するお金を減らそうとする。

【3】 次の文を読んで、あとの問いに答えなさい。


政府が行う経済活動のことを(①)という。(①)の役割には、公共的な財やサービスを提供すること、a 経済を安定させる政策を実施することなどがある。また、所得の多い少ないによって貧富の格差が広がりすぎないように、b 税制や社会保障制度を通じて所得を再分配したりする。これらの役割を果たすため、毎年度、(②)を作成し実施している。

(1) 文中の①・②にあてはまる語句を答えなさい。
 ①(財政) ②(予算)

(2) 政府が行う下線部 a のような政策を何といいますか。
 (財政政策)

(3) 下線部 b に関し、所得が多い人ほど税率を高くしている制度を何といいますか。
 (累進課税制度)

(4) 右の図は、通常の前年度と別の資金を使い、政府関係機関に資金を貸すことを通じ、住宅や道路などを充実させる制度を示している。これを何といいますか。
 (財政投融资)



(5) 税収入の少ない地方公共団体の公共サービスに格差が生じないように、国から支出されるものを何といいますか。
 (地方交付税交付金)