

得点	<h1 style="margin:0;">演習問題</h1>	実施日	月 日	氏名	
	財政 ②				

【1】右の資料は、かおりさんがお兄さんと一緒にコンビニで買い物をしたときのレシートである。これを見て、次の問いに答えなさい。

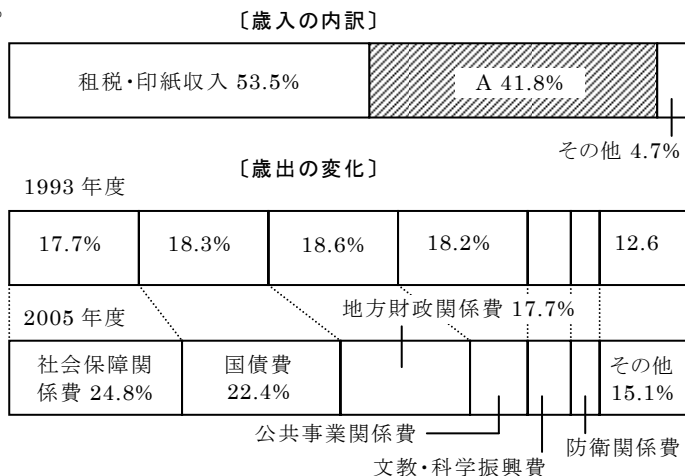
〇〇商店	
ジュース	268 円
パン	80 円
パン	160 円
牛乳	198 円
税額(5.0%)	35 円
合計	741 円
現金預かり	1000 円
お釣	259 円

- (1) レシートに印字されている税金の名称を答えなさい。
()
- (2) (1)の税金は、かおりさんが税金を負担して、コンビニが納める。このような税をまとめて何といますか。
()
- (3) 会社員のお兄さんは、「ここでも税金を納めるのか」とぼやいていた。会社員のお兄さんが給料から引かれる形で直接国に納めている税金の名称を答えなさい。()

【2】次の文を読んで、あとの問いに答えなさい。

国や地方公共団体は、a 道路や上・下水道、公園など、国民の生活や企業の活動に必要なものの整備や、b 教育や社会保障、保健衛生などのサービスの提供を行い、わたしたちの暮らしと深くかかわっている。政府はこれらの政治を実施するためにさまざまな資金のやりくりを行っており、こうした c 歳入と歳出 という政府の経済活動を(A)という。
(A)は、財やサービスを提供するとともに、d 国の経済の安定をはかるはたらきや、収入の多い人から受け取った税金を社会保障などの形で収入の少ない人に回す「所得の再分配」のはたらきをもっている。こうした政府の経済活動は国民の e 税金 によって支えられており、そのため「(B)の義務」が日本国憲法に定められている。

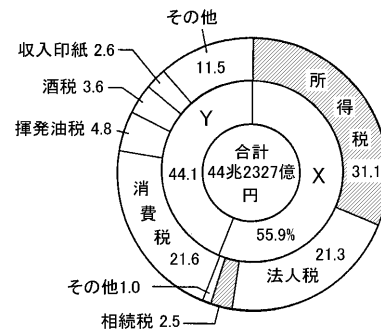
- (1) 文中の()A・Bにあてはまる語句をそれぞれ答えなさい。
A() B()
- (2) 下線部 a について、道路・港湾・公園など、利潤をめあてに生産されるのではない。国民生活や企業活動に欠かせない施設を何といますか。()
- (3) 下線部 b などのサービスを何といますか。()
- (4) 下線部 c について、下のグラフを見て、次の問いに答えなさい。



- ① グラフ中の は、国が歳出に対する歳入の不足を補うために発行する債券である、これを何といますか。()
- ② 1993年から2005年の間で、歳出に占める割合が最も大きくなっている費目は何か、1つ選んで答えなさい。()

(5) 下線部 d について、経済の安定をはかるために増税や減税を行ったり、公共事業の増減をはかたりする政府の活動を何といますか。()

- (6) 下線部 e について、次の問いに答えなさい。
- ① 下線部 e のうち、国が集める税を何といますか。()
- ② 下のグラフは、①の税のうちのわけを示している。グラフ中の X・Y にあてはまる語句をそれぞれ答えなさい。
X () Y ()



③ グラフ中の の税は、所得が多くなるほど税率が高くなる、この課税方法を何といますか。()

【3】次の文を読んで、あとの問いに答えなさい。

経済活動が活発で拡大している状態を好況(好景気)というが、この状態はいつまでも安定して保たれているわけではない。経済活動が活発であれば、企業はより多くの(①)を得ようと生産を増やす。その結果、やがて生産過剰におちいって商品が余るようになる。また、経済活動が活発であれば労働者の賃金が上昇するが、a インフレーションが発生しやすくなり、しだいに消費者の購買意欲が低下する。こうしたことからやがて経済活動がおとろえて b 景気が悪化 する。このように、経済活動が活発な時期と悪い時期が交互にくり返されることを景気変動といい、自由な経済活動を保障した(②)主義経済に特有の現象である。

(1) 文中の()①・②にあてはまる語句を、次から選んでそれぞれ記号で答えなさい。 ①() ②()

- ア サービス イ 資本 ウ 租税
エ 利潤 オ 社会 カ 労働力

(2) 下線部 a について、次の問いに答えなさい。

① インフレーションとはどのような現象ですか。次の語句を用いて簡潔に説明しなさい。[物価、貨幣]

② インフレーションとは逆の状態を何といますか。()

(3) 下線部 b について、景気が悪化している場合の政策として次の①・②のうち、正しい語句をそれぞれ答えなさい。

- ①() ②()

政府は、①[増税・減税]をしたり、公共事業への支出を②[増加・減少]させたりして、景気を回復させようとする。

得点	演習問題〔解答〕	実施日	月	日	氏名

【1】右の資料は、かおりさんがお兄さんと一緒にコンビニで買い物をしたときのレシートである。これを見て、次の問いに答えなさい。

〇〇商店	
ジュース	268 円
パン	80 円
パン	160 円
牛乳	198 円
税額(5.0%)	35 円
合計	741 円
現金預かり	1000 円
お釣	259 円

(1) レシートに印字されている税金の名称を答えなさい。
(消費税)

(2) (1)の税金は、かおりさんが税金を負担して、コンビニが納める。このような税をまとめて何といいますか。
(間接税)

(3) 会社員のお兄さんは、「ここでも税金を納めるのか」とぼやいていた。会社員のお兄さんが給料から引かれる形で直接国に納めている税金の名称を答えなさい。(所得税)

【2】次の文を読んで、あとの問いに答えなさい。

国や地方公共団体は、a 道路や上・下水道、公園など、国民の生活や企業の活動に必要なものの整備や、b 教育や社会保障、保健衛生などのサービスの提供を行い、わたしたちの暮らしと深くかかわっている。政府はこれらの政治を実施するためにさまざまな資金のやりくりを行っており、こうしたc 歳入と歳出という政府の経済活動を(A)という。

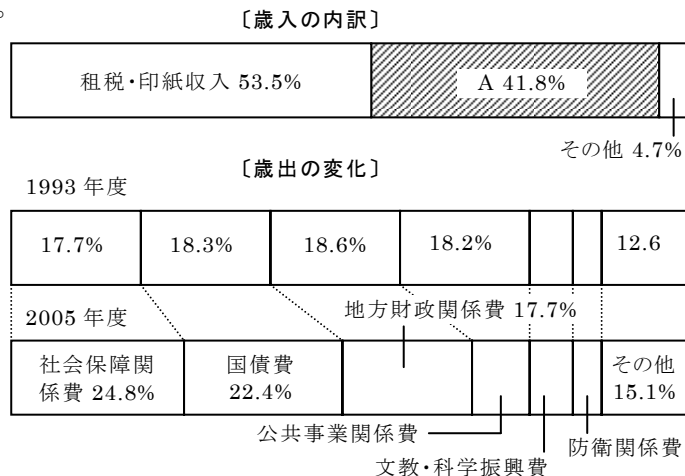
(A)は、財やサービスを提供するとともに、d 国の経済の安定をはかるはたらきや、収入の多い人から受け取った税金を社会保障などの形で収入の少ない人に回す「所得の再分配」のはたらきをもっている。こうした政府の経済活動は国民のe 税金によって支えられており、そのため「(B)の義務」が日本国憲法に定められている。

(1) 文中の()A・Bにあてはまる語句をそれぞれ答えなさい。
A(財政) B(納税)

(2) 下線部 a について、道路・港湾・公園など、利潤をめあてに生産されるのではない。国民生活や企業活動に欠かせない施設を何といいますか。
(社会資本)

(3) 下線部 b などのサービスを何といいますか。
(公共サービス)

(4) 下線部 c について、下のグラフを見て、次の問いに答えなさい。



① グラフ中の は、国が歳出に対する歳入の不足を補うために発行する債券である、これを何といいますか。
(公債金)

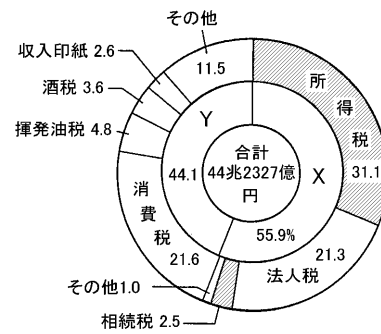
② 1993年から2005年の間で、歳出に占める割合が最も大きくなっている費目は何か、1つ選んで答えなさい。
(社会保障関係費)

(5) 下線部 d について、経済の安定をはかるために増税や減税を行ったり、公共事業の増減をはかたりする政府の活動を何といいますか。
(財政政策)

(6) 下線部 e について、次の問いに答えなさい。

① 下線部 e のうち、国が集める税を何といいますか。
(国税)

② 下のグラフは、①の税のうちわけを示している。グラフ中の X・Y にあてはまる語句をそれぞれ答えなさい。
X (直接税) Y (間接税)



③ グラフ中の の税は、所得が多くなるほど税率が高くなる、この課税方法を何といいますか。
(累進課税)

【3】次の文を読んで、あとの問いに答えなさい。

経済活動が活発で拡大している状態を好況(好景気)というが、この状態はいつまでも安定して保たれているわけではない。経済活動が活発であれば、企業はより多くの(①)を得ようと生産を増やす。その結果、やがて生産過剰におちいって商品が余るようになる。また、経済活動が活発であれば労働者の賃金が上昇するが、a インフレーションが発生しやすくなり、しだいに消費者の購買意欲が低下する。こうしたことからやがて経済活動がおとろえてb 景気が悪化する。このように、経済活動が活発な時期と悪い時期が交互にくり返されることを景気変動といい、自由な経済活動を保障した(②)主義経済に特有の現象である。

(1) 文中の()①・②にあてはまる語句を、次から選んでそれぞれ記号で答えなさい。 ①(エ) ②(イ)

- ア サービス
- イ 資本
- ウ 租税
- エ 利潤
- オ 社会
- カ 労働力

(2) 下線部 a について、次の問いに答えなさい。

① インフレーションとはどのような現象ですか。次の語句を用いて簡潔に説明しなさい。〔物価、貨幣〕

〔 物価が上昇し続け、貨幣価値が下落する現象。 〕

② インフレーションとは逆の状態を何といいますか。
(デフレーション)

(3) 下線部 b について、景気が悪化している場合の政策として次の①・②のうち、正しい語句をそれぞれ答えなさい。
①(減税) ②(増加)

政府は、①〔増税・減税〕をしたり、公共事業への支出を②〔増加・減少〕させたりして、景気を回復させようとする。