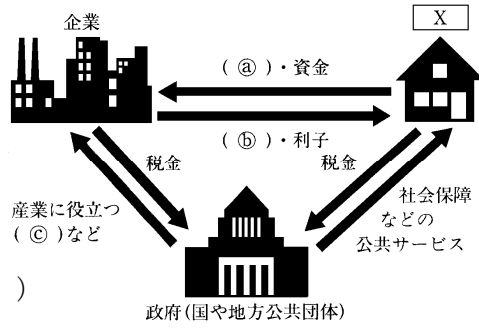


得点	演習問題	実施日	月 日	氏名
	財政 ①			

【1】 次の問いに答えなさい。

(1) 右の図を見て、次の問いに答えなさい。

① 図中の X に当てはまる語句を、漢字 2 字で書きなさい。
()



② 図のように、X・企業・政府の三つの経済主体が密接に結びついて形づくられる国民全体の経済活動のことを何といいますか。次のア～エの中から選びなさい。()

- ア 国民経済 イ 総合経済 ウ 政府経済 エ 国家経済

③ 図中の() (a)～(c) に当てはまる語句を正しく組み合わせたものを、次のア～エの中から選びなさい。()

- ア (a)…公共事業 (b)…賃金 (c)…国庫支出金
 イ (a)…労働力 (b)…公共事業 (c)…賃金
 ウ (a)…賃金 (b)…労働力 (c)…国庫支出全
 エ (a)…労働力 (b)…賃金 (c)…公共事業
- ④ 図中の公共サービスに当たるものを、次のア～カの中から 2 つ選び、その記号を書きなさい。()
- ア 電気・ガスの供給 イ 警察・消防 ウ たばこ・塩の販売
 エ 通信・電話 オ 道路の整備 カ 私立高校の設置

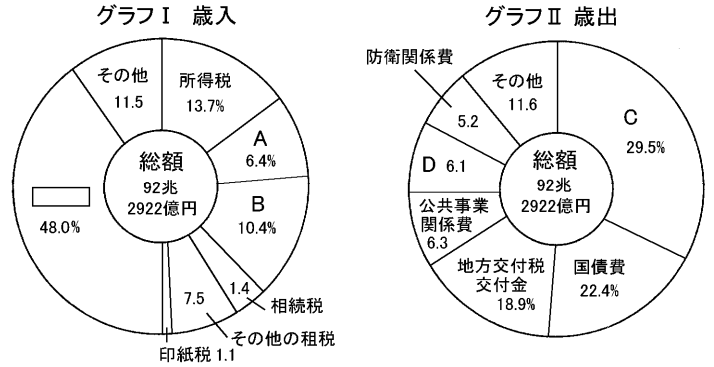
(2) 税金について、次の表を見て、あとの問いに答えなさい。

		直接税	間接税
国 税		(イ)、法人税 相続税	(ウ)、酒税、関税 揮発油税、たばこ税、
(ア)	都道府県税	都道府県民税 事業税・自動車税	都道府県たばこ税 ゴルフ場利用税
	市町村税	市町村民税 (特別区民税) (エ)	市町村たばこ税 (特別区たばこ税)

- ① 表中の()ア～エに当てはまる語句を、次の中からそれぞれ選んで書きなさい。
- ア() イ()
 ウ() エ()
- 消費税 所得税 固定資産税 地方税
- ② 納税者と税金を負担する人とがちがう税を何といいますか。表中から選んで書きなさい。()
- ③ 会社の所得にかかる国税を何といいますか。表中から選んで書きなさい。()
- ④ 表中の(イ)には、負担のつり合いをはかるために、所得が多くなればなるほど税率を高くする方法がとられている。これを何といいますか。()

【2】 次の文を読んで、あとの問いに答えなさい。

国や地方公共団体が行う経済活動を(a)財政という。財政は、公共的な施設をつくったり公共サービスを供給したりする本来の目的のほかに、(b)公共事業に関する支出を増減したり、増税や減税を行うなどして、景気を調整するための手段としても用いられる。



(1) 下線部(a)について、次の国の歳入・歳出のうちわけのグラフを見て、あとの問いに答えなさい。

① グラフ I の A・B を正しく組み合わせているものを、次のア～エの中から選び、その記号を書きなさい。()

- ア A…関税 B…法人税 イ A…法人税 B…消費税
 ウ A…消費税 B…関税 エ A…酒税 B…法人税

② グラフ II の C・D を正しく組み合わせているものを、次のア～エの中から選び、その記号を書きなさい。()

- ア C…社会保障関係費 D…中小企業対策費
 イ C…文教および科学振興費 D…社会保障関係費
 ウ C…中小企業対策費 D…文教および科学振興費
 エ C…社会保障関係費 D…文教および科学振興費

③ グラフ I 中の [] は、政府が税収の不足を補うために発行する債券による収入である。当てはまる語句を、漢字 3 字で書きなさい。()

(2) 下線部(b)について、次の問いに答えなさい。

① このような政策を何といいますか。漢字 4 字で書きなさい。()

② 景気が悪いときの①について述べた文として正しいものを、次のア～エの中から選びなさい。()

- ア 公共事業に関する支出を増やし、減税を行う。
 イ 公共事業に関する支出を増やし、増税を行う。
 ウ 公共事業に関する支出を減らし、増税を行う。
 エ 公共事業に関する支出を減らし、減税を行う。

(3) グラフ I の歳入にしめる [] の割合が非常に大きいことから、この状態が続くとどんな問題点が考えられますか。簡単に答えなさい。

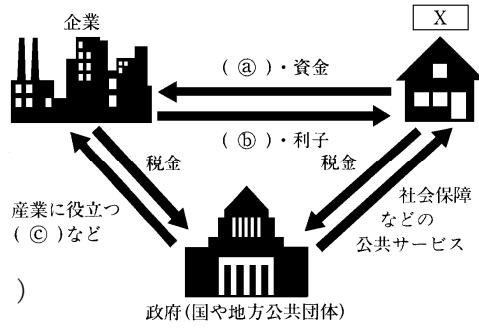
[]

得点	演習問題〔解答〕	実施日	月	日	氏名
			財政 ①		

【1】 次の問いに答えなさい。

(1) 右の図を見て、次の問いに答えなさい。

① 図中の X に当てはまる語句を、漢字 2 字で書きなさい。
(家計)



② 図のように、X・企業・政府の三つの経済主体が密接に結びついて形づくられる国民全体の経済活動のことを何といいますか。次のア～エの中から選びなさい。(ア)

ア 国民経済 イ 総合経済 ウ 政府経済 エ 国家経済

③ 図中の() ①～④ に当てはまる語句を正しく組み合わせたものを、次のア～エの中から選びなさい。(エ)

- ア ①…公共事業 ②…賃金 ③…国庫支出金
- イ ①…労働力 ②…公共事業 ③…賃金
- ウ ①…賃金 ②…労働力 ③…国庫支出全
- エ ①…労働力 ②…賃金 ③…公共事業

④ 図中の公共サービスに当たるものを、次のア～カの中から 2 つ選び、その記号を書きなさい。(イ・オ)

ア 電気・ガスの供給 イ 警察・消防 ウ たばこ・塩の販売
エ 通信・電話 オ 道路の整備 カ 私立高校の設置

(2) 税金について、次の表を見て、あとの問いに答えなさい。

		直接税	間接税
国 税		(イ)、法人税 相続税	(ウ)、酒税、関税 揮発油税、たばこ税、
(ア)	都道府 県税	都道府県民税 事業税・自動車税	都道府県たばこ税 ゴルフ場利用税
	市町 村税	市町村民税 (特別区民税) (エ)	市町村たばこ税 (特別区たばこ税)

① 表中の()ア～エに当てはまる語句を、次の中からそれぞれ選んで書きなさい。

ア(地方税) イ(所得税)
ウ(消費税) エ(固定資産税)

消費税 所得税 固定資産税 地方税

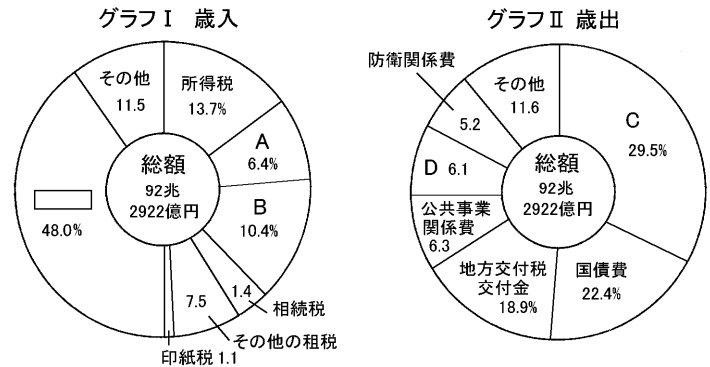
② 納税者と税金を負担する人とがちがう税を何といいますか。表中から選んで書きなさい。(間接税)

③ 会社の所得にかかる国税を何といいますか。表中から選んで書きなさい。(法人税)

④ 表中の(イ)には、負担のつり合いをはかるために、所得が多くなればなるほど税率を高くする方法がとられている。これを何といいますか。(累進課税)

【2】 次の文を読んで、あとの問いに答えなさい。

国や地方公共団体が行う経済活動を①財政という。財政は、公共的な施設をつくったり公共サービスを提供したりする本来の目的のほかに、②公共事業に関する支出を増減したり、増税や減税を行うなどして、景気を調整するための手段としても用いられる。



(1) 下線部①について、次の国の歳入・歳出のうちわけのグラフを見て、あとの問いに答えなさい。

① グラフ I の A・B を正しく組み合わせているものを、次のア～エの中から選び、その記号を書きなさい。(イ)

ア A…関税 B…法人税 イ A…法人税 B…消費税
ウ A…消費税 B…関税 エ A…酒税 B…法人税

② グラフ II の C・D を正しく組み合わせているものを、次のア～エの中から選び、その記号を書きなさい。(エ)

ア C…社会保障関係費 D…中小企業対策費
イ C…文教および科学振興費 D…社会保障関係費
ウ C…中小企業対策費 D…文教および科学振興費
エ C…社会保障関係費 D…文教および科学振興費

③ グラフ I 中の [] は、政府が税収の不足を補うために発行する債券による収入である。当てはまる語句を、漢字 3 字で書きなさい。(公債金)

(2) 下線部②について、次の問いに答えなさい。

① このような政策を何といいますか。漢字 4 字で書きなさい。(財政政策)

② 景気が悪いときの①について述べた文として正しいものを、次のア～エの中から選びなさい。(ア)

- ア 公共事業に関する支出を増やし、減税を行う。
- イ 公共事業に関する支出を増やし、増税を行う。
- ウ 公共事業に関する支出を減らし、増税を行う。
- エ 公共事業に関する支出を減らし、減税を行う。

(3) グラフ I の歳入にしめる [] の割合が非常に大きいことから、この状態が続くとどんな問題点が考えられますか。簡単に答えなさい。

〔 国債残高が増加し財政が破綻する問題 〕