

得点	<h2 style="margin: 0;">演習問題</h2> <p style="margin: 0;">市場と価格と金融 ③</p>	実施日	月	日	氏名

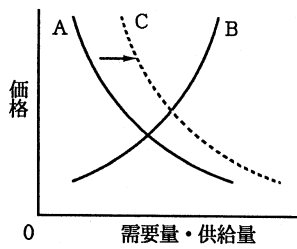
**【1】 次の文を読んで、あとの各問いに答えなさい。**

ものの価格には、国民生活の安定をはかるために、国会や政府などがきめたり、認可したりする a 公共料金とよばれるものがある。しかし、b 企業間の自由な競争のもとでは、商品の価格は原則として、市場における需要と供給の関係で決まり、また、価格の上がり下がりによって消費者の需要量や企業の供給量が調整される。

- (1) 下線部 a について、その価格が公共料金であるものを、次のア～エから 1 つ選びなさい。( )

ア ガソリン    イ 電気    ウ 新聞    エ 書籍

- (2) 下線部 b の需要と供給の関係を表した右の図で、A・B の曲線をそれぞれ何といえますか。



A(            曲線)  
B(            曲線)

- (3) また右上の図にあるように、B 曲線は変わらず A 曲線が右にずれ点線の C の位置に変わったとき、価格と取引量はどのようになりますか。次のア～エから 1 つ選びなさい。( )

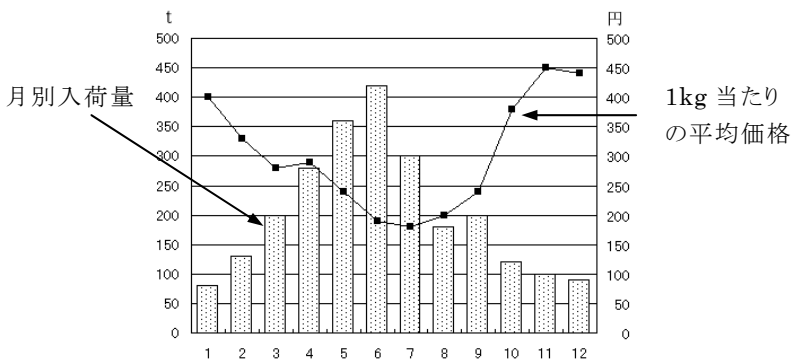
ア 価格は下がり、取引量が減少する。  
イ 価格は上がり、取引量が減少する。  
ウ 価格は下がり、取引量が増加する。  
エ 価格は上がり、取引量が増加する。

- (3) このようにして決まる価格を何といえますか。(            価格)

- (4) ある商品の生産や販売が少数の企業で行われている場合は、価格が市場での需要と供給からはなれて決められることがある。このような価格を何といえますか。(            価格)

- (5) (4) のような場合、消費者が不利益をこうむるので、企業間に正当な競争を促すための法律が制定されている。この法律名とその運用に当たっている機関をそれぞれ何といえますか。  
法律(            法)  
機関(            )

**【2】 グラフをみて、次の各問いに答えなさい。**



- (1) 次の文の( )にあてはまる語句を答えなさい。

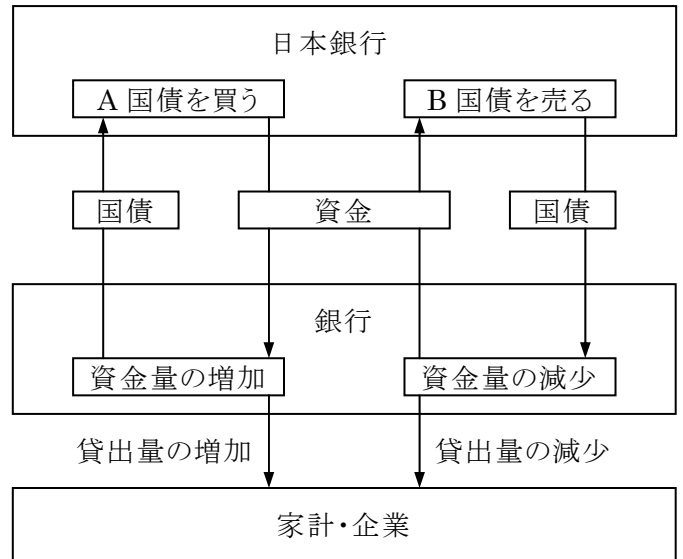
野菜の自由な売買が行われている場合は、一般に生産が多過ぎて人々の( ① )を上回ると価格は( ② )る。反対に生産が少なく、( ③ )が不足すると、価格は( ④ )る。

①(            ) ②(            ) ③(            ) ④(            )

- (2) きゅうりの入荷量と価格の関係は、1 年間を通してみると、およそどのような傾向があるといえますか。「入荷量が…」の書き出しで簡潔に書きなさい。

入荷量が

- 【3】 次の図は日本銀行が経済を安定させるしくみの 1 つを表している。これを見て、問いに答えなさい。**



- (1) この図は何という政策を表していますか。( )
- (2) 景気が悪いときに日本銀行が行うことは、図中の A、B のどちらですか。( )
- (3) 図では、日本銀行は、景気を安定させるために何を調整していますか。図から 1 つ選んで答えなさい。( )
- (4) 日本銀行は、図のような政策や銀行への貸し出し利率を操作し、(3)を変化させ、銀行の貸し出し量を操作することなどで、景気や物価の安定を図ろうとする。このような政策をまとめて何といえますか。( )
- (5) 図中の国債は、国が国民からお金を借りるときに発行する証明書である。このような証明書を何といえますか。( )
- (6) 紙幣や硬貨を現金通貨というのに対して、わたしたちや企業が銀行に預金したお金を何といえますか。( )
- (7) わたしたちや企業が図中の銀行に預金したお金が、貨幣としての役割を持つのはなぜですか。その理由として最も適切なものを、次から選び、記号で答えなさい。( )

ア 預金者は預金した現金の保管料を銀行に支払うから。  
イ 預金者は預金した現金のかわりに金を受け取れるから。  
ウ 預金者は必ず現金通貨で預金をしなければならないから。  
エ 預金者は預金を現金として引き出す権利があるから。

- (8) 大部分の通貨が(6)の形で流通していることは銀行にとってどんな利点がありますか。簡潔に答えなさい。

得点	演習問題 (解答)	市場と価格と金融 ③	実施日	月	日	氏名

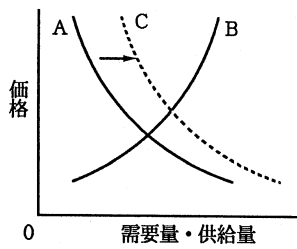
【1】 次の文を読んで、あとの各問いに答えなさい。

ものの価格には、国民生活の安定をはかるために、国会や政府などがきめたり、認可したりする a 公共料金とよばれるものがある。しかし、b 企業間の自由な競争のもとでは、商品の価格は原則として、市場における需要と供給の関係で決まり、また、価格の上がり下がりによって消費者の需要量や企業の供給量が調整される。

(1) 下線部 a について、その価格が公共料金であるものを、次のア～エから 1 つ選びなさい。(イ)

- ア ガソリン    イ 電気    ウ 新聞    エ 書籍

(2) 下線部 b の需要と供給の関係を表した右の図で、A・B の曲線をそれぞれ何といいますか。



- A( 需要 曲線)  
B( 供給 曲線)

(3) また右上の図にあるように、B 曲線は変わらず A 曲線が右にずれ点線の C の位置に変わったとき、価格と取引量はどのようになりますか。次のア～エから 1 つ選びなさい。

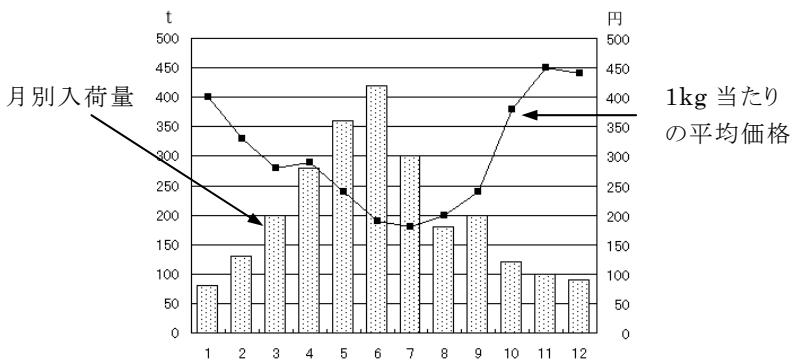
- ア 価格は下がり、取引量が減少する。  
イ 価格は上がり、取引量が減少する。  
ウ 価格は下がり、取引量が増加する。  
エ 価格は上がり、取引量が増加する。

(3) このようにして決まる価格を何といいますか。(均衡 価格)

(4) ある商品の生産や販売が少数の企業で行われている場合は、価格が市場での需要と供給からはなれて決められることがある。このような価格を何といいますか。(独占 価格)

(5) (4) のような場合、消費者が不利益をこうむるので、企業間に正当な競争を促すための法律が制定されている。この法律名とその運用に当たっている機関をそれぞれ何といいますか。  
法律( 独占禁止 法)  
機関( 公正取引委員会 )

【2】 グラフをみて、次の各問いに答えなさい。



(1) 次の文の( )にあてはまる語句を答えなさい。

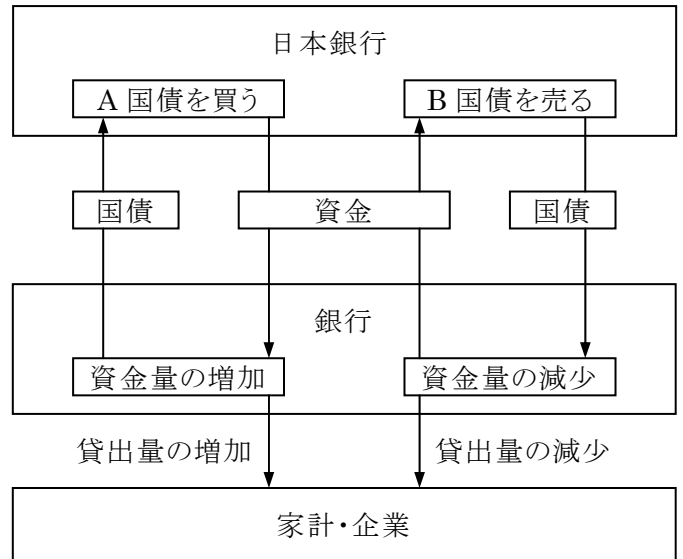
野菜の自由な売買が行われている場合は、一般に生産が多過ぎて人々の( ① )を上回ると価格は( ② )る。反対に生産が少なく、( ③ )が不足すると、価格は( ④ )る。

- ①( 需要 ) ②( 下が ) ③( 供給 ) ④( 上が )

(2) きゅうりの入荷量と価格の関係は、1 年間を通してみると、およそどのような傾向があるといえますか。「入荷量が…」の書き出しで簡潔に書きなさい。

入荷量が少ないときは価格が高く、入荷量が多いときには価格が低くなる傾向がある。

【3】 次の図は日本銀行が経済を安定させるしくみの 1 つを表している。これを見て、問いに答えなさい。



- (1) この図は何という政策を表していますか。( 公開市場政策 )
- (2) 景気が悪いときに日本銀行が行うことは、図中の A、B のどちらですか。( A )
- (3) 図では、日本銀行は、景気を安定させるために何を調整していますか。図から 1 つ選んで答えなさい。( 資金量 )
- (4) 日本銀行は、図のような政策や銀行への貸し出し利率を操作し、(3)を変化させ、銀行の貸し出し量を操作することなどで、景気や物価の安定を図ろうとする。このような政策をまとめて何といいますか。( 金融政策 )
- (5) 図中の国債は、国が国民からお金を借りるときに発行する証明書である。このような証明書を何といいますか。( 債券 )
- (6) 紙幣や硬貨を現金通貨というのに対して、わたしたちや企業が銀行に預金したお金を何といいますか。( 預金通貨 )
- (7) わたしたちや企業が図中の銀行に預金したお金が、貨幣としての役割を持つのはなぜですか。その理由として最も適切なものを、次から選び、記号で答えなさい。( エ )
- ア 預金者は預金した現金の保管料を銀行に支払うから。  
イ 預金者は預金した現金のかわりに金を受け取れるから。  
ウ 預金者は必ず現金通貨で預金をしなければならないから。  
エ 預金者は預金を現金として引き出す権利があるから。
- (8) 大部分の通貨が(6)の形で流通していることは銀行にとってどんな利点がありますか。簡潔に答えなさい。

銀行は手持ちの資金量の数倍の資金を貸し出すことができるから。