

得点	演習問題	実施日	月	日	氏名

【1】 次の文を読んで、あとの問いに答えなさい。

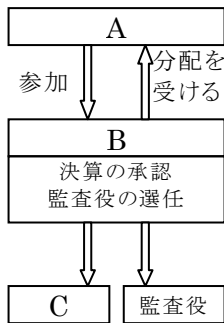
企業には、a 国や地方公共団体が営む(①)と、民間が営む私企業がある。b 私企業の特色は、(②)の獲得を目的として経済活動を行うことにある。
私企業の最も代表的なものである。c 株式会社は、生産の規模を広げるために必要な資金を集めやすく、大企業のほとんどは株式会社となっている。

- (1) 文中の()①・②にあてはまる語句をそれぞれ答えなさい。
①() ②()
- (2) 下線部 a について、国が直接営んでいる事業を次から選び、記号で答えなさい。()

ア 地下鉄 イ 水道 ウ 造幣 エ JR

- (3) 下線部 b の企業のうち、株式会社など、多くの人が資金を出して作った会社のかたちをとる企業を何といいますか。()

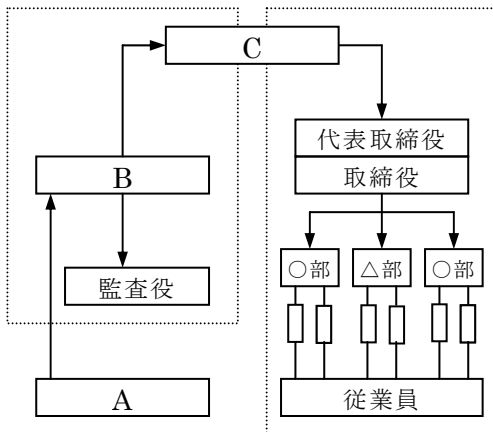
- (4) 右の図は、下線部 c のしくみを表している。図を見て、次の問いに答えなさい。



- ① 図中の A は、株式を購入して資金を提供する人々である。A を何といいますか。()
- ② 図中の A が会社のもうけに応じて受け取る分配金を何といいますか。()
- ③ 図中の B は、会社の基本方針などを決定する場である。あてはまる語句を答えなさい。()
- ④ 図中の C は、実際に株式会社の経営を行う人々の集まりである。あてはまる語句を答えなさい。()

【2】 下の図は、株式会社のしくみを表したものです。これについて次の問いに答えなさい。

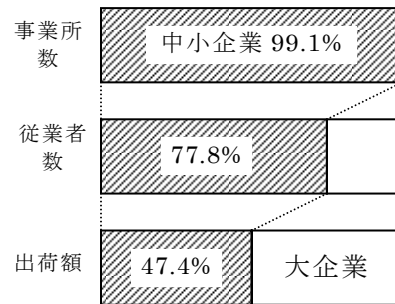
- (1) A は出資者を表しています。このしくみの企業では何といいますか。()
- (2) B は出資者による意思決定機関です。これを何といいますか。()



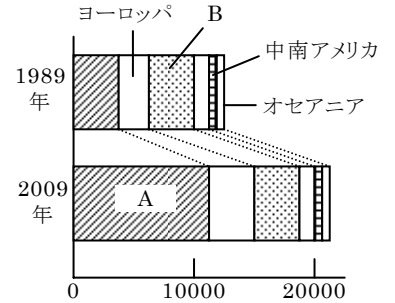
- (3) C は B で選任された役員による株式会社の執行機関です。これを何といいますか。()
- (4) A が利潤の一部を受け取ることを何といいますか。()

【3】 現代の日本の企業について、次の各問いに答えなさい。

〔資料1〕
中小企業の割合



〔資料2〕
海外に進出する日本企業数



- (1) 〔資料1〕を見て次の問いに答えなさい。

- ① 日本で事業所数が多いのは大企業・中小企業のどちらですか。()
- ② 大企業と中小企業を比較すると、従業者1人当たりの出荷額はどのような違いが見られますか。簡単に答えなさい。

[]

- (2) 〔資料2〕を見て次の問いに答えなさい。

- ① 2009年で日本の企業が最も多く進出している地域 A はどこですか。()
- ② ①の地域に多くの日本企業が進出している理由を簡単に答えなさい。

[]

- ③ 〔資料2〕のように、日本の企業の中には外国の籍を持って活動する企業も多い。このような企業を何といいますか。()

【4】 次の文を読んで、次の各問いに答えなさい。

労働者と使用者の関係は必ずしも対等ではない。そこで、労働者は(ア)を結成し、労働条件の改善などを使用者に要求するようになった。こうして、労働者の生活を豊かにし、労働災害を防止することなどがはかられてきた。

- (1) 文中の(ア)にあてはまる語句を答えなさい。()
- (2) 下線部イのうち、過酷な勤務状態が原因で労働者が死亡することを何といいますか。()
- (3) 労働三法のうち、次の①・②をそれぞれ何といいますか。
① 労働条件や賃金の最低条件を定めたもの。()法
② 労働者が使用者と対等の立場に立つことを促進し、団体交渉する手続きを定めている。()法
- (4) 労働者が働くことは、収入を得る以外にどんな意義があると考えられますか。

[]

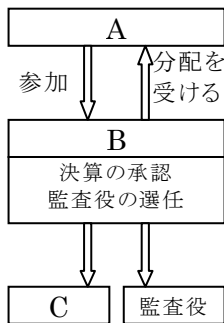
得点	演習問題〔解答〕	企業と労働者 ②	実施日	月	日	氏名

【1】 次の文を読んで、あとの問いに答えなさい。

企業には、a 国や地方公共団体が営む(①)と、民間が営む私企業がある。b 私企業の特徴は、(②)の獲得を目的として経済活動を行うことにある。
私企業の最も代表的なものである。株式会社は、生産の規模を広げるために必要な資金を集めやすく、大企業のほとんどは株式会社となっている。

- (1) 文中の()①・②にあてはまる語句をそれぞれ答えなさい。
①(公企業) ②(利潤)
- (2) 下線部 a について、国が直接営んでいる事業を次から選び、記号で答えなさい。(ウ)
ア 地下鉄 イ 水道 ウ 造幣 エ JR
- (3) 下線部 b の企業のうち、株式会社など、多くの人が資金を出して作った会社のかたちをとる企業を何といいますか。(法人企業)

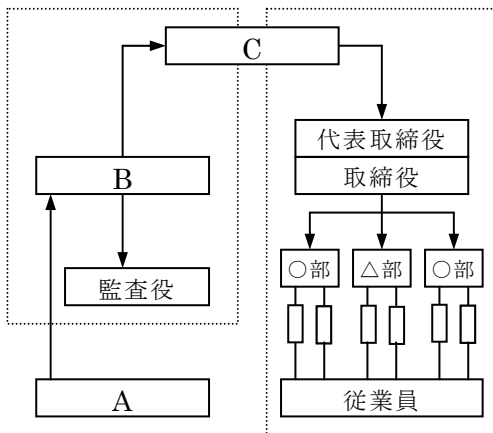
(4) 右の図は、下線部 c のしくみを表している。図を見て、次の問いに答えなさい。



- ① 図中の A は、株式を購入して資金を提供する人々である。A を何といいますか。(株主)
- ② 図中の A が会社のもうけに応じて受け取る分配金を何といいますか。(配当)
- ③ 図中の B は、会社の基本方針などを決定する場である。あてはまる語句を答えなさい。(株主総会)
- ④ 図中の C は、実際に株式会社の経営を行う人々の集まりである。あてはまる語句を答えなさい。(取締役会)

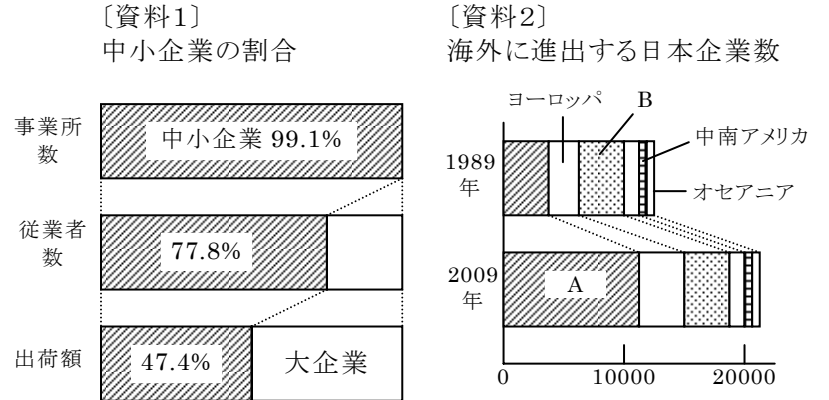
【2】 下の図は、株式会社のしくみを表したものです。これについて次の問いに答えなさい。

- (1) A は出資者を表しています。このしくみの企業では何といいますか。(株主)
- (2) B は出資者による意思決定機関です。これを何といいますか。(株主総会)



- (3) CはBで選任された役員による株式会社の執行機関です。これを何といいますか。(取締役会)
- (4) A が利潤の一部を受け取ることを何といいますか。(配当)

【3】 現代の日本の企業について、次の各問いに答えなさい。



- (1) [資料1]を見て次の問いに答えなさい。
- ① 日本で事業所数が多いのは大企業・中小企業のどちらですか。(中小企業)
- ② 大企業と中小企業を比較すると、従業者1人当たりの出荷額はどのような違いが見られますか。簡単に答えなさい。
[従業者1人当たりの出荷額は中小企業より大企業の方が多]
- (2) [資料2]を見て次の問いに答えなさい。
- ① 2009年で日本の企業が最も多く進出している地域Aはどこですか。(アジア)
- ② ①の地域に多くの日本企業が進出している理由を簡単に答えなさい。
[アジア地域の賃金が日本より安く生産費が抑えられるため]
- ③ [資料2]のように、日本の企業の中には外国の籍を持って活動する企業も多い。このような企業を何といいますか。(多国籍企業)

【4】 次の文を読んで、次の各問いに答えなさい。

労働者と使用者の関係は必ずしも対等ではない。そこで、労働者は(ア)を結成し、労働条件の改善などを使用者に要求するようになった。こうして、労働者の生活を豊かにし、労働災害を防止することなどがはかられてきた。

- (1) 文中の(ア)にあてはまる語句を答えなさい。(労働組合)
- (2) 下線部イのうち、過酷な勤務状態が原因で労働者が死亡することを何といいますか。(過労死)
- (3) 労働三法のうち、次の①・②をそれぞれ何といいますか。
- ① 労働条件や賃金の最低条件を定めたもの。(労働基準 法)
- ② 労働者が使用者と対等の立場に立つことを促進し、団体交渉する手続きを定めている。(労働組合法)
- (4) 労働者が働くことは、収入を得る以外にどんな意義があると考えられますか。
[自分の夢をかなえたり、生きがいを得る]