

裁判所と三権分立

(1) 裁判所の地位

① 司法権の独立…公正な裁判を行なうため、日本国憲法では司法権の独立を定めている。

ア すべて司法権は_____裁判所および法律で定める_____裁判所に属する。

イ 司法裁判所以外の特別裁判所は設置できない。

ウ 裁判官がその職務を行なうときに、いかなる国家機関からも干渉を受けない。

② 裁判官の身分保障…すべて裁判官は、その_____に従い独立して職権を行ない
_____および_____にのみ拘束される(第 76 条)

やめなければならないのは

ア 定年に達した場合。

イ 心身の故障により、裁判が行なえないとき。

ウ 国会の_____によって、罷免された場合。

エ _____によりやめさせられた場合。

(最高裁判所の裁判官のみ)

③ 裁判官の任命

最高裁判所…長官は_____が指名し、_____が任命する。その他の裁判官は内閣
が任命し、10 年ごとに_____を受ける。

下級裁判所…最高裁判所が指名した名簿によって_____が任命する。任期は 10 年。

④ 国民審査

_____裁判所の裁判官は、最初に任命された後と、その後 10 年を経るごとに国民審査を受ける。国民審査は、_____の総選挙際に行われる。過半数が不適格とした裁判官は辞めなければならない。

⑤ _____権

憲法は国の最高法規であり、これに反する法律・命令・規則・行政処分の無効を決定する権限を持っている。この権限はすべての裁判所が持っているが、最終的に最高裁判所で決定される。このため、最高裁判所は「_____」とよばれる。

(2) 裁判所のしくみ

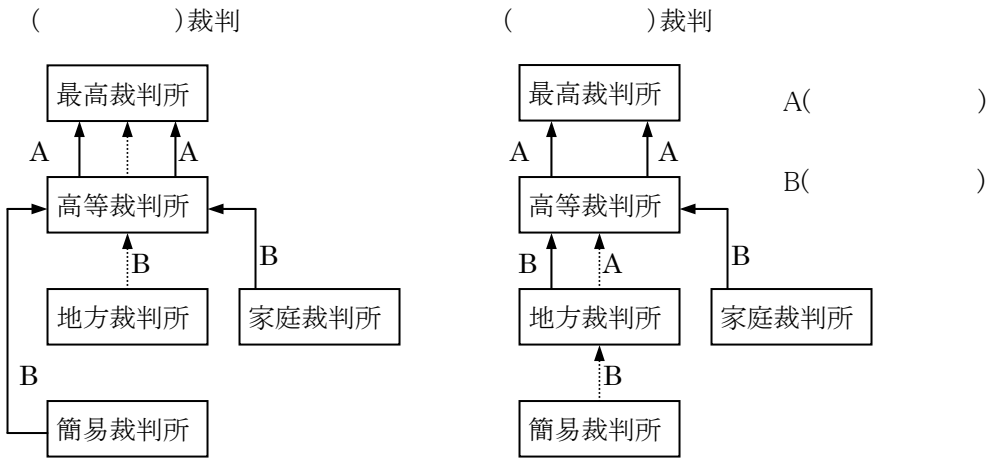
① 裁判所の種類…最高裁判所と下級裁判所(_____・_____・_____裁判所)

② _____… 裁判の公正・慎重をはかるため、第一審の判決に不服であれば、より上級の裁判所に_____し、さらに_____と、____回まで裁判のやり直しを求めることができる。

裁判所と三権分立

(3) 裁判の種類

- ① _____ …個人や団体(法人)の間の、権利や義務に関する争いについての裁判で、訴えた人を_____、訴えられた人を_____という。また、国や地方公共団体を訴える裁判を_____ (行政訴訟)という。
- ② _____ …法律で定められている犯罪に関する裁判で、警察が捜査し、_____ が起訴する。起訴された人を_____という。証言や物的証拠によって、有罪か無罪の判決が下され、有罪であれば法に照らして刑罰が科せられる。



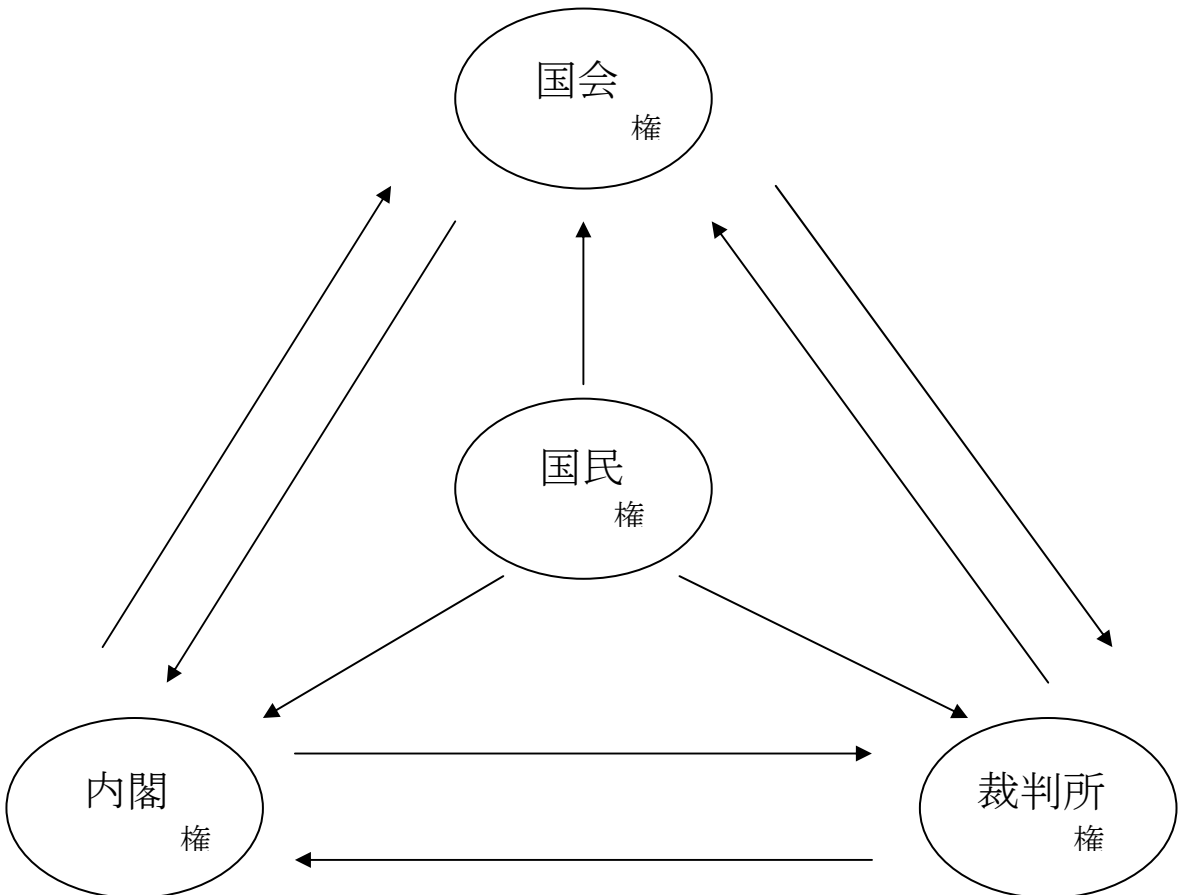
(4) 裁判と基本的人権

- ① 罪刑法定主義…犯罪や刑罰の内容は、すべて_____によって定められている。
- ② 捜査・逮捕における人権…_____の場合を除いて、裁判官による逮捕令状が必要。捜査においても、捜索令状・押収令状が必要。拷問・残虐な刑の禁止。また、_____権も認められている。
- ③ 刑事裁判と人権保障
- ア 裁判は公開
 - イ 証人喚問権
 - ウ 弁護人を依頼する権利、国選弁護人をつけてもらう権利。
 - エ 証拠裁判主義。_____だけでは有罪とならない。
- ④ 刑事補償請求権…被告人が無罪の判決を受けた場合、国に補償を求めることができる。
- ⑤ 再 審 … 裁判が確定した後、裁判の誤りがわかってやり直すこと。

裁判所と三権分立

(5) 裁判員制度と三権分立


- ① 司法制度改革…「法科大学院」が導入されたり、2009年度より重大な刑事事件に関する裁判では国民が参加する_____制度が導入されるなど改革が進められている。
- ② 三権分立… フランスの_____が著書「_____」で主張。国家権力を均衡・抑制させることで、権力の濫用を防ぎ、国民の権利や自由を守るしくみ。
- ③ 国会と内閣… 衆議院は、内閣に対する不信任の議案を可決、または信任案を否決することができる。この場合内閣は、_____以内に総辞職するか、_____しなければならない。
- ④ 国会と裁判所… 憲法は国の最高法規であり、これに反する法律・命令・規則・行政処分の無効を決定する権限を持っている。これを_____権という。この権限はすべての裁判所が持っているが、最終的に最高裁判所で決定される。このため、最高裁判所は「_____」とよばれる。



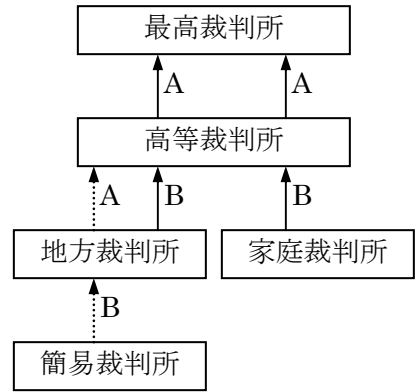
裁判所と三権分立

【1】下の図を見て、次の各問いに答えなさい。

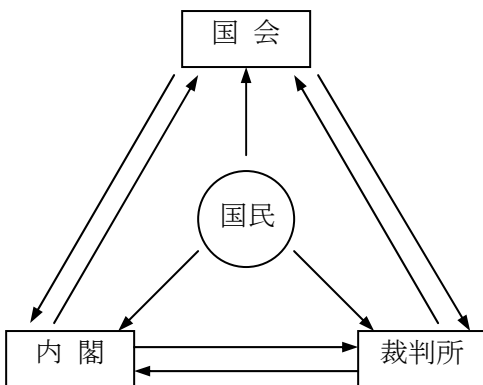
〔図1〕



〔図2〕



- ① 上の〔図1〕・〔図2〕はそれぞれどんな裁判について表した資料ですか。
- ② 〔図2〕のA・Bは、判決に不服がある場合に、より上級の裁判所に訴えることをあらわしている。A・Bをそれぞれ何といいますか。また、このように3回まで裁判のやりなおしができるしくみを何といいますか。
- ③ 〔図2〕の裁判で訴えた人、訴えられた人をそれぞれ何といいますか。
- ④ 裁判所がもつ法律・命令などが憲法に違反していないかを判断する権限を何といいますか。
- ⑤ わが国の三権分立のしくみをあらわす下の図の矢印にあてはまる内容をア～シよりすべて選び矢印のそばに書き入れなさい。



- (ア) 内閣総理大臣を指名する。
- (イ) 最高裁判所の裁判官を審査する
- (ウ) 内閣に対し不信任決議をする。
- (エ) 衆議院を解散する。
- (オ) 行政訴訟の終審裁判をおこなう。
- (カ) 国会議員の選挙をする。
- (キ) 裁判官を任命する。
- (ク) 裁判官を弾劾する。
- (ケ) 違憲立法の審査をする。
- (コ) 世論で政治を評価する。
- (サ) 最高裁判所の長官を指名する。
- (シ) 政令に対する違憲審査を行う。