

得点	演習問題			実施日	月 日	氏名	
	戦後の世界と日本 ④						

【1】 次の文を読んで、あとの問いに答えなさい。

敗戦後の日本の領土は、北海道・本州・四国・九州やその周りの島々に限られ、日本は連合国軍に占領された。また、(①) は本土と切りはなされて、アメリカが統治することになった。日本の政治は、アメリカの(②)を最高司令官とする連合国軍総司令部(GHQ)の指令のもとに進んでいった。

GHQは、まず(③)を解散させ、戦争犯罪を追究し、社会主義や共産主義の政党の活動を認めた。また、選挙法も改正され、(④)歳以上のすべての男女に選挙権があたえられた。


(1) 文中の()に当てはまる語句や数字、人名を答えなさい。

- ①() ②()
③() ④()

(2) 経済の民主化を進めるものとして、三井・三菱・住友・安田などの大資本家に対して行われたことは何ですか。

()

(3) 下のグラフは、1930年と1950年における自作・小作別の農家の割合を示したものである。この20年間での数値の変化は、この間にGHQによってある大きな改革が行われた結果である。この改革を何とといいますか。



(4) (3)の改革によって、1950年の自作農は、1930年の約何倍に増加していますか。

()

(5) GHQの指示により、日本政府は日本国憲法を制定し、公布・施行した。この憲法について述べた文として正しくないものを、次のア～エの中から選びなさい。

- ア 1946年5月3日に公布され、1947年11月3日から施行された。
- イ 国民主権・基本的人権の尊重・戦争放棄(平和主義)を原則としている。
- ウ 天皇の地位は、日本国ならびに日本国民統合の象徴としている。
- エ GHQによって示された改正案にもとづいて制定された。

(6) 1951年に開かれた講和会議で日本は独立を果たしましたが、これについて次の問いに答えなさい。

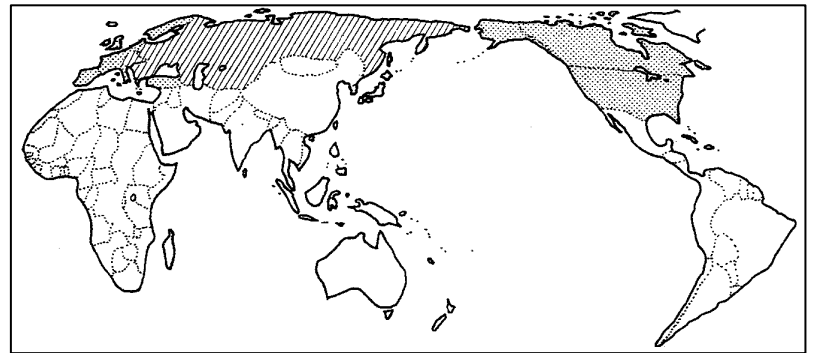
① 講和会議で結ばれた条約を何とといいますか。

()

② ①とともに日本がアメリカと結んだ、アメリカ軍の日本駐留を認めた条約を何とといいますか。

()

【2】 次の地図を見て、後の問いに答えなさい。



(1) 地図 I 中に [点線] で示した国々について、次の問いに答えよ。

① この国々が形成している軍事同盟を何とといいますか。 ()

② ①の軍事同盟の中心となっている国はどこですか。 ()

(2) 地図 I 中に [斜線] で示した国々について、次の問いに答えよ。

① この国々が形成している軍事同盟を何とといいますか。 ()

② ①の軍事同盟の中心となっている国はどこですか。 ()

(3) 第二次世界大戦後の世界は、資本主義国と社会主義国の2つの陣営がはげしく対立していた、この対立によって1950年にアジアでおこった戦争について、次の問いに答えよ。

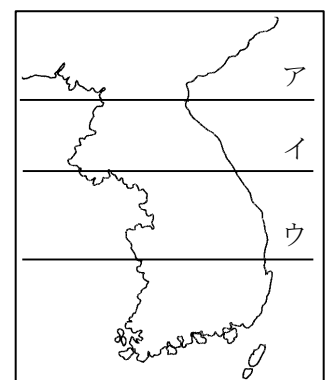
① この戦争を何とといいますか。 ()

② この戦争をおこした2国は、以前は同一国でありながら、日本の敗戦後は北緯38度線を境に分裂していた。北緯38度線を、右下の地図中のア～ウの中から選びなさい。 ()

③ この戦争をおこした2国のうち、資本主義政策をとっている国を何とといいますか。正式な国名を答えなさい。

()

④ この戦争のころ、GHQの指令で、日本を防衛するためにある組織がつくられた。1954年に自衛隊となったこの組織を何とといいますか。 ()



⑤ この戦争によって日本は好景気をむかえ、戦後の復興をはじめた。これを特需というが、この戦争中に日本が好景気となった理由を簡単に書きなさい。

[]

得点	演習問題〔解答〕			実施日	月 日	氏名
	戦後の世界と日本 ④					

【1】 次の文を読んで、あとの問いに答えなさい。

敗戦後の日本の領土は、北海道・本州・四国・九州やその周りの島々に限られ、日本は連合軍に占領された。また、(①) は本土と切りはなされて、アメリカが統治することになった。日本の政治は、アメリカの(②)を最高司令官とする連合軍総司令部(GHQ)の指令のもとに進んでいった。

GHQ は、まず(③)を解散させ、戦争犯罪を追究し、社会主義や共産主義の政党の活動を認めた。また、選挙法も改正され、(④)歳以上のすべての男女に選挙権があたえられた。

(1) 文中の()に当てはまる語句や数字、人名を答えなさい。


- ①(沖縄) ②(マッカーサー)
 ③(軍隊) ④(20)

(2) 経済の民主化を進めるものとして、三井・三菱・住友・安田などの大資本家に対して行われたことは何ですか。

(財閥解体)

(3) 下のグラフは、1930 年と 1950 年における自作・小作別の農家の割合を示したものである。この 20 年間での数値の変化は、この間に GHQ によってある大きな改革が行われた結果である。この改革を何といますか。

(農地改革)



(4) (3)の改革によって、1950 年の自作農は、1930 年の約何倍に増加していますか。

(2 倍)

(5) GHQ の指示により、日本政府は日本国憲法を制定し、公布・施行した。この憲法について述べた文として正しくないものを、次のア～エの中から選びなさい。

(ア)

ア 1946 年 5 月 3 日に公布され、1947 年 11 月 3 日から施行された。

イ 国民主権・基本的人権の尊重・戦争放棄(平和主義)を原則としている。

ウ 天皇の地位は、日本国ならびに日本国民統合の象徴として

いる。

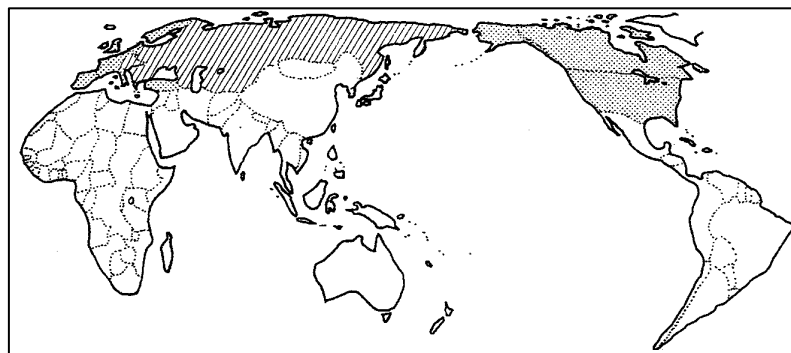
エ GHQ によって示された改正案にもとづいて制定された。

(6) 1951年に開かれた講和会議で日本は独立を果たしましたが、これについて次の問いに答えなさい。

① 講和会議で結ばれた条約を何といますか。
(サンフランシスコ平和条約)

② ①とともに日本がアメリカと結んだ、アメリカ軍の日本駐留を認めた条約を何といますか。(日米安全保障条約)

【2】 次の地図を見て、後の問いに答えなさい。



(1) 地図 I 中に []で示した国々について、次の問いに答えよ。

① この国々が形成している軍事同盟を何といますか。
(北大西洋条約機構)

② ①の軍事同盟の中心となっている国はどこですか。
(アメリカ)

(2) 地図 I 中に []で示した国々について、次の問いに答えよ。

① この国々が形成している軍事同盟を何といますか。
(ワルシャワ条約機構)

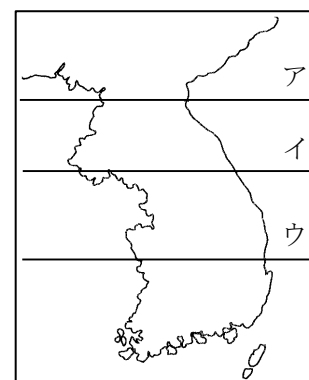
② ①の軍事同盟の中心となっている国はどこですか。
(ソビエト連邦)

(3) 第二次世界大戦後の世界は、資本主義国と社会主義国の 2 つの陣営がはげしく対立していた、この対立によって 1950 年にアジアでおこった戦争について、次の問いに答えよ。

① この戦争を何といますか。(朝鮮戦争)

② この戦争をおこした 2 国は、以前は同一国でありながら、日本の敗戦後は北緯 38 度線を境に分裂していた。北緯 38 度線を、右下の地図中のア～ウの中から選びなさい。
(イ)

③ この戦争をおこした 2 国のうち、資本主義政策をとっている国を何といますか。正式な国名を答えなさい。
(大韓民国)



④ この戦争のころ、GHQ の指令で、日本を防衛するためにある組織がつくられた。1954 年に自衛隊となったこの組織を何といますか。(警察予備隊)

⑤ この戦争によって日本は好景気をむかえ、戦後の復興をはじめた。これを特需というが、この戦争中に日本が好景気となった理由を簡単に書きなさい。

[戦争に必要な物資を日本に注文したため]