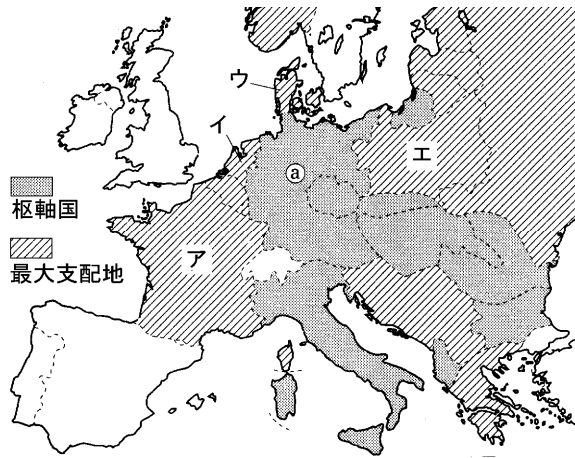


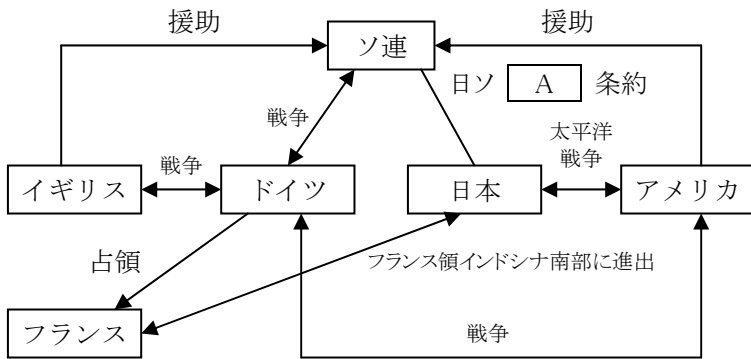
得点	演習問題			実施日	月 日	氏名
	第2次世界大戦 ⑩					

【1】 次の地図と図を見て、あとの問いに答えなさい。

〔地図〕



〔図〕



- ヨーロッパにおける枢軸国の中心となっていたのは、上の地図中の①国である。この当時の国の指導者はだれでしたか。また、この人物が率いていた政党名も答えなさい。
人物() 政党()
- 第二次世界大戦は、①国が隣国に侵入したことから始まったが、この隣国とはどこですか。上の地図中のア～エの中から選び、その記号と国名を答えなさい。
記号() 国名()
- 第二次世界大戦直前、①国は、①国よりも東方のある国をもっとも警戒し、不可侵条約を結んだ。しかし、1941年には、①国はその国へも侵入し、戦いが始まった。この、東方のある国とはどこですか。上の図の中から選び、その国名を答えなさい。
()
- 次の文は、第二次世界大戦中の①国のように述べたものである、文中の()①・②に当てはまる語句を答えなさい。
①() ②()

①国はヨーロッパの大半を支配し、反抗する者をきびしく弾圧したり、占領地の住民を本国に強制的に連れて行って、工場などできびしい労働に従事させたりした、また、(①)人を収容所に連行して労働で過酷に扱ったのち、ガス室などで大量に殺害した、こうした①国による過酷な占領政策に対して、ヨーロッパでは、正規軍ばかりでなく一般の人々も、(②)とよばれる武力抵抗などを行っていた。

- 上の図中の **A** に当てはまる語句を、漢字2字で答えなさい。
()

【2】 次の地図をみて、後のそれぞれの問いに答えなさい。

- 次の文中の①・②にあてはまる語を答えなさい。

太平洋戦争は、第二次世界大戦中の太平洋地域でおこった戦争である。日本と(①)は、1937年以来(②)を続けていた。(①)を支援する物資が欧米から東南アジアを経由していたため、日本は、1940年にその地域に侵攻を開始した。

- ①()
- ②()



- 1940年、日本がドイツ・イタリアと結んだ軍事同盟を何といいますか。
()
- 日本は東南アジアに進出するにあたって北方のある国と条約を結んだ。これを何といいますか。
()
- 日本の東南アジア侵攻は、ある国と対立関係を生じさせた。その国を地図中のア～エから選び、記号と国名を答えなさい。また、その国が植民地化していたアジアの国の名前を答えなさい。
対立した国(記号) 国名()
植民地()
- 太平洋戦争の開戦を決めた、当時の日本の首相の名を答えなさい。
()
- 地図中の△の地域は、1941年、日本が太平洋戦争開始と同時に攻撃した場所を示している。この a の島と、b の半島の名を答えなさい。
a() b()
- 地図中の **|||||** は、第二次世界大戦における日本の侵攻地域を示している。日本がこれらの地域で孤立したり、撤退したりするきっかけとなった海戦の場所を、地図中の c～f から選び、その地名を答えなさい。
記号() 地名()
- 地図中の▲は、アメリカ軍の反攻場所を示している。日本における初の地上戦となった島を地図中の c～f から選び、その島の名を答えなさい。
記号() 地名()
- 1945年、米英ソと中国によって発表された、日本への降伏勧告の名を答えなさい。
()
- 次の文中の①・②にあてはまる語を答えなさい。

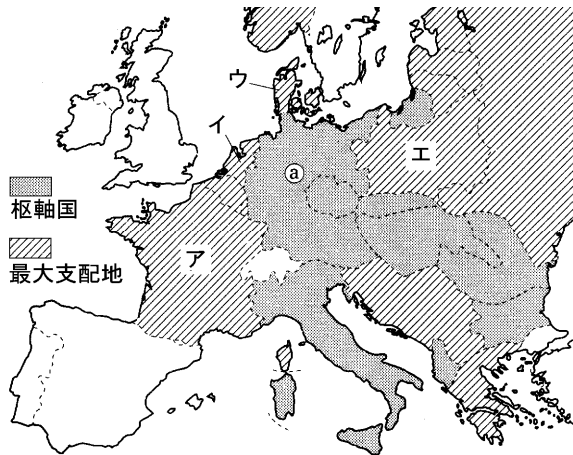
1943年に(①)が、1945年5月には(②)が、同年8月には日本が、図中アの国の参戦によって降伏し、第二次世界大戦は終わった。

- ①() ②()

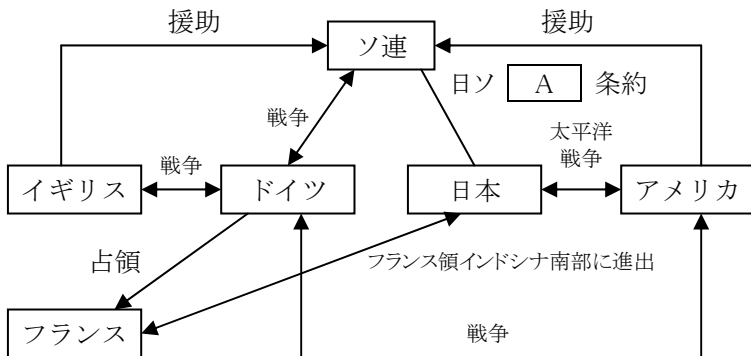
得点	演習問題〔解答〕	実施日	月 日	氏名

【1】次の地図と図を見て、あとの問いに答えなさい。

〔地図〕



〔図〕



- ヨーロッパにおける枢軸国の中心となっていたのは、上の地図中の①国である。この当時の国の指導者はだれでしたか。また、この人物が率いていた政党名も答えなさい。
人物(ヒトラー) 政党(ナチス)
- 第二次世界大戦は、①国が隣国に侵入したことから始まったが、この隣国とはどこですか。上の地図中のア～エの中から選び、その記号と国名を答えなさい。
記号(エ) 国名(ポーランド)
- 第二次世界大戦直前、①国は、①国よりも東方のある国をもっとも警戒し、不可侵条約を結んだ。しかし、1941年には、①国はその国へも侵入し、戦いが始まった。この、東方のある国とはどこですか。上の図の中から選び、その国名を答えなさい。
(ソ連)
- 次の文は、第二次世界大戦中の①国のようなすについて述べたものである、文中の()①・②に当てはまる語句を答えなさい。
①(ユダヤ) ②(レジスタンス)

①国はヨーロッパの大半を支配し、反抗する者をきびしく弾圧したり、占領地の住民を本国に強制的に連れて行って、工場などできびしい労働に従事させたりした、また、(①)人を収容所に連行して労働で働かしたのち、ガス室などで大量に殺害した、こうした①国による過酷な占領政策に対して、ヨーロッパでは、正規軍ばかりでなく一般の人々も、(②)とよばれる武力抵抗などを行っていた。

- 上の図中の [A] に当てはまる語句を、漢字2字で答えなさい。
(中立)

【2】次の地図をみて、後のそれぞれの問いに答えなさい。

- 次の文中の①・②にあてはまる語を答えなさい。

太平洋戦争は、第二次世界大戦中の太平洋地域でおこった戦争である。日本と(①)は、1937年以来(②)を続けていた。(①)を支援する物資が欧米から東南アジアを経由していたため、日本は、1940年にその地域に侵攻を開始した。

- (中国)
- (日中戦争)



- 1940年、日本がドイツ・イタリアと結んだ軍事同盟を何といいますか。
(日独伊三国軍事同盟)
- 日本は東南アジアに進出するにあたって北方のある国と条約を結んだ。これを何といいますか。
(日ソ中立条約)
- 日本の東南アジア侵攻は、ある国と対立関係を生じさせた。その国を地図中のア～エから選び、記号と国名を答えなさい。また、その国が植民地化していたアジアの国の名前を答えなさい。

対立した国(記号 エ 国名 アメリカ)
植民地(フィリピン)

- 太平洋戦争の開戦を決めた、当時の日本の首相の名を答えなさい。
(東条英機)
- 地図中の△の地域は、1941年、日本が太平洋戦争開始と同時に攻撃した場所を示している。この a の島と、b の半島の名を答えなさい。
a(ハワイ) b(マレー半島)

- 地図中の |||| は、第二次世界大戦における日本の侵攻地域を示している。日本がこれらの地域で孤立したり、撤退したりするきっかけとなった海戦の場所を、地図中の c～f から選び、その地名を答えなさい。
記号(c) 地名(ミッドウェー)

- 地図中の▲は、アメリカ軍の反攻場所を示している。日本における初の地上戦となった島を地図中の c～f から選び、その島の名を答えなさい。
記号(e) 地名(沖縄)

- 1945年、米英ソと中国によって発表された、日本への降伏勧告の名を答えなさい。
(ポツダム宣言)

- 次の文中の①・②にあてはまる語を答えなさい。

1943年に(①)が、1945年5月には(②)が、同年8月には日本が、図中アの国の参戦によって降伏し、第二次世界大戦は終わった。

- (イタリア) ②(ドイツ)