

得点	演習問題	実施日	月 日	氏名

【1】年表および資料を見て、次の問いに答えなさい。

西暦	おもなできごと
1868	新政府が a <u>新しい政治の方針</u> を定める 江戸を(①)と改称する 年号を(②)に改める
1869	首都を(①)に定める b <u>大名に土地と人民を返させる</u>
1871	c <u>藩のかわりに府・県をおく</u> d <u>差別的な呼び名をなくす</u>

- (1) 年表の①と②にあてはまる語句を答えなさい。
①() ②()
- (2) この年表にあるように新政府は江戸幕府をたおしたあと近代的改革を進めた。この改革のことを何といいますか。
()
- (3) 下の資料は、下線部aを示したものである。

一、 廣ク會議ヲ興シ万機公論ニ決スヘシ
一、 上下心ヲ一ニシテ盛ニ經綸ヲオコナフヘシ
一、 官武一途庶民ニ至ル迄、各其志ヲ遂ケ人心ヲシテ倦マサラシメンコトヲ要ス
一、 旧来ノ陋習ヲ破リ、天地ノ公道ニ基クヘシ


- ① 資料を何といいますか。 ()
- ② 次のア～ウのうち、資料にあてはまらないものを選びなさい。
()
- ア 古くからの習慣や道徳は尊重して政治を行う。
イ 会議を開き、世論を大切にして政治を行う。
ウ 外国との交際を深め、知識は世界から求める。
- (4) 下線部bについて、次の問いに答えなさい。
① このことを何といいますか。 ()
- ② 次のア～ウのうち、下線部bを行ったあとの状況について、あてはまらないものを選びなさい。
()
- ア 旧藩主はそのまま藩政に当たり、年貢の徴収を行った。
イ 藩政は政府から任命された役人が行い、旧藩主は権限を失った。
ウ 新政府は農民からきびしく年貢を取り立てたので、一揆がおきた。
- (5) 下線部cについて、次の問いに答えなさい。
① このことを何といいますか。 ()
- ② 中央から派遣され、府・県を治めた役職名をそれぞれ答えなさい。
府() 県()
- ③ 同時に中央政府のしくみが強化された。政府の最高機関は何ですか。 ()
- (6) 下線部 d について、このとき出された法令を何といいますか。
()

【2】次の表は、三大改革の内容をまとめたものである。これについて次の問いに答えなさい。

西暦	改革	内容
1872	(A)を公布	(①)歳以上の男女すべてが小学校教育を受ける
1873	(B)を出す	満(②)歳以上に達した男子すべてが兵役の義務を負う
1873	(C)を行う	近代的な土地所有権を認め、新しい税制を定める

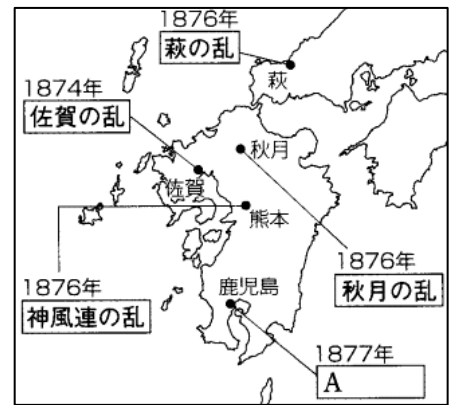
- (1) A～C にあてはまる語句を書きなさい。
A() B() C()
- (2) ①と②にあてはまる数字を書きなさい。
①() ②()
- (3) 右の資料は C の改革で発行されたものである。次の文の①～④にあてはまる語句や数字を書きなさい。

- ①()
②()
③()
④()



この資料は(①)で、土地の所有権を証明している。土地の面積と所有者名とともに、土地の価格である(②)の額が記されている。さらに(②)に対する税率が記されており、それは最初は(③)%だったが、のちに(④)%に引き下げられたことがわかる。

【3】右の地図は明治の初期におこった土族の反乱を表したものです。これについて次の問いに答えなさい。



- (1) 右の地図にあるように西日本を中心に土族が反乱を起こした。当時政府にあって専制的な政治を行っていた人物の名を書きなさい。
()
- (2) 地図中の鹿児島でAという最も大規模な反乱が起きた。
①Aの反乱の名を書きなさい。 ()
②反乱を指導した人物の名を書きなさい。
()
- (3) Aの反乱を指導した人物とともに参議を辞職し、その後の民権運動の中心となった人物の名を書きなさい。
()
- (4) (3)の人物らが、1874年に左院に提出した建白書を何といいますか。
()

得点	演習問題〔解答〕	実施日	氏名

【1】年表および資料を見て、次の問いに答えなさい。

西暦	おもなできごと
1868	新政府が a <u>新しい政治の方針</u> を定める 江戸を(①)と改称する
1869	年号を(②)に改める 首都を(①)に定める
1871	b <u>大名に土地と人民を返させる</u> c <u>藩のかわりに府・県をおく</u> d <u>差別的な呼び名をなくす</u>

- (1) 年表の①と②にあてはまる語句を答えなさい。
①(**東京**) ②(**明治**)
- (2) この年表にあるように新政府は江戸幕府をたおしたあと近代的改革を進めた。この改革のことを何といますか。
(**明治維新**)
- (3) 下の資料は、下線部aを示したものである。

一、 広ク會議ヲ興シ万機公論ニ決スヘシ
一、 上下心ヲ一ニシテ盛ニ經綸ヲオコナフヘシ
一、 官武一途庶民ニ至ル迄、各其志ヲ遂ケ人心ヲシテ倦マサラシメンコトヲ要ス
一、 旧来ノ陋習ヲ破リ、天地ノ公道ニ基クヘシ


- ① 資料を何といますか。 (**五箇条の御誓文**)
- ② 次のア～ウのうち、資料にあてはまらないものを選びなさい。
(**ア**)
ア 古くからの習慣や道徳は尊重して政治を行う。
イ 会議を開き、世論を大切にして政治を行う。
ウ 外国との交際を深め、知識は世界から求める。
- (4) 下線部bについて、次の問いに答えなさい。
① このことを何といますか。 (**版籍奉還**)
- ② 次のア～ウのうち、下線部bを行ったあとの状況について、あてはまらないものを選びなさい。
(**イ**)
ア 旧藩主はそのまま藩政に当たり、年貢の徴収を行った。
イ 藩政は政府から任命された役人が行い、旧藩主は権限を失った。
ウ 新政府は農民からきびしく年貢を取り立てたので、一揆がおきた。
- (5) 下線部cについて、次の問いに答えなさい。
① このことを何といますか。 (**廃藩置県**)
- ② 中央から派遣され、府・県を治めた役職名をそれぞれ答えなさい。
府(**府知事**) 県(**県令**)
- ③ 同時に中央政府のしくみが強化された。政府の最高機関は何ですか。
(**太政官**)
- (6) 下線部dについて、このとき出された法令を何といますか。
(**解放令**)

【2】次の表は、三大改革の内容をまとめたものである。これについて次の問いに答えなさい。

西暦	改革	内容
1872	(A)を公布	(①)歳以上の男女すべてが小学校教育を受ける
1873	(B)を出す	満(②)歳以上に達した男子すべてが兵役の義務を負う
1873	(C)を行う	近代的な土地所有権を認め、新しい税制を定める

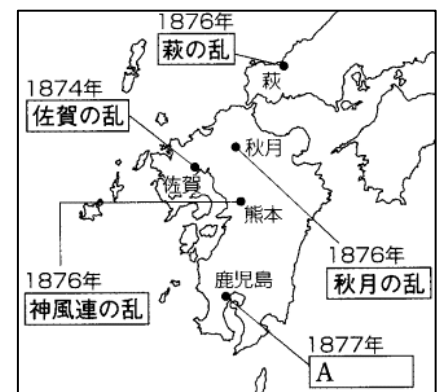
- (1) A～C にあてはまる語句を書きなさい。
A(**学制**) B(**徴兵令**) C(**地租改正**)
- (2) ①と②にあてはまる数字を書きなさい。
①(**6**) ②(**20**)
- (3) 右の資料は C の改革で発行されたものである。次の文の①～④にあてはまる語句や数字を書きなさい。

- ①(**地券**)
②(**地価**)
③(**3**)
④(**2.5**)



この資料は(①)で、土地の所有権を証明している。土地の面積と所有者名とともに、土地の価格である(②)の額が記されている。さらに(②)に対する税率が記されており、それは最初は(③)%だったが、のちに(④)%に引き下げられたことがわかる。

【3】右の地図は明治の初期におこった土族の反乱を表したものです。これについて次の問いに答えなさい。



- (1) 右の地図にあるように西日本を中心に土族が反乱を起こした。当時政府にあって専制的な政治を行っていた人物の名を書きなさい。
(**大久保利通**)
- (2) 地図中の鹿児島でAという最も大規模な反乱が起きた。
①Aの反乱の名を書きなさい。 (**西南の役**)
②反乱を指導した人物の名を書きなさい。
(**西郷隆盛**)
- (3) Aの反乱を指導した人物とともに参議を辞職し、その後の民権運動の中心となった人物の名を書きなさい。
(**板垣退助**)
- (4) (3)の人物らが、1874年に左院に提出した建白書を何といますか。
(**民選議院設立建白書**)