

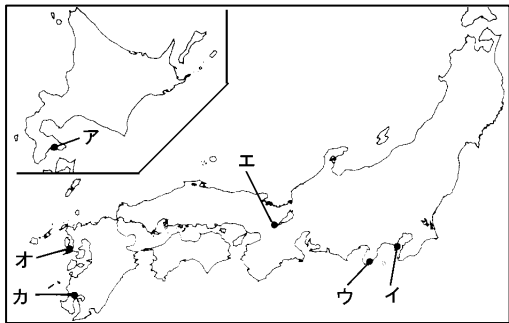
得点	演習問題	実施日	月 日	氏名

【1】下の略年表を見て、次の問いに答えなさい。

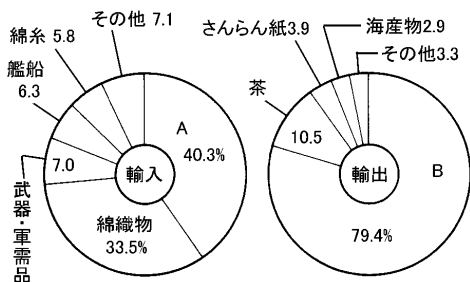
西暦	日本のおもなできごと
1825	外国船打払令が出される
1841	(①)の天保の改革が始まる
1854	(②)条約を結ぶ
1858	井伊直弼が大老となる……………A (③)条約を結ぶ 尊王攘夷運動が盛んになる……………B
1864	4か国連合艦隊が下関砲台を占領……………C
1867	(④)により江戸幕府が滅びる 王政復古の号令が出される……………D

- (1) 年表中の①～④にあてはまる語句を答えなさい。
 ①() ②()
 ③() ④()
- (2) A について、次の問いに答えなさい。
 ① 井伊直弼が、幕府の政策に反対する武士や公家を処罰した事件を何といいますか。()
 ② 井伊直弼は水戸・薩摩両藩の浪士らにより暗殺されたが、このできごとを何といいますか。()
- (3) B の尊王攘夷運動が盛んであった西国の二藩はどこですか。()
- (4) C のできごとをおこした4か国とは、アメリカ・イギリス・オランダと もう一つはどここの国ですか。()
- (5) D によって即位した天皇はだれですか。()

【2】下の地図とグラフを参考にして、次の問いに答えなさい。



- (1) 次のことがらに関係の深い場所を地図中から選び、記号で答えなさい。
- ① 1853年、東インド艦隊司令長官ペリーが4隻の軍艦をひきいて来航した。()
- ② 1854年、日本とアメリカとのあいだに結ばれた条約の結果、開港された。(二つ答えなさい) () ()
- (2) 開国の後、下のグラフのような輸出入品が取り引きされた、グラフを見て、次の問いに答えなさい。



- ① グラフ中のA・Bにあてはまる品目をそれぞれ答えなさい。
 A() B()
- ② 開国の影響について説明した次の文の()に適切な語句を答えなさい。
- 開国によって貿易が始まると、グラフ中のAや綿織物・武器などが輸入され、グラフ中のBや茶・海産物などが盛んに輸出された。そのため(ア)業や製茶業を中心に(イ)工業(マニュファクチュア)が盛んとなったが、生産が輸出に追いつかず、国内の物資は不足した。また、金が国外へ流出したので、幕府は質の悪い貨幣を大量につくった。その結果、物価はいちじるしく(ウ)して、下級武士や民衆の生活は苦しくなった。民衆のあいだでは(エ)や(オ)が盛んに起こり、社会不安がひどくなった。
- ア() イ() ウ()
 エ() オ()

【3】次の資料を読み、あとの問いに答えなさい。

第3条 下田・函館のほか、神奈川・長崎・新潟・()の港を開く。
 第4条 すべて日本に対する輸入輸出の品々は、別冊の通り、日本の役所へ関税を納めること。
 第6条 日本人に対して罪を犯したアメリカ人は、アメリカ領事裁判所で裁判し、アメリカの法によって罰する。

- (1) 上の資料は、何の条約の一部ですか。() 条約)
- (2) 第3条の()にあてはまる語句を答えなさい。()
- (3) 第4条は、日本がアメリカに対して、何を失っていることを意味しているか。()
- (4) 第6条は、日本がアメリカに対して、何を認めていることを意味しているか。()
- (5) この条約が結ばれたのちの、薩摩・長州の両藩の動きについて、次の問いに答えなさい。
- ① 下関事件の敗北によって、長州藩の攘夷派は欧米の列国を相手に攘夷を実行することが不可能であることを知り、ヨーロッパのある国に接近して藩の軍備などの近代化をはかるようになった。長州藩が接近したヨーロッパの国はどこですか。()
- ② 1862年江戸から京都へ向かう途中、薩摩藩士がイギリス人を殺傷した事件をおこしたが、この事件を何といいますか。()
- ③ この事件のあった翌年、イギリスは鹿児島を攻撃しているが、この戦争を何といいますか。()
- ④ 下関事件や③の戦争ののち、薩・長両藩の世論は、尊王攘夷運動からどのような運動へと変化していききましたか。()
- (6) 薩長同盟を結ばせた土佐藩出身の武士はだれですか。()
- (7) 世の中の動きを考え、政権を朝廷に返上することを申し出た、徳川幕府最後の将軍はだれですか。()

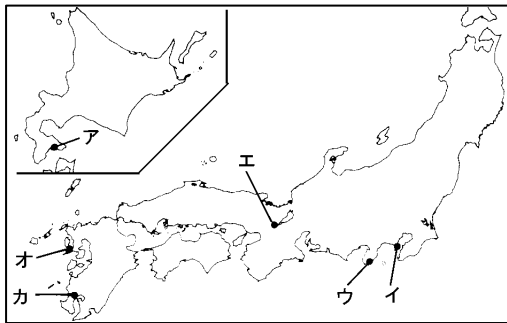
得点	演習問題〔解答〕	実施日	月 日	氏名

【1】下の略年表を見て、次の問いに答えなさい。

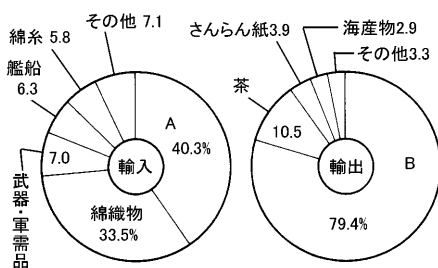
西暦	日本のおもなできごと
1825	外国船打払令が出される
1841	(①)の天保の改革が始まる
1854	(②)条約を結ぶ
1858	井伊直弼が大老となる……………A (③)条約を結ぶ 尊王攘夷運動が盛んになる……………B
1864	4か国連合艦隊が下関砲台を占領……………C
1867	(④)により江戸幕府が滅びる 王政復古の号令が出される……………D

- (1) 年表中の①～④にあてはまる語句を答えなさい。
 ①(水野忠邦) ②(日米和親)
 ③(日米修好通商) ④(大政奉還)
- (2) A について、次の問いに答えなさい。
 ① 井伊直弼が、幕府の政策に反対する武士や公家を処罰した事件を何といいますか。(安政の大獄)
 ② 井伊直弼は水戸・薩摩両藩の浪士らにより暗殺されたが、このできごとを何といいますか。(桜田門外の変)
- (3) B の尊王攘夷運動が盛んであった西国の二藩はどこですか。(薩摩・長州)
- (4) C のできごとをおこした4か国とは、アメリカ・イギリス・オランダと もう一つはこの国ですか。(フランス)
- (5) D によって即位した天皇はだれですか。(明治天皇)

【2】下の地図とグラフを参考にして、次の問いに答えなさい。



- (1) 次のことがらに関係の深い場所を地図中から選び、記号で答えなさい。
- ① 1853年、東インド艦隊司令長官ペリーが4隻の軍艦をひきいて来航した。(イ)
- ② 1854年、日本とアメリカとのあいだに結ばれた条約の結果、開港された。(二つ答えなさい) (ア)(ウ)
- (2) 開国の後、下のグラフのような輸出入品が取り引きされた、グラフを見て、次の問いに答えなさい。



- ① グラフ中のA・Bにあてはまる品目をそれぞれ答えなさい。
 A(毛織物) B(生糸)
- ② 開国の影響について説明した次の文の()に適切な語句を答えなさい。
- 開国によって貿易が始まると、グラフ中のAや綿織物・武器などが輸入され、グラフ中のBや茶・海産物などが盛んに輸出された。そのため(ア)業や製茶業を中心に(イ)工業(マニュファクチュア)が盛んとなったが、生産が輸出に追いつかず、国内の物資は不足した。また、金が国外へ流出したので、幕府は質の悪い貨幣を大量につくった。その結果、物価はいちじるしく(ウ)して、下級武士や民衆の生活は苦しくなった。民衆のあいだでは(エ)や(オ)が盛んにおこり、社会不安がひどくなった。
- ア(養蚕) イ(工場制手) ウ(上昇)
 エ(百姓一揆) オ(打ちこわし)

【3】次の資料を読み、あとの問いに答えなさい。

第3条 下田・函館のほか、神奈川・長崎・新潟・()の港を開く。
 第4条 すべて日本に対する輸入輸出の品々は、別冊の通り、日本の役所へ関税を納めること。
 第6条 日本人に対して罪を犯したアメリカ人は、アメリカ領事裁判所で裁判し、アメリカの法によって罰する。

- (1) 上の資料は、何の条約の一部ですか。
 (日米修好通商 条約)
- (2) 第3条の()にあてはまる語句を答えなさい。
 (神戸)
- (3) 第4条は、日本がアメリカに対して、何を失っていることを意味しているか。
 (関税自主権)
- (4) 第6条は、日本がアメリカに対して、何を認めていることを意味しているか。
 (治外法権(領事裁判権))
- (5) この条約が結ばれたのちの、薩摩・長州の両藩の動きについて、次の問いに答えなさい。
- ① 下関事件の敗北によって、長州藩の攘夷派は欧米の列国を相手に攘夷を実行することが不可能であることを知り、ヨーロッパのある国に接近して藩の軍備などの近代化をはかるようになった。長州藩が接近したヨーロッパの国はどこですか。
 (イギリス)
- ② 1862年江戸から京都へ向かう途中、薩摩藩士がイギリス人を殺傷した事件をおこしたが、この事件を何といいますか。
 (生麦事件)
- ③ この事件のあった翌年、イギリスは鹿児島を攻撃しているが、この戦争を何といいますか。
 (薩英戦争)
- ④ 下関事件や③の戦争ののち、薩・長両藩の世論は、尊王攘夷運動からどのような運動へと変化していききましたか。
 (尊王倒幕運動)
- (6) 薩長同盟を結ばせた土佐藩出身の武士はだれですか。
 (坂本竜馬)
- (7) 世の中の動きを考え、政権を朝廷に返上することを申し出た、徳川幕府最後の将軍はだれですか。(徳川慶喜)