

得点	演習問題	ヨーロッパの近代化 ①	実施日	月 日	氏名

【1】下の年表をみて、次の問いに答えなさい。


西暦	おもなできごと
1588	イギリスがスペインの無敵艦隊をやぶる <イギリスの海外進出>
1640	ピューリタン〔清教徒〕革命がおこる……………A
1688	イギリスで(①)革命がおこる
1760 頃	産業革命がはじまる……………B
1775	アメリカで(②)戦争が始まる
1789	市民がバスチーユ牢獄を襲撃……………C
1814	ウィーン会議が始まる
1840	(③)戦争がおこる……………D
1858	セポイの反乱でムガル帝国がほろびる
1861	アメリカ南北戦争

(1) ①～③にあてはまる語句を答えなさい。

①()②()③()

(2) A の革命はどこのおこりましたか。()

(3) B の産業革命がおこるきっかけになった右の蒸気機関を改良した人物はだれですか。()



(4) C がきっかけとなって同年始まった革命を何といいますか。()

(5) D の戦争について、問いに答えなさい。

① この戦争は、イギリスとどこの国の間でおこりましたか。()

② この戦争の結果、イギリスとの間で結んだ不平等条約を何といいますか。()

③ この条約によって、イギリスに領土がゆずられたが、それはどこですか。()

【2】下の資料をみて、次の問いに答えなさい。

- A われわれは、次の真理を自明なものとして認める。すべての人は平等に造られ、その造り主によって一定のゆるることのできない権利を与えられ、そのなかに生命・自由および幸福の追求が含まれること。
- B 1 国王は、国会の承認なしに法律の効力を停止し、または法律の執行を停止しうる権限があると称しているが、そのようなことは違法である。
- C 1 人は生まれながら自由で平等な権利をもつ、社会的な差別は、公共の利益の上のみ設けることができる。
3 あらゆる主権の原理は、本質的に国民のなかにある。

(1) 17～18 世紀にかけて、都市の商工業者や議会が中心となって絶対王政を打ちたおした革命を何といいますか。()

(2) A の資料について、問いに答えなさい。

① この資料を何といいますか。()

② この資料がつくられたのはいつか。()

③ この資料は、何という戦争を正当化するために出されたものですか。()

(3) B の資料について、問いに答えなさい。

① この資料を何といいますか。()

② この資料が出される前年、議会は国王をフランスに追放しているが、このできごとを何といいますか。()

③ この革命がおこったのは何年ですか。(年)

(4) C の資料について、問いに答えなさい。

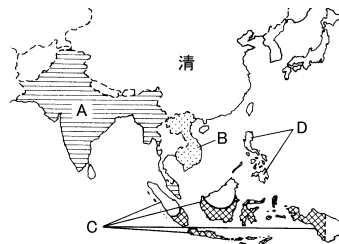
① この資料は、フランス国民議会によって出されたが、これを何といいますか。()

② この資料が出されたときの革命を何といいますか。()

【3】次の問いに答えなさい。

(1) 左下の地図中の A～D は、19世紀ごろまでに欧米の先進国が植民地にした地域である、A～D を植民地にした国の名を答えなさい。 A() B() C() D()

〔地図〕



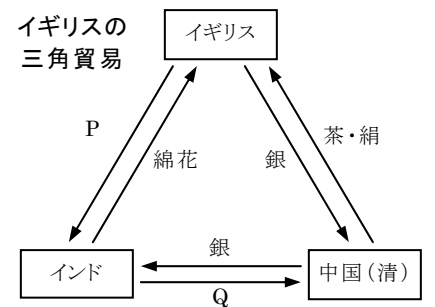
〔史料〕



(2) A がイギリスの植民地にされるきっかけになった右上の史料のできごとを何といいますか。()

(3) 右の図はこのころのイギリスの貿易を表したものです。図中の P・Q はそれぞれ何という商品ですか。

P()
Q()



(4) 中国が右上の Q の輸入を禁止したことからおこった1840年の清とイギリスの戦争を何といいますか。()

(5) (4)の戦争がおこったころ、日本はどのようなようすでしたか。次から正しいものを1つ選び、記号で答えなさい。()

ア 日本はすでに開国をして外国の知識を取り入れ、国の近代化に努めていた。

イ 天保のききんがおこり、最後の幕政改革である天保の改革が始められた。

ウ アメリカのペリーが4隻の黒船をひきいて日本に開国を求めてきた。

エ 松平定信が老中となり、政治改革をおしすすめた。

(5) 長江の中・下流域で洪秀全を中心に、漢民族の国家建設を旗じるしに反乱がおこった。これを何といいますか。()

得点	演習問題〔解答〕	実施日	月 日	氏名


【1】 下の年表をみて、次の問いに答えなさい。

西暦	おもなできごと
1588	イギリスがスペインの無敵艦隊をやぶる <イギリスの海外進出>
1640	ピューリタン〔清教徒〕革命がおこる……………A
1688	イギリスで(①)革命がおこる
1760 頃	産業革命がはじまる……………B
1775	アメリカで(②)戦争が始まる
1789	市民がバスチーユ牢獄を襲撃……………C
1814	ウィーン会議が始まる
1840	(③)戦争がおこる……………D
1858	セポイの反乱でムガル帝国がほろびる
1861	アメリカ南北戦争

(1) ①～③にあてはまる語句を答えなさい。
①(名誉) ②(独立) ③(アヘン)

(2) A の革命はどこのおこりましたか。(イギリス)

(3) B の産業革命がおこるきっかけになった右の蒸気機関を改良した人物はだれですか。(ワット)



(4) C がきっかけとなって同年始まった革命を何といますか。(フランス革命)

(5) D の戦争について、問いに答えなさい。
① この戦争は、イギリスとどこの国の間でおこりましたか。(清)

② この戦争の結果、イギリスとの間で結んだ不平等条約を何といますか。(南京条約)

③ この条約によって、イギリスに領土がゆずられたが、それはどこですか。(香港〔ホンコン〕)

【2】 下の資料をみて、次の問いに答えなさい。

A われわれは、次の真理を自明なものとして認める。すべての人は平等に造られ、その造り主によって一定のゆるぎることのできない権利を与えられ、そのなかに生命・自由および幸福の追求が含まれること。

B 1 国王は、国会の承認なしに法律の効力を停止し、または法律の執行を停止しうる権限があると称しているが、そのようなことは違法である。

C 1 人は生まれながら自由で平等な権利をもつ、社会的な差別は、公共の利益の上のみ設けることができる。
3 あらゆる主権の原理は、本質的に国民のなかにある。

(1) 17～18 世紀にかけて、都市の商工業者や議会が中心となって絶対王政を打ちたおした革命を何といますか。(市民革命)

(2) A の資料について、問いに答えなさい。

① この資料を何といますか。(独立宣言)

② この資料がつくられたのはいつか。(1776 年)

③ この資料は、何という戦争を正当化するために出されたものですか。(独立戦争)

(3) B の資料について、問いに答えなさい。

① この資料を何といますか。(権利章典)

② この資料が出される前年、議会は国王をフランスに追放しているが、このできごとを何といますか。(名誉革命)

③ この革命がおこったのは何年ですか。(1688 年)

(4) C の資料について、問いに答えなさい。

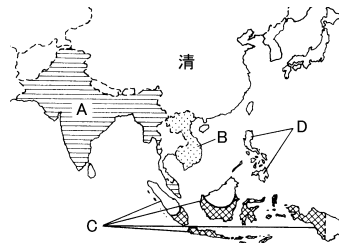
① この資料は、フランス国民議会によって出されたが、これを何といますか。(人権宣言)

② この資料が出されたときの革命を何といますか。(フランス革命)

【3】 次の問いに答えなさい。

(1) 左下の地図中の A～D は、19 世紀ごろまでに欧米の先進国が植民地にした地域である、A～D を植民地にした国の名を答えなさい。
A(イギリス) B(フランス)
C(オランダ) D(スペイン)

〔地図〕



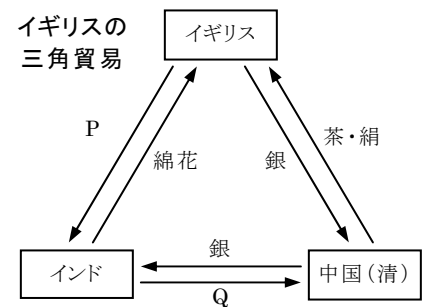
〔史料〕



(2) A がイギリスの植民地にされるきっかけになった右上の史料のできごとを何といますか。(インドの大反乱)

(3) 右の図はこのころのイギリスの貿易を表したものです。図中の P・Q はそれぞれ何という商品ですか。

P(綿織物)
Q(アヘン)



(4) 中国が右上の Q の輸入を禁止したことからおこった1840年の清とイギリスの戦争を何といますか。(アヘン戦争)

(5) (4)の戦争がおこったころ、日本はどのようなようでしたか。次から正しいものを1つ選び、記号で答えなさい。(イ)

ア 日本はすでに開国をして外国の知識をとり入れ、国の近代化に努めていた。

イ 天保のききんがおこり、最後の幕政改革である天保の改革が始められた。

ウ アメリカのペリーが4隻の黒船をひきいて日本に開国を求めてきた。

エ 松平定信が老中となり、政治改革をおしすすめた。

(5) 長江の中・下流域で洪秀全を中心に、漢民族の国家建設を旗じるしに反乱がおこった。これを何といますか。(太平天国の乱)