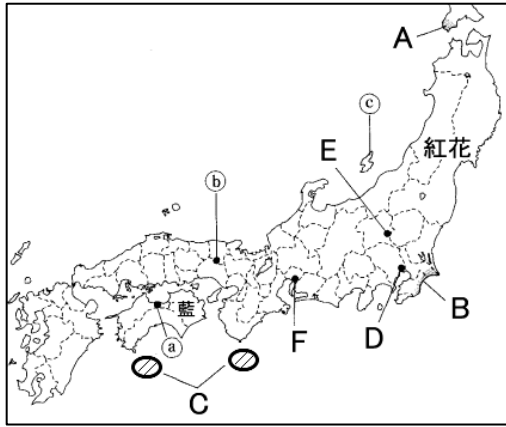


得点	演習問題		実施日	月 日	氏名
	単元名: 三大改革・学問と文化 ②				

【1】 次の地図を見て、あとの問いに答えなさい。

(1) 江戸時代には各地で特産物がつくられた。

① 地図中の藍や紅花は織物業の何の原料として使われましたか。
()



② 地図中のa～cは鉱山の場所である。それぞれの地名を下の語群から選び、何を産出したのかを「金・銀・銅」の3つの中から選びなさい。
a(地名 産出) b(地名 産出)
c(地名 産出)
[語群] [別子 佐渡 生野]

③ 次の文は、地図中のA・B・Cのどの地域について説明しているのか、それぞれ答えなさい。(A B C)

- 網が改良され、大規模ないわし漁がおこなわれた。
- かつお漁や網やもりを使った捕鯨がさかんとなった。
- にしんやこんぶが、特産物として取り引きされた。

(2) 地図中のDは江戸である。18世紀には人口はどのくらいになったのか、次のア～ウから選びなさい。()

ア 約10万人 イ 約50万人 ウ 約100万人

(3) 19世紀に入ると、地方でも織物業など手工業が発展した。

- ① 地図中のEの地は桐生であり、Fの地は尾張である。それらの地で発展した織物業は何か、それぞれ書きなさい。
桐生() 尾張()
- ② これらの地の織物業では、工場の人々が仕事を分担しながら働いた。このような工業を何といいますか。
()

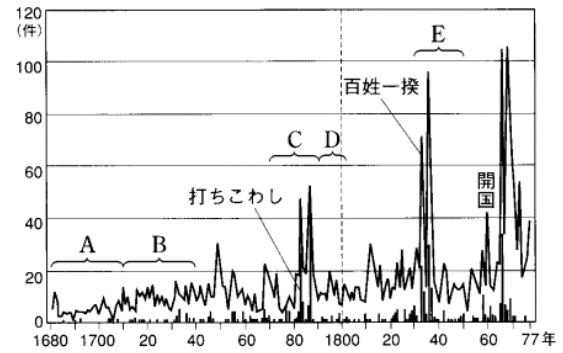
【2】 下の表は学問についてまとめたものです。

A	道徳や政治の学問で、幕府が奨励した。朱子学が広く学ばれる。
B	古典を研究し、日本人の心をさぐる。(D)が「古事記」を研究した。
C	オランダ語を通して、近代文化を学ぶ。杉田玄白らが「 E 」を翻訳した。

- (1) 上の表について、次の問いに答えなさい。
- ① A・B・Cの学問の名を答えなさい。
A() B() C()
- ② DとEの()にあてはまる人名や書名を答えなさい。
D() E()

- (2) 次の学校をそれぞれ何といいますか。
- ① 諸藩の改革の中でつくられた藩士のための学校。
()
- ② 庶民に対し、読み・書き・そろばんなど実用的な知識を教えた。
()

【3】 次の図は百姓一揆と打ちこわしの件数をグラフであらわしている。あとの問いに答えなさい。



(1) 次の人物は、グラフ中のA～Eのどの時期に政治を行っていたか、選びなさい。

- ① 田沼意次() ② 松平定信() ③ 徳川吉宗()

(2) CとEの時期に、一揆などの件数が大幅に増えているが、それは何がおきたためですか。()

(3) 次の①～⑥は、A～Eのどの時期の政治のことですか。

- 旗本や御家人を救うために、金融業者からの借金を帳消しにした。()
- 物価を下げるために、株仲間の解散をさせたが、逆効果となった。()
- 印旛沼の干拓を行い、蝦夷地の開発を計画した。()
- 極端な動物愛護を命じた法令を出した。()
- 新田の開発を行い、年貢の率を上げ、法律の整備を行った。()
- 地位や利権を求めて、わいろがさかんになり、政治が乱れた。()

(4) 次のできごとはA～Eのどの時期のことですか選びなさい。

- 大阪で元大阪町奉行所の役人が反乱をおこした。()
- ロシアの使節が漂流民をとめない、根室で通商を要求した。()
- 渡辺崋山と高野長英が外国船打払令を批判し処罰された。()

【4】 下の表の①～⑥の()に人名、A・Bの()に小説名を書きなさい。

	元禄文化	化政文化
特色	(ア)中心の明るく活気のある町人文化	(イ)中心の皮肉やこっけいを喜ぶ町人文化
文学	小説…(①) 浄瑠璃の台本…(②) 俳諧…(③)	(A)…十返舎一九 (B)…滝沢(曲亭)馬琴 俳句…小林一茶・(⑤)
絵画	装飾画…(④)・尾形光琳 友禅染	風景画…歌川広重・(⑥) 役者絵…東洲斎写楽

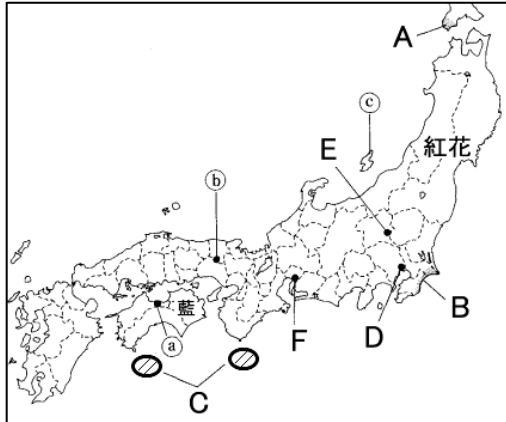
- ア() イ()
①() ②()
③() ④()
⑤() ⑥()
A() B()

得点	演習問題〔解答〕	実施日	月 日	氏名
	単元名:三大改革・学問と文化 ②			

【1】 次の地図を見て、あとの問いに答えなさい。

(1) 江戸時代には各地で特産物がつくられた。

① 地図中の藍や紅花は織物業の何の原料として使われましたか。
(染料)



② 地図中のa～cは鉱山の場所である。それぞれの地名を下の語群から選び、何を産出したのかを「金・銀・銅」の3つの中から選びなさい。
a(地名 別子 産出 銅) b(地名 生野 産出 銀) c(地名 佐渡 産出 金)
[語群] [別子 佐渡 生野]

③ 次の文は、地図中のA・B・Cのどの地域について説明しているのか、それぞれ答えなさい。(A 3 B 1 C 2)

1. 網が改良され、大規模ないわし漁がおこなわれた。
2. かつお漁や網やもりを使った捕鯨がさかんとなった。
3. にしんやこんぶが、特産物として取り引きされた。

(2) 地図中のDは江戸である。18世紀には人口はどのくらいになったのか、次のア～ウから選びなさい。(ウ)

ア 約10万人 イ 約50万人 ウ 約100万人

(3) 19世紀に入ると、地方でも織物業など手工業が発展した。
① 地図中のEの地は桐生であり、Fの地は尾張である。それらの地で発展した織物業は何か、それぞれ書きなさい。
桐生(絹織物) 尾張(綿織物)

② これらの地の織物業では、工場の人々が仕事を分担しながら働いた。このような工業を何といいますか。
(工場制手工業)

【2】 下の表は学問についてまとめたものです。

A	道徳や政治の学問で、幕府が奨励した。朱子学が広く学ばれる。
B	古典を研究し、日本人の心をさぐる。(D)が「古事記」を研究した。
C	オランダ語を通して、近代文化を学ぶ。杉田玄白らが「 E 」を翻訳した。

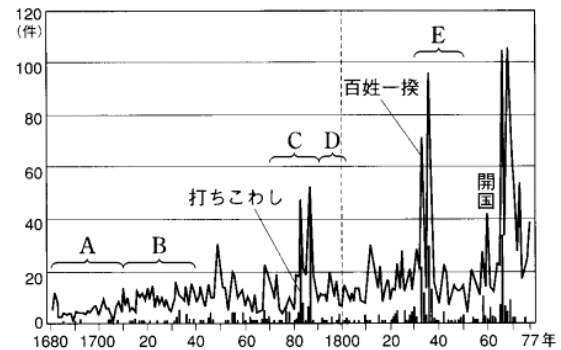
(1) 上の表について、次の問いに答えなさい。

- ① A・B・Cの学問の名を答えなさい。
A(儒学) B(国学) C(蘭学〔洋学〕)
- ② DとEの()にあてはまる人名や書名を答えなさい。
D(本居宣長) E(解体新書)

(2) 次の学校をそれぞれ何といいますか。

- ① 諸藩の改革の中でつくられた藩士のための学校。
(藩校)
- ② 庶民に対し、読み・書き・そろばんなど実用的な知識を教えた。
(寺子屋)

【3】 次の図は百姓一揆と打ちこわしの件数をグラフであらわしている。あとの問いに答えなさい。



(1) 次の人物は、グラフ中のA～Eのどの時期に政治を行っていたか、選びなさい。

- ① 田沼意次(C) ② 松平定信(D) ③ 徳川吉宗(B)

(2) CとEの時期に、一揆などの件数が大幅に増えているが、それは何がおきたためですか。(ききん)

(3) 次の①～⑥は、A～Eのどの時期の政治のことですか。

- ① 旗本や御家人を救うために、金融業者からの借金を帳消しにした。(D)
- ② 物価を下げるために、株仲間の解散をさせたが、逆効果となった。(E)
- ③ 印旛沼の干拓を行い、蝦夷地の開発を計画した。(C)
- ④ 極端な動物愛護を命じた法令を出した。(A)
- ⑤ 新田の開発を行い、年貢の率を上げ、法律の整備を行った。(B)
- ⑥ 地位や利権を求めて、わいろがさかんになり、政治が乱れた。(C)

(4) 次のできごとはA～Eのどの時期のことですか選びなさい。

- ① 大阪で元大阪町奉行所の役人が反乱をおこした。(E)
- ② ロシアの使節が漂流民をとめない、根室で通商を要求した。(D)
- ③ 渡辺崋山と高野長英が外国船打払令を批判し処罰された。(E)

【4】 下の表の①～⑥の()に人名、A・Bの()に小説名を書きなさい。

	元禄文化	化政文化
特色	(ア)中心の明るく活気のある町人文化	(イ)中心の皮肉やこっけいを喜ぶ町人文化
文学	小説…(①) 浄瑠璃の台本…(②) 俳諧…(③)	(A)…十返舎一九 (B)…曲亭馬琴 俳句…小林一茶・(⑤)
絵画	装飾画…(④)・尾形光琳 友禅染	風景画…歌川広重・(⑥) 役者絵…東洲斎写楽

- ア(京都・大阪〔上方〕) イ(江戸)
- ①(井原西鶴) ②(近松門左衛門)
- ③(松尾芭蕉) ④(俵屋宗達)
- ⑤(与謝蕪村) ⑥(葛飾北斎)
- A(東海道中膝栗毛) B(南総里見八犬伝)