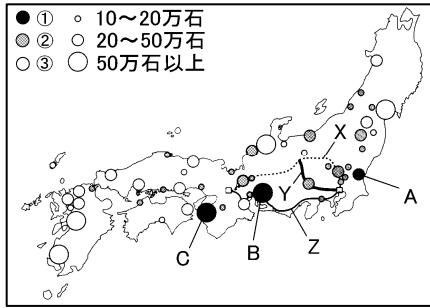


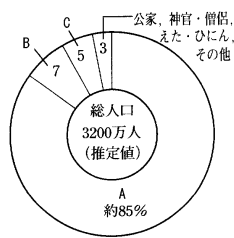
得点	演習問題	実施日	月 日	氏名

【1】右の地図を見て、次の各問いに答えなさい。



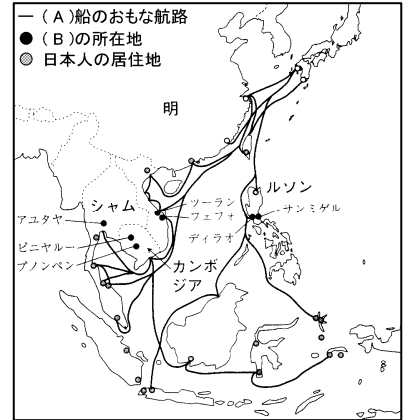
- 地図中のA~Cの御三家をそれぞれ何といますか。
A() B() C()
- 地図は、江戸幕府のおもな大名の配置を示したものである。③は何とよばれた大名ですか。()
- 地図中の②のうち、古くから徳川氏に従っていたものと、豊臣氏に従っていた③とは、ある戦い以前に徳川氏の家臣になったものと、その戦い以後に家臣になったものというふうにも分けられる。この戦いを何といますか。また、この戦いで豊臣方の中心となった武将はだれですか。
戦い() 武将()
- 大名とは、将軍から何万石以上の領地をあたえられた武士のことですか。また、大名よりも少ない領地をあたえられた将軍直属の武士のうち、将軍に直接会うことができたものを何といますか。
() ()
- 地図中のX~Zは、五街道のうちの3つである。それぞれ何といますか。また、このような街道の要所に置かれた、江戸へ出入りする人々や荷物を調べた役所を何といますか。
X() Y()
Z() 役所()

【2】右のグラフを見て、次の各問いに答えなさい。



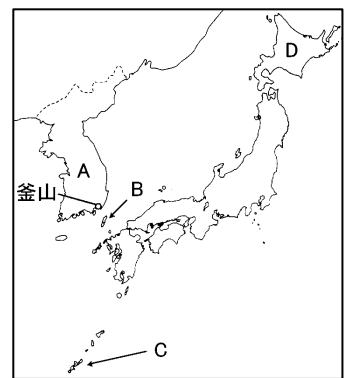
- Aのうち、①土地を持つ百姓、②土地を持たない百姓をそれぞれ何といますか。
①() ②()
- (1)の①の有力者がなった村役人にはどのようなものがありましたか。3つ答えなさい。
() () ()
- 五人組の制度により、百姓は(a)の防止や(b)の納入などに共同の責任を負わされた。a、bにあてはまる語句を答えなさい。
a() b()
- Bに認められた特権には、どのようなものがありましたか。2つ答えなさい。() ()
- Cのうち、町役人に選ばれて町政を運営したのは、何とよばれる人々ですか。2つ答えなさい。
() ()
- 1649年に定められたCの人々を統制するきまりを何といますか。()

【3】次の各問いに答えなさい。



- 上の地図中のAにあてはまる貿易船を何といますか。()
- 地図中のBにあてはまる、(1)の貿易船による貿易によってできた町のよび名を答えなさい。()
- 家康がオランダやイギリスとの貿易も許可したことから、各国の商館がつくられた地名を答えなさい。()
- 貿易の発展にともなってキリスト教の信者が増えたことから、家康は、何という法令を出してキリスト教徒を迫害しましたか。()
- 日本人の海外渡航や帰国を禁止した3代将軍はだれですか。()
- 天草四郎という16歳の少年を頭に、キリスト教徒の農民らがおこした一揆を何といますか。()
- また、(6)この一揆の2年後、日本への来航を禁止されたのはどこの国の船ですか。()
- 鎖国中も貿易を許されたヨーロッパの国を答えなさい。()

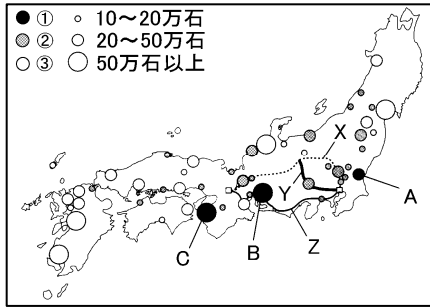
【4】右の地図を見て、下の各問いに答えなさい。



- 鎖国下で貿易を許されていたオランダ船は、海外の事情を書いたものを提出するように命じられました。これを何といますか。()
- 鎖国下で貿易を許されていたオランダ船などが、日本にもたらしたものは、東南アジアの品物のほかに何ですか。()
- 徳川家康のときに地図中のAの国との国交が回復したが、その仲立ちをしたBの藩を何といますか。また、Aの国から将軍の代わりごとに来日した使節を何といますか。() 藩) 使節()
- 地図中のCの国を何といますか。また、この国を支配していた藩を何といますか。() () 藩)
- 江戸時代、地図中のDの地域は何とよばれていましたか。また、この地域の南部に領地をもっていた藩を何といますか。() () 藩)

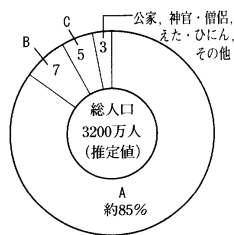
得点	演習問題〔解答〕			実施日	月 日	氏名
	単元名:江戸時代 ③					

【1】右の地図を見て、次の各問いに答えなさい。



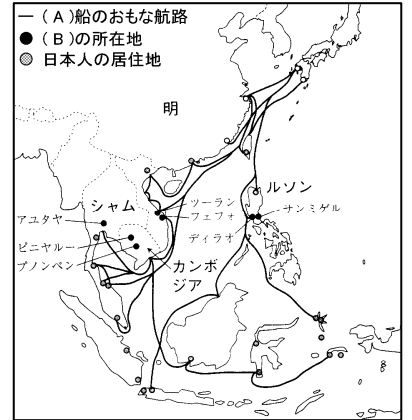
- 地図中のA～Cの御三家をそれぞれ何といいますか。
A(水戸) B(尾張) C(紀伊)
- 地図は、江戸幕府のおもな大名の配置を示したものである。③は何とよばれた大名ですか。 (外様)
- 地図中の②のうちの古くから徳川氏に従っていたものと、豊臣氏に従っていた③とは、ある戦い以前に徳川氏の家臣になったものと、その戦い以後に家臣になったものというふうにも分けられる。この戦いを何といいますか。
戦い(関が原の戦) 武将(石田三成)
- 大名とは、将軍から何万石以上の領地をあたえられた武士のことですか。また、大名よりも少ない領地をあたえられた将軍直属の武士のうち、将軍に直接会うことができたものを何といいますか。
(10000 石) (旗本)
- 地図中のX～Zは、五街道うちの3つである。それぞれ何といいますか。また、このような街道の要所に置かれた、江戸へ出入りする人々や荷物を調べた役所を何といいますか。
X(中山道) Y(甲州街道)
Z(東海道) 役所(関所)

【2】右のグラフを見て、次の各問いに答えなさい。



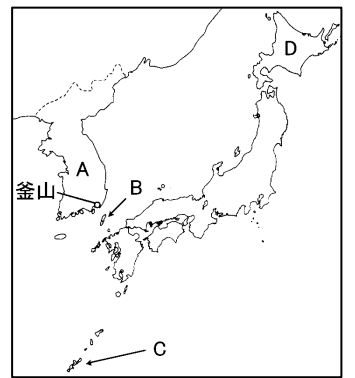
- Aのうち、①土地を持つ百姓、②土地を持たない百姓をそれぞれ何といいますか。
①(本百姓) ②(水のみ百姓)
- (1)の①の有力者がなった村役人にはどのようなものがありましたか。3つ答えなさい。
(庄屋) (組頭) (百姓代)
- 五人組の制度により、百姓は(a)の防止や(b)の納入などに共同の責任を負わされた。a、bにあてはまる語句を答えなさい。
a(犯罪) b(年貢)
- Bに認められた特権には、どのようなものがありましたか。2つ答えなさい。(名字) (帯刀)
- Cのうち、町役人に選ばれて町政を運営したのは、何とよばれる人々ですか。2つ答えなさい。
(地主) (家持)
- 1649年に定められたCの人々を統制するきまりを何といいますか。(慶安のお触書)

【3】次の各問いに答えなさい。



- 上の地図中のAにあてはまる貿易船を何といいますか。
(朱印船)
- 地図中のBにあてはまる、(1)の貿易船による貿易によってできた町の名を答えなさい。
(日本町)
- 家康がオランダやイギリスとの貿易も許可したことから、各国の商館がつくられた地名を答えなさい。(平戸)
- 貿易の発展にともなってキリスト教の信者が増えたことから、家康は、何という法令を出してキリスト教徒を迫害しましたか。
(禁教令)
- 日本人の海外渡航や帰国を禁止した3代将軍はだれですか。
(徳川家光)
- 天草四郎という16歳の少年を頭に、キリスト教徒の農民らがおこした一揆を何といいますか。(島原・天草一揆)
- また、(6)この一揆の2年後、日本への来航を禁止されたのはどこの国の船ですか。(ポルトガル)
- 鎖国中も貿易を許されたヨーロッパの国を答えなさい。(オランダ)

【4】右の地図を見て、下の各問いに答えなさい。



- 鎖国下で貿易を許されていたオランダ船は、海外の事情を書いたものを提出するように命じられました。これを何といいますか。
(オランダ風説書)
- 鎖国下で貿易を許されていたオランダ船などが、日本にもたらしたものは、東南アジアの品物のほかに何ですか。
(生糸・絹織物)
- 徳川家康のときに地図中のAの国との国交が回復したが、その仲立ちをしたBの藩を何といいますか。また、Aの国から将軍の代わりごとに来日した使節を何といいますか。
(対馬 藩) 使節(朝鮮通信使)
- 地図中のCの国を何といいますか。また、この国を支配していた藩を何といいますか。
(琉球王国) (薩摩 藩)
- 江戸時代、地図中のDの地域は何とよばれていましたか。また、この地域の南部に領地をもっていた藩を何といいますか。
(蝦夷地) (松前 藩)