

|    |             |     |    |
|----|-------------|-----|----|
| 得点 | <b>演習問題</b> | 実施日 | 氏名 |
|    |             |     |    |

【1】右の年表を見て、次の問いに答えなさい。

| 西暦   | できごと                            | 将軍 |
|------|---------------------------------|----|
| 1600 | ( ① )の戦い                        | 家康 |
| 1603 | 江戸幕府が開かれる<br>日本人の海外渡航がさかんになる……A |    |
| 1609 | 薩摩藩が( ② )を支配下におく                | 秀忠 |
| 1612 | キリスト教を禁止する(禁教令)                 |    |
| 1615 | 豊臣氏をほろぼす<br>武家諸法度を定める………B       | D  |
| 1635 | 日本人の海外渡航を禁止                     |    |
| 1637 | ( ③ )天草一揆がおこる                   |    |
| 1639 | 鎖国の完成………C                       |    |

(1) 年表中の( )①～③に当てはまる語句を、次の中からそれぞれ選んで記号で答えなさい。

①( ) ②( ) ③( )

ア 島原      イ 関ヶ原      ウ 朝鮮国  
エ 琉球      オ 桶狭間      カ 蝦夷地

(2) 年表中の A について、次の問いに答えなさい。

① このころ、日本人の海外渡航がさかんであったのは、豊臣秀吉が行った貿易が徳川氏にも受けつがれたためであるが、この貿易を何といいますか。( )

② このころの東南アジアでは、日本から移住した人々が町をつくり、貿易品の買いつけなどを行っていた。こうした町を何といいますか。( )

(3) 年表中の B について、のちに、このなかに、大名は妻子を江戸におき、1年ごとに江戸と領国に住むことが決められたが、このきまりを何といいますか。( )

(4) 年表中の C について、次の問いに答えなさい。

① 鎖国によって、日本はある 2 国とのみ貿易を行うこととなった。このうち、唯一日本への来航がゆるされたヨーロッパの国はどこですか。( )

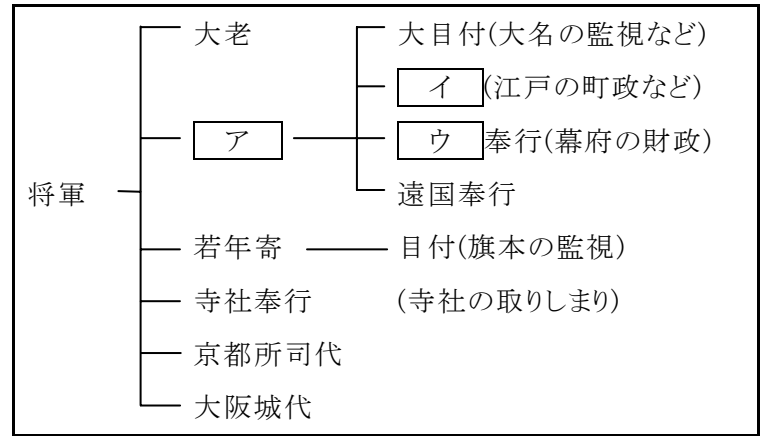
② ①の国の商館は 1641 年に場所を移されたが、どこからどこに移されましたか。正しく述べているものを、次のア～エの中から選び、その記号を書きなさい。( )

ア 長崎から平戸に移された。  
イ 長崎から神戸に移された。  
ウ 平戸から長崎に移された。  
エ 神戸から博多に移された。

③ 対馬の宗氏が貿易を許され、将軍が変わるたびに日本にやってきた朝鮮の使節を何といいますか。( )

(5) 年表中の D に当てはまる将軍名を答えなさい。( )

【2】下の図を見て、次の問いに答えなさい。



(1) 図中のア～ウに当てはまる役職名を、それぞれ答えなさい。

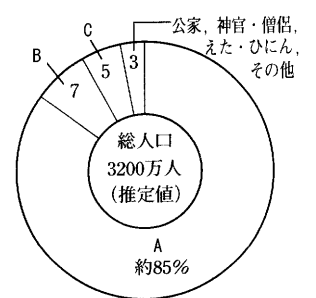
ア( ) イ( ) ウ( )

(2) 江戸時代の大名について述べた次の文の( )①～③に当てはまる語句や数字を答えなさい。

江戸時代の大名とは、将軍から( ① )万石以上の領地をあたえられた武士で、大名の領地とその政治組織を( ② )という。将軍と大名は主従関係を結んでおり、幕府と( ② )の力で全国の土地と人々を支配する政治の制度を( ③ )とよぶ。

①( ) ②( ) ③( )

(3) 右のグラフは、江戸時代末期の身分別の人口の割合を示したものである。グラフ中の A～C に当てはまる身分の組み合わせとして正しいものを、次のア～エの中から選び、その記号を答えなさい。( )



ア A…農民 B…武士 C…町人  
イ A…武士 B…農民 C…町人  
ウ A…町人 B…武士 C…農民  
エ A…農民 B…町人 C…武士

(4) 農民の生活は自給自足に近く、林野や用水は共同で利用し、田植えなども助け合っていた。幕府はこのような村のまとまりを利用して重い年貢を取り立てたうえ、犯罪の防止や年貢を納めることに対して共同の責任を負う制度をつくった。この制度を何といいますか。( )

(5) 幕府が 1649 年に出したと伝えられる、下の史料のような、農民の生活心得について細かく定めたものを何といいますか。次のア～エの中から選びなさい。( )

ア 風説書      イ 御成敗式目  
ウ 慶安の御触書      エ 二条河原の落書

一、朝は早く起きて草を刈り、昼は田畑の耕作をし、晩には縄をない、俵をあみ、それぞれの仕事に気をぬくことなくはげむこと。  
一、酒や茶を買って飲まないようにせよ。  
一、百姓は雑穀を食べ、米を多く食いつぶさぬようにせよ。

|    |                 |  |     |     |    |
|----|-----------------|--|-----|-----|----|
| 得点 | <b>演習問題〔解答〕</b> |  | 実施日 | 月 日 | 氏名 |
|    | 江戸幕府の成立 ②       |  |     |     |    |

【1】右の年表を見て、次の問いに答えなさい。

| 西暦   | できごと                            | 将軍 |
|------|---------------------------------|----|
| 1600 | ( ① )の戦い                        | 家康 |
| 1603 | 江戸幕府が開かれる<br>日本人の海外渡航がさかんになる……A |    |
| 1609 | 薩摩藩が( ② )を支配下におく                | 秀忠 |
| 1612 | キリスト教を禁止する(禁教令)                 |    |
| 1615 | 豊臣氏をほろぼす<br>武家諸法度を定める………B       | D  |
| 1635 | 日本人の海外渡航を禁止                     |    |
| 1637 | ( ③ )天草一揆がおこる                   |    |
| 1639 | 鎖国の完成………C                       |    |

(1) 年表中の( )①～③に当てはまる語句を、次の中からそれぞれ選んで記号で答えなさい。

①( **イ** ) ②( **エ** ) ③( **ア** )

ア 島原      イ 関ヶ原      ウ 朝鮮国  
エ 琉球      オ 桶狭間      カ 蝦夷地

(2) 年表中の A について、次の問いに答えなさい。

① このころ、日本人の海外渡航がさかんであったのは、豊臣秀吉が行った貿易が徳川氏にも受けつがれたためであるが、この貿易を何といいますか。 ( **朱印船貿易** )

② このころの東南アジアでは、日本から移住した人々が町をつくり、貿易品の買いつけなどを行っていた。こうした町を何といいますか。 ( **日本町** )

(3) 年表中の B について、のちに、このなかに、大名は妻子を江戸におき、1年ごとに江戸と領国に住むことが決められたが、このきまりを何といいますか。 ( **参勤交代** )

(4) 年表中の C について、次の問いに答えなさい。

① 鎖国によって、日本はある 2 国とのみ貿易を行うこととなった。このうち、唯一日本への来航がゆるされたヨーロッパの国はどこですか。 ( **オランダ** )

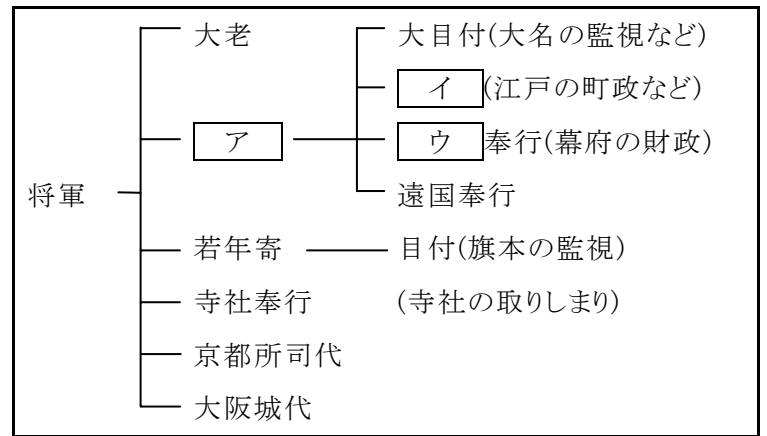
② ①の国の商館は 1641 年に場所を移されたが、どこからどこに移されましたか。正しく述べているものを、次のア～エの中から選び、その記号を書きなさい。 ( **ウ** )

ア 長崎から平戸に移された。  
イ 長崎から神戸に移された。  
ウ 平戸から長崎に移された。  
エ 神戸から博多に移された。

③ 対馬の宗氏が貿易を許され、将軍が変わるたびに日本にやってくる朝鮮の使節を何といいますか。 ( **朝鮮通信使** )

(5) 年表中の D に当てはまる将軍名を答えなさい。 ( **家光** )

【2】下の図を見て、次の問いに答えなさい。



(1) 図中のア～ウに当てはまる役職名を、それぞれ答えなさい。

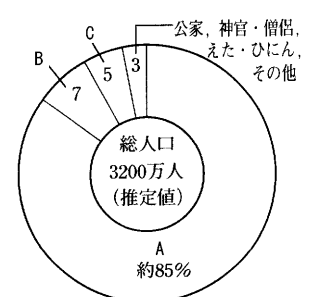
ア( **老中** ) イ( **町奉行** ) ウ( **勘定** )

(2) 江戸時代の大名について述べた次の文の( )①～③に当てはまる語句や数字を答えなさい。

江戸時代の大名とは、将軍から( ① )万石以上の領地をあたえられた武士で、大名の領地とその政治組織を( ② )という。将軍と大名は主従関係を結んでおり、幕府と( ② )の力で全国の土地と人々を支配する政治の制度を( ③ )とよぶ。

①( **1** ) ②( **藩** ) ③( **幕藩体制** )

(3) 右のグラフは、江戸時代末期の身分別の人口の割合を示したものである。グラフ中の A～C に当てはまる身分の組み合わせとして正しいものを、次のア～エの中から選び、その記号を答えなさい。



ア A…農民 B…武士 C…町人  
イ A…武士 B…農民 C…町人  
ウ A…町人 B…武士 C…農民  
エ A…農民 B…町人 C…武士

(4) 農民の生活は自給自足に近く、林野や用水は共同で利用し、田植えなども助け合っていた。幕府はこのような村のまとまりを利用して重い年貢を取り立てたうえ、犯罪の防止や年貢を納めることに対して共同の責任を負う制度をつくった。この制度を何といいますか。 ( **五人組** )

(5) 幕府が 1649 年に出したと伝えられる、下の史料のような、農民の生活心得について細かく定めたものを何といいますか。 次のア～エの中から選びなさい。 ( **ウ** )

ア 風説書      イ 御成敗式目  
ウ 慶安の御触書      エ 二条河原の落書

一、朝は早く起きて草を刈り、昼は田畑の耕作をし、晩には縄をない、俵をあみ、それぞれの仕事に気をぬくことなくはげむこと。  
一、酒や茶を買って飲まないようにせよ。  
一、百姓は雑穀を食べ、米を多く食いつぶさぬようにせよ。