

| | | | | | |
|----|-------------|-------------|-----|-----|----|
| 得点 | 演習問題 | 安土桃山～江戸幕府 ① | 実施日 | 月 日 | 氏名 |
| | | | | | |

【1】下の年表をみて、次の問いに答えなさい。

| 西暦 | おもなできごと |
|------|--------------------------------|
| 1543 | ヨーロッパ人が鉄砲を伝える………A |
| 1549 | (①)がキリスト教を伝える |
| 1560 | 織田信長が(②)を奇襲で破る |
| 1575 | 織田信長が武田氏を破る………B |
| 1588 | 豊臣秀吉が刀狩を行う………C |
| 1603 | (③)が江戸幕府を開く |
| 1615 | 大阪夏の陣で(④)が滅びる |
| 1637 | 島原の乱がおこる |
| 1639 | ポルトガル船の来航を禁止………D 〈元禄文化が栄える〉 |
| 1716 | 徳川吉宗の政治改革が始まる |

(1) 年表中の①～④にあてはまる語句を書きなさい。

- ①() ②()
③() ④()


(2) A について、次の問いに答えなさい。

- ① 鉄砲がはじめて伝えられたのはどこですか。
()
- ② 鉄砲伝来によって、世の中はどのように変化しましたか。次から正しくないものを一つ選び、記号で答えなさい。
()
- ア 一騎打から集団戦術へと変化した。
イ 築城法が変化した。
ウ 長崎を中心につくられた。

(3) B の戦いを何といますか。 ()

(4) C の目的は何ですか。 ()

(5) 下の資料は何を表していますか。 ()



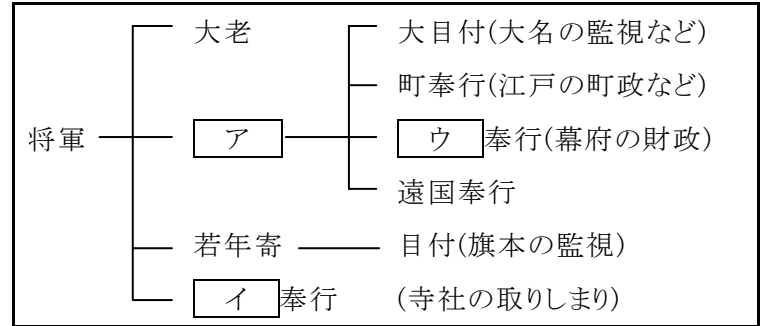
(6) (4)や(5)の結果、武士と農民の身分が確立していったが、このような政策を何といますか。漢字4字で答えなさい。
()

(7) D について、次の問いに答えなさい。

- ① 島原の乱の中心人物はだれですか。 ()
- ② オランダ商館をどこに移しましたか。 ()

【2】下の資料を参考にして、次の問いに答えなさい。

《資料①》



《資料②》

- 一、武士は、文武弓馬の道を心がける
一、大名は、1年ごとに4月中に江戸に参勤せよ
一、新しく城の工事をすることを禁ずる

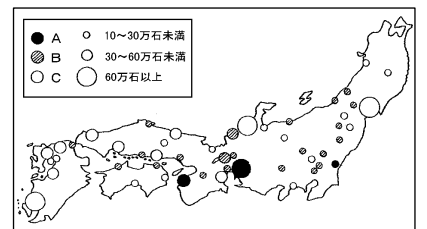
(1) 江戸時代になって、幕府を中心に多くの藩や庶民を支配する体制がととのったが、この政治の制度を何といますか。
()

(2) 《資料①》の [ア] ～ [ウ] にあたる語句を書きなさい。

- ア() イ()
ウ()

(3) 《資料②》のきまりを何といますか。 ()

(4) 《資料②》の下線部の大名について、次の①～③を何といますか。また、それは右の地図の A～C のどれですか。記号で答えなさい。



① 関ヶ原の戦い以前から徳川氏に従っていた大名で、石高は少ないが幕府の要職についた。
() 記号()

② 関ヶ原の戦いの前後に徳川氏に従った大名で、石高は多い。
() 記号()

③ 徳川氏の一族で、尾張・水戸・紀伊は徳川氏御三家とよばれる。
() 記号()

(5) 参勤交代の制度を定めた徳川幕府の将軍はだれですか。
()

(6) 参勤交代の影響として正しいものを1つ選び、記号で答えなさい。
()

- ア 参勤交代により、大名の負担は大きくなり、財政を苦しめた。
イ 街道が整備され、だれでも自由に旅を楽しむことができるようになった。
ウ 妻子は人質として江戸におかれ、将軍と大名の結びつきが強まった。

| | | | | |
|----|-----------------|-----|-----|----|
| 得点 | 演習問題〔解答〕 | 実施日 | 月 日 | 氏名 |
| | | | | |

【1】下の年表をみて、次の問いに答えなさい。

| 西 暦 | おもなできごと |
|------|--------------------------------|
| 1543 | ヨーロッパ人が鉄砲を伝える………A |
| 1549 | (①)がキリスト教を伝える |
| 1560 | 織田信長が(②)を奇襲で破る |
| 1575 | 織田信長が武田氏を破る………B |
| 1588 | 豊臣秀吉が刀狩を行う………C |
| 1603 | (③)が江戸幕府を開く |
| 1615 | 大阪夏の陣で(④)が滅びる |
| 1637 | 島原の乱がおこる |
| 1639 | ポルトガル船の来航を禁止………D 〈元禄文化が栄える〉 |
| 1716 | 徳川吉宗の政治改革が始まる |

(1) 年表中の①～④にあてはまる語句を書きなさい。

- ①(ザビエル) ②(今川氏(義元))
③(徳川家康) ④(豊臣氏)


(2) A について、次の問いに答えなさい。

- ① 鉄砲がはじめて伝えられたのはどこですか。
(種子島)
- ② 鉄砲伝来によって、世の中はどのように変化しましたか。次から正しくないものを一つ選び、記号で答えなさい。
(ウ)
- ア 一騎打から集団戦術へと変化した。
イ 築城法が変化した。
ウ 長崎を中心につくられた。

(3) B の戦いを何とといいますか。 (長篠の戦)

(4) C の目的は何ですか。
(一揆を防ぐこと)

(5) 下の資料は何を表していますか。 (太閤検地)



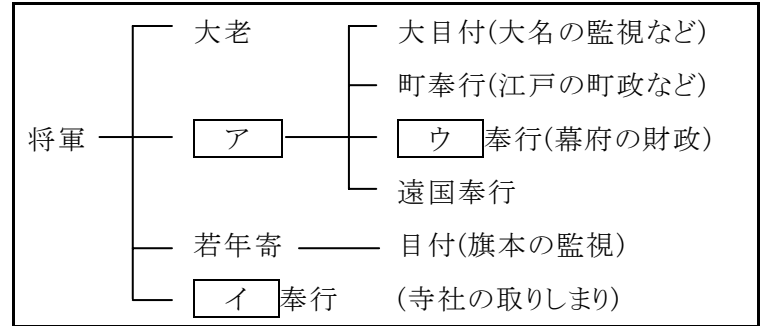
(6) (4)や(5)の結果、武士と農民の身分が確立していったが、このような政策を何とといいますか。漢字4字で答えなさい。
(兵農分離)

(7) D について、次の問いに答えなさい。

- ① 島原の乱の中心人物はだれですか。
(天草四郎)
- ② オランダ商館をどこに移しましたか。
(長崎の出島)

【2】下の資料を参考にして、次の問いに答えなさい。

《資料①》



《資料②》

- 一、武士は、文武弓馬の道を心がける
一、大名は、1年ごとに4月中に江戸に参勤せよ
一、新しく城の工事をすることを禁ずる

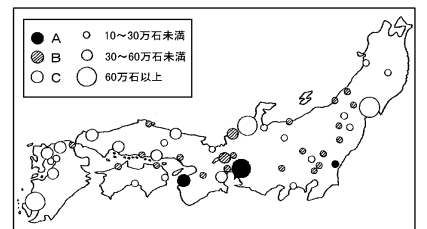
(1) 江戸時代になって、幕府を中心に多くの藩や庶民を支配する体制がととのったが、この政治の制度を何とといいますか。
(幕藩体制)

(2) 《資料①》の「ア」～「ウ」にあたる語句を書きなさい。

- ア(老中) イ(寺社)
ウ(勘定)

(3) 《資料②》のきまりを何とといいますか。 (武家諸法度)

(4) 《資料②》の下線部の大名について、次の①～③を何とといいますか。また、それは右の地図のA～Cのどれですか。記号で答えなさい。



① 関ヶ原の戦い以前から徳川氏に従っていた大名で、石高は少ないが幕府の要職についた。
(譜代大名) 記号(B)

② 関ヶ原の戦いの前後に徳川氏に従った大名で、石高は多い。
(外様大名) 記号(C)

③ 徳川氏の一族で、尾張・水戸・紀伊は徳川氏御三家とよばれる。
(親藩) 記号(A)

(5) 参勤交代の制度を定めた徳川幕府の将軍はだれですか。
(徳川家光)

(6) 参勤交代の影響として正しいものを1つ選び、記号で答えなさい。
(ア)

- ア 参勤交代により、大名の負担は大きくなり、財政を苦しめた。
イ 街道が整備され、だれでも自由に旅を楽しむことができるようになった。
ウ 妻子は人質として江戸におかれ、将軍と大名の結びつきが強まった。