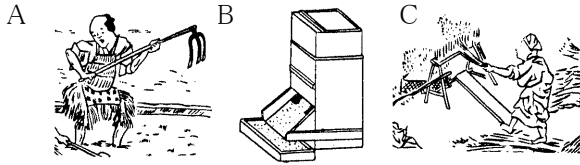


絶対暗記するプリント

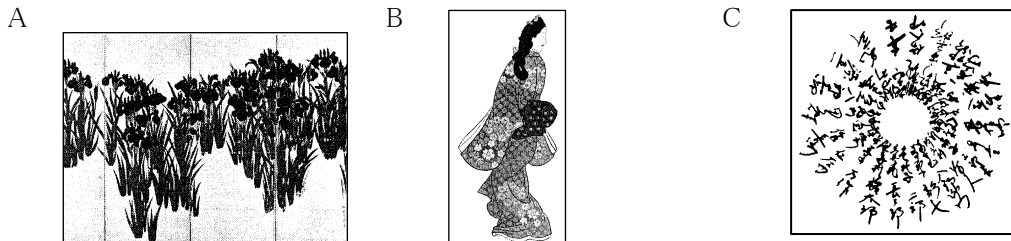
江戸時代	産業～改革	実施 /	氏名
------	-------	------	----

① 下の図は江戸時代に開発された代表的な農具です。それぞれの名前を答えなさい。



- A (備中ぐわ)
- B (千石どし)
- C (千齒こき)

- ② このころ利用されるようになった肥料にするためにほしたイワシを何といいますか。 (干鰯)
- ③ 貿易の利益が得られなくなり、各藩は収入を増やすために何に力を入れましたか。 (新田開発)
- ④ 三河(愛知県)や遠州(静岡県)で栽培されるようになった商品作物は何ですか。 (綿)
- ⑤ 特産物のうち京都で生産された絹織物を「応仁の乱」に、ちなんで何といいますか。 (西陣織)
- ⑥ 三都のうち「天下の台所」といわれ商業の発達した都市はどこですか。 (大阪)
- ⑦ 各藩が、⑥の都市に置き年貢米や特産物を運び込んだ施設を何といいますか。 (蔵屋敷)
- ⑧ 三都と呼ばれた⑥以外の都市を2つ答えなさい。 (江戸・京都)
- ⑨ 東北や北陸の米を日本海から下関を通して大阪まで運ぶ航路を何といいますか。 (西廻り航路)
- ⑩ 五街道のうち江戸から箱根を通して京都を結んだものを何といいますか。 (東海道)
- ⑪ 5代将軍綱吉のころの京都・大阪などを中心にした町人文化を何といいますか。 (元禄文化)
- ⑫ このころ「日本永代蔵」などの浮世草子を著した人物はだれですか。 (井原西鶴)
- ⑬ 「曾根崎心中」などの、人情味あふれる人形浄瑠璃の脚本家はだれですか。 (近松門左衛門)
- ⑭ 17世紀後半、芸術性を高め、俳諧を完成させた人物はだれですか。 (松尾芭蕉)
- ⑮ このころ図Aのような大和絵風の華やかな装飾画を描いた人物を答えなさい。 (尾形光琳)
- ⑯ 町人の風俗を題材にBのような絵を描き浮世絵の祖となった人物はだれですか。 (菱川師宣)

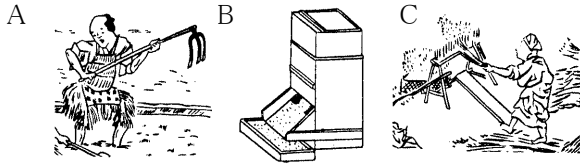


- ⑰ 紀州藩主であったが1716年8代将軍となった人物はだれですか。 (徳川吉宗)
- ⑱ この人物が行った幕府の改革を何といいますか。 (享保の改革)
- ⑲ この改革で、公平な裁判を行なうため定められた法律を何といいますか。 (公事方御定書)
- ⑳ この改革で、人々の意見を取りいれようとした投書箱を何といいますか。 (目安箱)
- ㉑ 大名の江戸在住を半年にする代わりに米を差し出させた政策を何といいますか。 (上米の制)
- ㉒ 農村で年貢や借金などに苦しむ農民たちが起こした反乱を何といいますか。 (百姓一揆)
- ㉓ 都市で、物価上昇や借金に苦しむ人々が商人をおそった反乱を何といいますか。 (うちこわし)
- ㉔ 冷害によって農作物の生産が落ち込む大規模な食糧不足を何といいますか。 (ききん)
- ㉕ 右上の図Cはからかさ連判状ですが、署名をこの形にする理由を簡単に答えなさい。 (中心人物がわからないようにするため)

絶対暗記するプリント


江戸時代	産業～改革	実施 /	氏名
------	-------	------	----

① 下の図は江戸時代に開発された代表的な農具です。それぞれの名前を答えなさい。



A ()
 B ()
 C ()

- ② このころ利用されるようになった肥料にするためにほしたイワシを何といいますか。 ()
- ③ 貿易の利益が得られなくなり、各藩は収入を増やすために何に力を入れましたか。 ()
- ④ 三河(愛知県)や遠州(静岡県)で栽培されるようになった商品作物は何ですか。 ()
- ⑤ 特産物のうち京都で生産された絹織物を「応仁の乱」に、ちなんで何といいますか。 ()
- ⑥ 三都のうち「天下の台所」といわれ商業の発達した都市はどこですか。 ()
- ⑦ 各藩が、⑥の都市に置き年貢米や特産物を運び込んだ施設を何といいますか。 ()
- ⑧ 三都と呼ばれた⑥以外の都市を2つ答えなさい。 ()
- ⑨ 東北や北陸の米を日本海から下関を通過して大阪まで運ぶ航路を何といいますか。 ()
- ⑩ 五街道のうち江戸から箱根を通過して京都を結んだものを何といいますか。 ()
- ⑪ 5代将軍綱吉のころの京都・大阪などを中心にした町人文化を何といいますか。 ()
- ⑫ このころ「日本永代蔵」などの浮世草子を著した人物はだれですか。 ()
- ⑬ 「曽根崎心中」などの、人情味あふれる人形浄瑠璃の脚本家はだれですか。 ()
- ⑭ 17世紀後半、芸術性を高め、俳諧を完成させた人物はだれですか。 ()
- ⑮ このころ図Aのような大和絵風の華やかな装飾画を描いた人物を答えなさい。 ()
- ⑯ 町人の風俗を題材にBのような絵を描き浮世絵の祖となった人物はだれですか。 ()



- ⑰ 紀州藩主であったが1716年8代将軍となった人物はだれですか。 ()
- ⑱ この人物が行った幕府の改革を何といいますか。 ()
- ⑲ この改革で、公平な裁判を行なうため定められた法律を何といいますか。 ()
- ⑳ この改革で、人々の意見を取り入れようとした投書箱を何といいますか。 ()
- ㉑ 大名の江戸在住を半年にする代わりに米を差し出させた政策を何といいますか。 ()
- ㉒ 農村で年貢や借金などに苦しむ農民たちが起こした反乱を何といいますか。 ()
- ㉓ 都市で、物価上昇や借金に苦しむ人々が商人をおそった反乱を何といいますか。 ()
- ㉔ 冷害によって農作物の生産が落ち込む大規模な食糧不足を何といいますか。 ()
- ㉕ 右上の図Cはからかさ連判状ですが、署名をこの形にする理由を簡単に答えなさい。

{ }