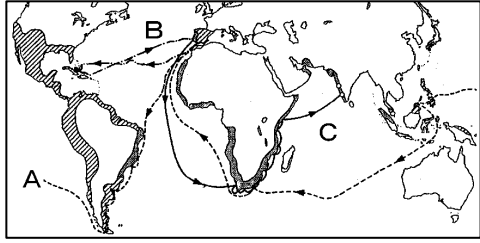


得点	演習問題	実施日	月 日	氏名

【1】下の地図をみて、次の問いに答えなさい。



- (1) 地図中の A～C の航路を発見した人物をそれぞれ答えなさい。
 A() B()
 C()
- (2) 地図中の の地域に進出し、アステカ帝国やインカ帝国を滅ぼした国はどこですか。
 ()
- (3) 地図中の の地域、インドのゴアやマレー半島のマラッカなどに進出した国はどこですか。
 ()


【2】次の文を読んで、あとの問いに答えなさい。

1543年、ポルトガル船が(①)に漂着し、鉄砲を伝えた。この新しい武器は全国に広まり、戦国武士の間に採用されてA大きな影響をあたえた。B鉄砲を初めて戦いに用いたのは織田信長である。Cポルトガル人に続いてスペイン人も来航し、日本と貿易を行うようになった。1549年、イエズス会の宣教師である(②)が鹿児島に上陸し、西日本の各地にキリスト教を伝えた。これは九州を中心に広まり、大名でキリスト教に改宗するものも現れ、九州の大村・大友・有馬らの(③)大名は、1582年にローマ法王(教皇)のもとに遣欧使節を送って敬意を表した。宣教師たちはキリスト教の布教のため、病院や学校を建てたり、Dヨーロッパの文化などを伝えた。


- (1) 文中の()にあてはまる語句を書きなさい。
 ①() ②() ③()
- (2) 下線部 A について、鉄砲の伝来の影響とみられるものを次から選び、記号で答えなさい。()
 ア 武士の没落 イ 足軽の出現 ウ 個人戦闘の開始
- (3) 下線部 B について、このときの戦乱を何とといいますか。次から選び、記号で答えなさい。()
 ア 桶狭間の戦い イ 長篠の戦い ウ 本能寺の変
- (4) 下線部 C の貿易を何とといいますか。()
- (5) 下線部 D について、日本に大きな影響をあたえたものを次から選び、記号で答えなさい。()
 ア 活版印刷の伝来 イ 西洋絵画 ウ 西洋の思想

【3】次の文を読んで、あとの問いに答えなさい。

織田信長や豊臣秀吉は、全国統一を進め、新しい政治を行った。信長は A 城を築き、各地の(①)を廃止して交通を便利にした。それとともに、城下町における B 経済政策をしいて、市場の税を免除し、座の特権を廃止して商工業の発展をはかった。信長の没後、秀吉は信長の後継者の地位につき C 全国にわたって(②)を実施し、土地、農民に対する支配を確実にした。また、(③)を行い、農民から武器などを取り上げた。こうして、武士と農民との身分は明確にされ、武士が農民を支配する封建制度の土台が固まった。

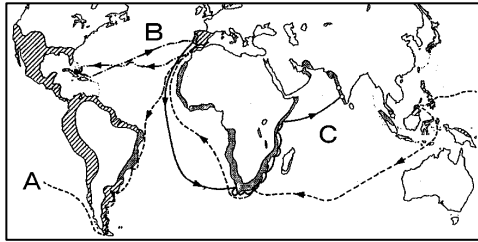
- (1) 文中の()にあてはまる語句を書きなさい。
 ①() ②() ③()
- (2) 下線部 A にあてはまる城の名前を答えなさい。()
- (3) 下線部 B の政策名を書きなさい。()
- (4) 右の図は下線部 C を表していますが、秀吉が実施したこの政策を特に何とといいますか。
 ()
- 
- (5) (4)の実施によって、米の取れ高を何という単位で表すことになりましたか。()
- (6) このあと、秀吉は大陸に進出するが、このときに出兵した国名を書きなさい。()

【4】桃山文化について、次の問いに答えなさい。

- (1) 下の図は、安土桃山時代に建てられた天守閣で現存するものですが、その名称を次から選び、記号で答えなさい。()
- 
- ア 安土城
 イ 伏見城
 ウ 大阪城
 エ 姫路城
- (2) 次の各文のうち、桃山文化の特色について述べているものを2つ選び、記号で答えなさい。()
 ア 禅宗の影響を受け、静かな奥ゆかしい趣をもっている。
 イ 文化を形成したものは貴族で、諸大名や庶民に威厳を示す豪華なものが多い。
 ウ 庶民性が強く、長唄・浄瑠璃・阿国歌舞伎などがさかんであった。
 エ 新興大名や都市豪商の文化で、雄大ではなやかなものであった。

得点	演習問題	実施日	月 日	氏名

【1】下の地図をみて、次の問いに答えなさい。



- (1) 地図中の A～C の航路を発見した人物をそれぞれ答えなさい。
 A(マゼラン) B(コロンブス)
 C(バスコ＝ダ＝ガマ)
- (2) 地図中の の地域に進出し、アステカ帝国やインカ帝国を滅ぼした国はどこですか。
 (スペイン)
- (3) 地図中の の地域、インドのゴアやマレー半島のマラッカなどに進出した国はどこですか。
 (ポルトガル)


【2】次の文を読んで、あとの問いに答えなさい。

1543年、ポルトガル船が(①)に漂着し、鉄砲を伝えた。この新しい武器は全国に広まり、戦国武士の間に採用されて A 大きな影響をあたえた。B 鉄砲を初めて戦いに用いたのは織田信長である。C ポルトガル人に続いてスペイン人も来航し、日本と貿易を行うようになった。1549年、イエズス会の宣教師である(②)が鹿児島に上陸し、西日本の各地にキリスト教を伝えた。これは九州を中心に広まり、大名でキリスト教に改宗するものも現れ、九州の大村・大友・有馬らの(③)大名は、1582年にローマ法王(教皇)のもとに遣欧使節を送って敬意を表した。宣教師たちはキリスト教の布教のため、病院や学校を建てたり、D ヨーロッパの文化などを伝えた。


- (1) 文中の()にあてはまる語句を書きなさい。
 ①(種子島) ②(ザビエル) ③(キリシタン)
- (2) 下線部 A について、鉄砲の伝来の影響とみられるものを次から選び、記号で答えなさい。 (イ)
 ア 武士の没落 イ 足軽の出現 ウ 個人戦闘の開始
- (3) 下線部 B について、このときの戦乱を何とといいますか。次から選び、記号で答えなさい。 (イ)
 ア 桶狭間の戦い イ 長篠の戦い ウ 本能寺の変
- (4) 下線部 C の貿易を何とといいますか。 (南蛮貿易)
- (5) 下線部 D について、日本に大きな影響をあたえたものを次から選び、記号で答えなさい。 (ア・ウ)
 ア 活版印刷の伝来 イ 西洋絵画 ウ 西洋の思想

【3】次の文を読んで、あとの問いに答えなさい。

織田信長や豊臣秀吉は、全国統一を進め、新しい政治を行った。信長は A 城を築き、各地の(①)を廃止して交通を便利にした。それとともに、城下町における B 経済政策をしいて、市場の税を免除し、座の特権を廃止して商工業の発展をはかった。信長の没後、秀吉は信長の後継者の地位につき C 全国にわたって(②)を実施し、土地、農民に対する支配を確実にした。また、(③)を行い、農民から武器などを取り上げた。こうして、武士と農民との身分は明確にされ、武士が農民を支配する封建制度の土台が固まった。

- (1) 文中の()にあてはまる語句を書きなさい。
 ①(関所) ②(検地) ③(刀狩)
- (2) 下線部 A にあてはまる城の名前を答えなさい。
 (安土城)
- (3) 下線部 B の政策名を書きなさい。 (楽市・楽座)
- (4) 右の図は下線部 C を表していますが、秀吉が実施したこの政策を特に何とといいますか。
 (太閤検地)
- 
- (5) (4)の実施によって、米の取れ高を何という単位で表すことになりましたか。
 (石高)
- (6) このあと、秀吉は大陸に進出するが、このときに出兵した国名を書きなさい。
 (朝鮮)

【4】桃山文化について、次の問いに答えなさい。

- (1) 下の図は、安土桃山時代に建てられた天守閣で現存するものですが、その名称を次から選び、記号で答えなさい。
 (エ)

 ア 安土城
 イ 伏見城
 ウ 大阪城
 エ 姫路城
- (2) 次の各文のうち、桃山文化の特色について述べているものを2つ選び、記号で答えなさい。 (ウ・エ)
 ア 禅宗の影響を受け、静かな奥ゆかしい趣をもっている。
 イ 文化を形成したものは貴族で、諸大名や庶民に威厳を示す豪華なものが多い。
 ウ 庶民性が強く、長唄・浄瑠璃・阿国歌舞伎などがさかんであった。
 エ 新興大名や都市豪商の文化で、雄大ではなやかなものであった。