

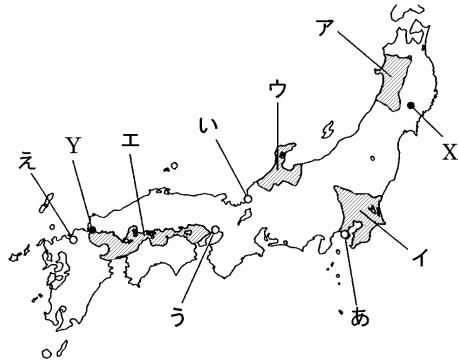
得点	演習問題	実施日	月	日	氏名

【1】 次の地図と年表を見て、あとの問いに答えなさい。

年代	できごと
935	平将門が反乱をおこす ……A
1016	藤原道長が ① になる
1086	白河上皇の院政が始まる ……B
1156	保元の乱がおこる ……C
1167	平清盛が ② になる ……D
1185	平氏がほろびる ……E
1192	源頼朝が ③ になる ……F
1219	北条氏の ④ 政治が始まる
1221	承久の乱がおこる ……G
1232	御成敗式日が制定される ……H

(1) 年表中の①～④にあてはまる役職名をそれぞれ答えなさい。

- ①()
- ②()
- ③()
- ④()



(2) A について、この反乱がおこった地域を地図中のア～エから選び、記号で答えなさい。
()

(3) B のころから、地図中の X を拠点とし、北方との交易や馬・金の産物によってさかえていた豪族は何氏ですか。
()

(4) C の 3 年後におこり、平清盛が源氏をやぶった戦乱を何といいますか。
()

(5) D について、平清盛が中国との貿易を積極的に進めるために整備した港の位置を、地図中のあ～えから選び、記号で答えなさい。
()

(6) E について、地図中の Y の戦いで平氏はほろんだ、Y の地名を答えなさい。
()

(7) E と同じ年に源頼朝が国ごとに置いて、軍事や警察にあたらせた役人を何といいますか。
()

(8) F によって、将軍と御家人は御恩と奉公の主従関係で結ばれた、御恩とは、将軍が具体的にどのようなことをしたのか。簡単に答えなさい。
()

(9) G について、幕府打倒の兵を挙げた人物を答えなさい。
()

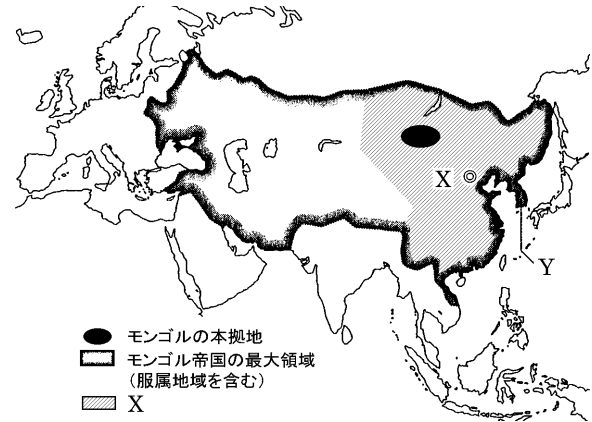
(10) G ののち、幕府が京都に設置して、朝廷の監視や西国の御家人の統率にあたらせた役所を何といいますか。
()

(11) H について、この法令が定められた目的を次から選び、記号で答えなさい。
()

- ア 御家人たちに役人としての心構えを示すため。
- イ 御家人たちに土地の開墾を奨励するため。
- ウ 御家人たちに裁判の基準を示すため。
- エ 御家人たちに仏教を保護させるため。

【2】 次の年表と地図を見て、次の問いに答えなさい。

年代	できごと	中国	朝鮮
1192	源頼朝が鎌倉幕府を開く	宋	Y
	A		
1221	承久の乱がおこる	X	
1274	文永の役がおこる ……B		
1281	弘安の役がおこる ……C		
1297	D が出される		
1332	E が隠岐に流される		
1333	鎌倉幕府がほろびる ……F		



(1) A の時期、モンゴル高原にあらわれて、モンゴル民族の統一をなした人物はだれですか。
()

(2) 年表中の X・Y は、地図中の X・Y の国である、X・Y の国名をそれぞれ答えなさい。
X() Y()

(3) B の戦いでは、日本軍は苦しい戦いをしいられた理由を X の戦法と武器の面から簡単に答えなさい。
()

(4) B・C のできごとをまとめて何といいますか。
()

(5) 下の史料は、D にあてはまる法令の一部である。これについて、次の問いに答えなさい。

所領の質入れや売買は、の生活が苦しくなるもとなので、今後は禁止する。……(中略)……
以外の武士や庶民がから買った土地については、売買後の年数にかかわらず、返さなければならない。

① D の法令を何といいますか。
()

② 史料中のに共通してあてはまる、将軍と主従関係を結んだ武士を何といいますか。
()

③ 鎌倉幕府が D の法令を出した目的は何ですか。②の語句を用いて、簡単に答えなさい。
()

(6) E にあてはまる人物を答えなさい。
()

(7) F について、倒幕運動で活躍した楠木正成など、幕府に従わない新興武士のなかには、荘園領主の使者を追い返したり、年貢をうばったりする者もいた。このような武士は何とよばれましたか。
()

得点	演習問題〔解答〕	実施日	月	日	氏名

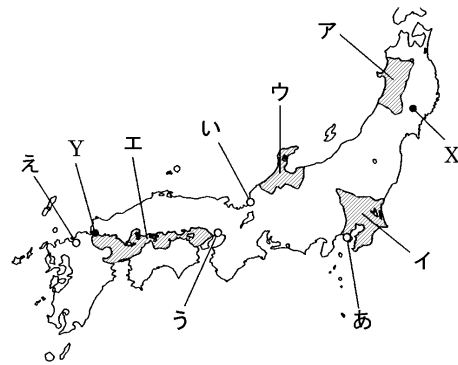
【1】 次の地図と年表を見て、あとの問いに答えなさい。

年代	できごと
935	平将門が反乱をおこす ……A
1016	藤原道長が ① になる
1086	白河上皇の院政が始まる ……B
1156	保元の乱がおこる ……C
1167	平清盛が ② になる ……D
1185	平氏がほろびる ……E
1192	源頼朝が ③ になる ……F
1219	北条氏の ④ 政治が始まる
1221	承久の乱がおこる ……G
1232	御成敗式日が制定される ……H

(1) 年表中の①～④にあてはまる役職名をそれぞれ答えなさい。

- ①(摂政)
- ②(太政大臣)
- ③(征夷大將軍)
- ④(執権)

(2) A について、この反乱がおこった地域を地図中のア～エから選び、記号で答えなさい。
(イ)



(3) B のころから、地図中の X を拠点とし、北方との交易や馬・金の産物によってさかえていた豪族は何氏ですか。
(奥州藤原氏)

(4) C の 3 年後におこり、平清盛が源氏をやぶった戦乱を何といいますか。
(平治の乱)

(5) D について、平清盛が中国との貿易を積極的に進めるために整備した港の位置を、地図中のあ～えから選び、記号で答えなさい。
(う)

(6) E について、地図中の Y の戦いで平氏はほろんだ、Y の地名を答えなさい。
(壇ノ浦)

(7) E と同じ年に源頼朝が国ごとに置いて、軍事や警察にあたらせた役人を何といいますか。
(守護)

(8) F によって、将軍と御家人は御恩と奉公の主従関係で結ばれた、御恩とは、将軍が具体的にどのようなことをしたのか。簡単に答えなさい。

〔 所領を与えたこと・土地の支配権を認めたこと など 〕

(9) G について、幕府打倒の兵を挙げた人物を答えなさい。
(後鳥羽上皇)

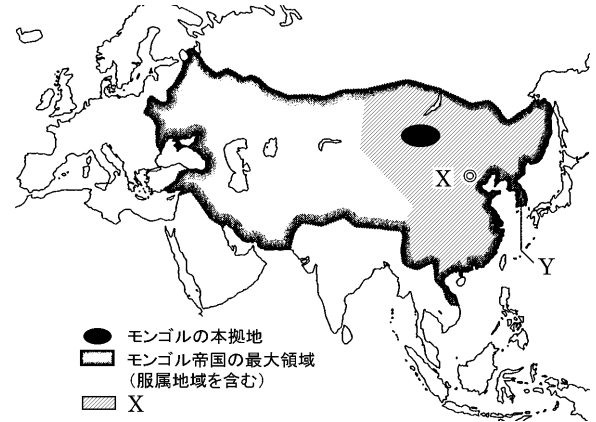
(10) G ののち、幕府が京都に設置して、朝廷の監視や西国の御家人の統率にあたらせた役所を何といいますか。
(六波羅探題)

(11) H について、この法令が定められた目的を次から選び、記号で答えなさい。
(ウ)

- ア 御家人たちに役人としての心構えを示すため。
- イ 御家人たちに土地の開墾を奨励するため。
- ウ 御家人たちに裁判の基準を示すため。
- エ 御家人たちに仏教を保護させるため。

【2】 次の年表と地図を見て、次の問いに答えなさい。

年代	できごと	中国	朝鮮
1192	源頼朝が鎌倉幕府を開く A	宋	
1221	承久の乱がおこる		Y
1274	文永の役がおこる ……B		
1281	弘安の役がおこる ……C		
1297	D が出される	X	
1332	E が隠岐に流される		
1333	鎌倉幕府がほろびる ……F		



(1) A の時期、モンゴル高原にあらわれて、モンゴル民族の統一をなした人物はだれですか。
(チンギス・ハン)

(2) 年表中の X・Y は、地図中の X・Y の国である、X・Y の国名をそれぞれ答えなさい。
X(元) Y(高麗)

(3) B の戦いでは、日本軍は苦しい戦いをいられた理由を X の戦法と武器の面から簡単に答えなさい。

〔 元軍の集団製法と火器を使用したから 〕

(4) B・C のできごとをまとめて何といいますか。
(元寇)

(5) 下の史料は、D にあてはまる法令の一部である。これについて、次の問いに答えなさい。

所領の質入れや売買は、の生活が苦しくなるもとので、今後は禁止する。……(中略)……
以外の武士や庶民がから買った土地については、売買後の年数にかかわらず、返さなければならない。

① D の法令を何といいますか。
(永仁の徳政令)

② 史料中のに共通してあてはまる、将軍と主従関係を結んだ武士を何といいますか。
(御家人)

③ 鎌倉幕府が D の法令を出した目的は何ですか。②の語句を用いて、簡単に答えなさい。

〔 財政の悪化した御家人の借金を帳消しにすること 〕

(6) E にあてはまる人物を答えなさい。
(後醍醐天皇)

(7) F について、倒幕運動で活躍した楠木正成など、幕府に従わない新興武士のなかには、荘園領主の使者を追い返したり、年貢をうばったりする者もいた。このような武士は何とよばれましたか。
(悪党)