

得点		演習問題	実施日	月 日	氏名


【1】下の年表を参考にして、次の問いに答えなさい。

西 暦	日本のおもなできごと
約1万年前	縄文時代が始まる……………A
紀元前 300 ころ	大陸から金属器や(①)が伝わる…B
57	奴国の王が漢に使いを送る
239	(②)が中国に使いを送る
4世紀	大和朝廷の統一が進む 各地で古墳がつくられる
5世紀	(③)や漢字、技術が伝わる
538	仏教が伝わる……………C

(1) 年表中の①～③にあてはまる語句を答えなさい。


①() ②() ③()

(2) A の縄文時代について、次の図と説明文に適する語句を答えなさい。



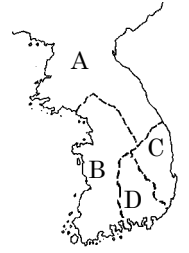
- ① 石や砂の表面でみがいて形をととのえた石器 ()
- ② まじないに使われたと考えられる土製品 ()
- ③ 青森県で発見された縄文時代中ごろの遺跡 ()

(3) B の時代について、次の図と説明文に適する語句を答えなさい。



- ① このころ佐賀県にあったまわりを濠に囲まれた集落を何といますか。 ()
- ② 食料を保存するためにつくられた倉庫を何といますか。 ()
- ③ 祭器として使われた図のような青銅器 ()
- (4) 朝鮮や中国から渡ってきて、日本に住みつくようになった人々を何といますか。 ()
- (5) (4)の人々によってわが国に伝えられた技術のうち「のぼりがま」を用いて高温で焼かれたかたい土器を何といますか。 ()

【2】5世紀ごろの東アジアについて、次の問いに答えなさい。



(1) 右の地図中のA～Cの国名をそれぞれ答えなさい。

A()
B()
C()

(2) 5世紀ごろ、大和国家の王(大王)が中国にたびたび使いを送った。このことについて、次の問いに答えなさい。

- ① 478年、中国に使いを送った大和国家の王(大王)はだれですか。 ()
- ② 大和国家の王(大王)が中国にたびたび使いを送ったのは、北朝と南朝のどちらですか。 ()
- ③ 大和国家の王(大王)が使いを送った目的を、次のア～エから1つ選び、記号で答えなさい。 ()

- ア 中国の進んだ制度や文化を積極的に取り入れるため。
- イ 統一しつつある日本が中国と対等の関係を結ぶため。
- ウ 倭王としての地位と朝鮮半島南部の支配権を認めてもらうため。
- エ 富と力をつけた日本に、中国が従うことを要求するため。

④ 5世紀ごろに朝鮮半島から移り住んだ人たちによって伝えられたものとして、ふさわしくないものを、次から1つ選びなさい。 ()

儒教 稲作 須恵器 漢字 機織りの技術

⑤ 6世紀(538年説が有力)に、日本へ仏教を公式に伝えた朝鮮半島の国を、地図中のA～Cから1つ選びなさい。 ()

【3】右の写真を見て、次の問いに答えなさい。



(1) この写真のような形の古墳を何といますか。 ()

(2) 古墳に飾られていた円筒形や人物・動物・建物などの形をした素焼きの土器を何といますか。 ()

(3) このような古墳がつくられていたころ、日本はどんな状態でしたか。簡潔に簡単に説明しなさい。

[]

(4) このような巨大な古墳の建造には、かなり程度の高い土木技術などが必要である。当時の進んだ技術を朝鮮や中国から伝えた人々を何といますか。 ()

(5) この当時、大陸から伝えられたさまざまな文化のうち、その後の日本人の信仰や日本の文化、日本人のものの考え方に大きな影響をあたえたものを2つ答えなさい。 () ()

得点	演習問題〔解答〕	実施日	月 日	氏名


【1】下の年表を参考にして、次の問いに答えなさい。

西 暦	日本のおもなできごと
約1万年前	縄文時代が始まる……………A
紀元前 300 ごろ	大陸から金属器や(①)が伝わる…B
57	奴国の王が漢に使いを送る
239	(②)が中国に使いを送る
4世紀	大和朝廷の統一が進む 各地で古墳がつくられる
5世紀	(③)や漢字、技術が伝わる
538	仏教が伝わる……………C

(1) 年表中の①～③にあてはまる語句を答えなさい。

①(稲作) ②(卑弥呼) ③(儒教)

(2) A の縄文時代について、次の図と説明文に適する語句を答えなさい。




① 石や砂の表面でみがいて形をととのえた石器
(磨製石器)

② まじないに使われたと考えられる土製品
(土偶)

③ 青森県で発見された縄文時代中ごろの遺跡
(三内丸山遺跡)

(3) B の時代について、次の図と説明文に適する語句を答えなさい。



① このころ佐賀県にあったまわりを濠に囲まれた集落を何と
いいますか。
(吉野ヶ里遺跡)

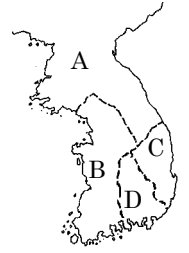
② 食料を保存するためにつくられた倉庫を何と
いいますか。
(高床倉庫)

③ 祭器として使われた図のような青銅器
(銅鐸)

(4) 朝鮮や中国から渡ってきて、日本に住みつこうになった
人々を何といいますか。
(渡来人)

(5) (4)の人々によってわが国に伝えられた技術のうち「のぼり
がま」を用いて高温で焼かれたかたい土器を何と
いいますか。
(須恵器)

【2】5世紀ごろの東アジアについて、次の問いに答えなさい。



(1) 右の地図中のA～Cの国名をそれぞれ
答えなさい。

A(高句麗)
B(百済)
C(新羅)

(2) 5世紀ごろ、大和国家の王(大王)が中国にたびたび
使いを送った。このことについて、次の問いに
答えなさい。

① 478年、中国に使いを送った大和国家の王(大王)は
だれですか。
(倭王武)

② 大和国家の王(大王)が中国にたびたび使いを送った
のは、北朝と南朝のどちらですか。
(南朝)

③ 大和国家の王(大王)が使いを送った目的を、次のア～エ
から1つ選び、記号で答えなさい。
(ウ)

ア 中国の進んだ制度や文化を積極的に取り入れるため。

イ 統一しつつある日本が中国と対等の関係を結ぶため。

ウ 倭王としての地位と朝鮮半島南部の支配権を認めて
もらうため。

エ 富と力をつけた日本に、中国が従うことを要求するため。

④ 5世紀ごろに朝鮮半島から移り住んだ人たちによって
伝えられたものとして、ふさわしくないものを、次から
1つ選びなさい。
(稲作)

儒教 稲作 須恵器 漢字 機織りの技術

⑤ 6世紀(538年説が有力)に、日本へ仏教を公式に
伝えた朝鮮半島の国を、地図中のA～Cから1つ
選びなさい。
(B)

【3】右の写真を見て、次の問いに答えなさい。



(1) この写真のような形の古墳を何と
いいますか。
(前方後円墳)

(2) 古墳に飾られていた円筒形や人物・動物・建物
などの形をした素焼きの土器を何と
いいますか。(埴輪〔はにわ〕)

(3) このような古墳がつくられていたころ、日本は
どんな状態でしたか。簡潔に簡単に説明しなさい。

〔 大和政権による国内統一が進められていた 〕

(4) このような巨大な古墳の建造には、かなり
程度の高い土木技術などが必要である。当時の
進んだ技術を朝鮮や中国から伝えた人々を何と
いいますか。(渡来人)

(5) この当時、大陸から伝えられたさまざまな
文化のうち、その後の日本人の信仰や日本の
文化、日本人のものの考え方に大きな影響を
あたえたものを2つ答えなさい。

(仏教) (儒教)