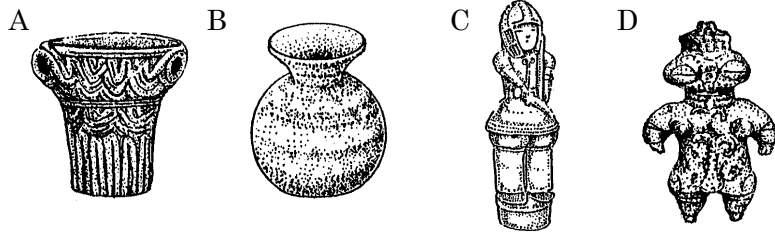


得点	<b>演習問題</b>			実施日	月 日	氏名
	単元名:日本の国のおこり ④					

【1】 次の資料を参考にして、あとの問いに答えなさい。



- (1) 資料 A、B の土器をそれぞれ何といいますか。  
A( ) B( )
- (2) C のように、人物や動物をかたどった焼きものを何といいますか。( )
- (3) D は女性をあらわすものが多く、豊かな収穫を祈るまじないの意味をもつものと考えられている。これを何といいますか。( )
- (4) 次の時代に使用されていたのは A～C のどの土器(焼きもの)ですか。記号で答えなさい。  
① 大和国家が成立したのち、各地で大王や豪族の古墳がつくられた。( )  
② 移住生活をする必要がなくなり、人々は低地に定住生活をするようになった。( )  
③ 狩りや漁をし、木の実や草の根を食べていた。( )
- (5) B の土器が使われていた時代の社会のようすとして正しいものを次から選び、記号で答えなさい。( )  
(ア) 平地から山間部の盆地に移り住むようになった。  
(イ) 「むら」ができ、穀物を貯蔵できるようになった。  
(ウ) 石器、木器、骨角器などが使われ、貧富の差もなかった。
- (6) 人々が、貝がらやいらなくなった器物を捨てた当時のごみ捨て場を何といいますか。( )
- (7) 人々が、稲の穂をつみとるために使った石の道具を何といいますか。( )

【2】 次の資料を読み、あとの問いに答えなさい。

A 建武中元2年、倭の奴国が貢物をもって挨拶に来た。その使者は奴国の大臣であるといっている。奴国は倭の国の中で最も南の国であるという。漢の皇帝はそれに対して、金印をあたえた。

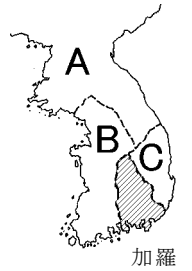
B 倭人は帯方郡の南東の大海の中にある山がちの島に、国や村をつくっている。帯方郡から倭に行くには、海岸にそって海を進み、韓国をへて南の方に、また東の方へ行って邪馬台国に達する。そこには、女王が都をおさめている。

- (1) 資料 A について、次の問いに答えなさい。  
① 建武中元 2 年は、何世紀にあたりますか。( ) 世紀)  
② 漢の皇帝とはだれのことですか。( )

- ③ 漢の皇帝からあたえられた金印には、どのような文字が記されていたか。漢字5字で答えなさい。( )
- ④ 金印が発見された地名を答えなさい。( )
- (2) 資料 B について、次の問いに答えなさい。  
① この資料を何といいますか。( )  
② 文中の女王とはだれのことですか。( )  
③ 女王が現れたのは、何世紀のことですか。( ) 世紀)  
④ 邪馬台国のあった場所については二つの説がある。一つは畿内説であるが、もう一つはどこにあったとする説ですか。( )  
⑤ 邪馬台国の人々の生活について、次の説明の中から正しいものを一つ選び、記号で答えなさい。( )  
(ア) 稲や麻が作られたほか、養蚕も行われ、織物が織られた。  
(イ) 稲や麻を作り、麻から織物を作ったが、養蚕は行われていなかった。  
(ウ) 稲は作っていたが麻は作っていなかった。また、養蚕を行い、織物が織られた。
- ⑥ A、B の資料では、当時の日本を何とよんでいますか。( )

【3】 次の文と地図を参考にして、あとの問いに答えなさい。

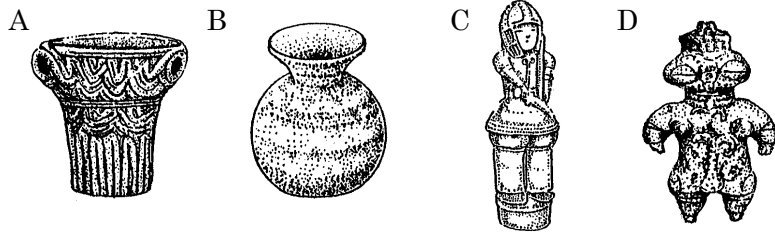
大和国家は、小国が分立したままであったが加羅地方の国々に勢力をのぼし、( B )と結んで( A )や( C )と戦った、5 世紀には、大和国家の大王が中国の南朝に「わたしの祖先は、自らよろいやかぶとを身につけ、山や川をかけめぐり、東は 55 国、西は 66 国、さらに海を渡って 95 国を平定しました」と手紙を送っている。



- (1) 文中の A～C にあてはまる朝鮮半島の国名を答えなさい。  
A( ) B( ) C( )
- (2) 文中の下線部の手紙を中国に送った人物はだれですか。( )
- (3) A の国の王が、倭の軍隊と戦ってこれを打ち破ったと記された石碑が残っているが、王とはだれのことですか。( )
- (4) このころにつくられた大王や豪族の古墳について、次の問いに答えなさい。  
① 大阪府堺市には墳丘が 486m もあるわが国で最大の古墳がある。この古墳を何といいますか。( )  
② この古墳はどのような形式がとられていますか。( )  
③ 古墳の副葬品として出土する青銅器にはどのようなものがありますか。二種類答えなさい。( )

得点	演習問題〔解答〕	実施日	月 日	氏名

【1】 次の資料を参考にして、あとの問いに答えなさい。



- (1) 資料 A、B の土器をそれぞれ何といますか。  
 A( 縄文土器 ) B( 弥生土器 )
- (2) C のように、人物や動物をかたどった焼きものを何といますか。  
 ( 埴輪〔はにわ〕 )
- (3) D は女性をあらわすものが多く、豊かな収穫を祈るまじないの意味をもつものと考えられている。これを何といますか。  
 ( 土偶 )
- (4) 次の時代に使用されていたのは A~C のどの土器(焼きもの)ですか。記号で答えなさい。  
 ① 大和国家が成立したのち、各地で大王や豪族の古墳がつくられた。 ( C )  
 ② 移住生活をする必要がなくなり、人々は低地に定住生活をするようになった。 ( B )  
 ③ 狩りや漁をし、木の実や草の根を食べていた。 ( A )
- (5) B の土器が使われていた時代の社会のようすとして正しいものを次から選び、記号で答えなさい。 ( イ )
- (ア) 平地から山間部の盆地に移り住むようになった。  
 (イ) 「むら」ができ、穀物を貯蔵できるようになった。  
 (ウ) 石器、木器、骨角器などが使われ、貧富の差もなかった。
- (6) 人々が、貝がらやいらなくなった器物を捨てた当時のごみ捨て場を何といますか。 ( 貝塚 )
- (7) 人々が、稲の穂をつみとるために使った石の道具を何といますか。 ( 石包丁 )

【2】 次の資料を読み、あとの問いに答えなさい。

A 建武中元2年、倭の奴国が貢物をもって挨拶に来た。その使者は奴国の大臣であるといっている。奴国は倭の国の中で最も南の国であるという。漢の皇帝はそれに対して、金印をあたえた。

B 倭人は帯方郡の南東の大海の中にある山がちの島に、国や村をつくっている。帯方郡から倭に行くには、海岸にそって海を進み、韓国をへて南の方に、また東の方へ行って邪馬台国に達する。そこには、女王が都をおさめている。

- (1) 資料 A について、次の問いに答えなさい。  
 ① 建武中元 2 年は、何世紀にあたりますか。 ( 1 世紀 )  
 ② 漢の皇帝とはだれのことですか。 ( 光武帝 )

- ③ 漢の皇帝からあたえられた金印には、どのような文字が記されていたか。漢字5字で答えなさい。 ( 漢委奴国王 )  
 [倭]
- ④ 金印が発見された地名を答えなさい。  
 ( 志賀島 )
- (2) 資料 B について、次の問いに答えなさい。  
 ① この資料を何といますか。 ( 魏志倭人伝 )  
 ② 文中の女王とはだれのことですか。 ( 卑弥呼 )  
 ③ 女王が現れたのは、何世紀のことですか。 ( 3 世紀 )  
 ④ 邪馬台国のあった場所については二つの説がある。一つは畿内説であるが、もう一つはどこにあったとする説ですか。  
 ( 北九州 )  
 ⑤ 邪馬台国の人々の生活について、次の説明の中から正しいものを一つ選び、記号で答えなさい。 ( イ )  
 (ア) 稲や麻が作られたほか、養蚕も行われ、織物が織られた。  
 (イ) 稲や麻を作り、麻から織物を作ったが、養蚕は行われていなかった。  
 (ウ) 稲は作っていたが麻は作っていなかった。また、養蚕を行い、織物が織られた。
- ⑥ A、B の資料では、当時の日本を何とよんでいますか。  
 ( 倭 )

【3】 次の文と地図を参考にして、あとの問いに答えなさい。

大和国家は、小国が分立したままであったが加羅地方の国々に勢力をのぼし、( B )と結んで( A )や( C )と戦った、5世紀には、大和国家の大王が中国の南朝に「わたしの祖先は、自らよろいやかぶとを身につけ、山や川をかけめぐり、東は55国、西は66国、さらに海を渡って95国を平定しました」と手紙を送っている。



- (1) 文中の A~C にあてはまる朝鮮半島の国名を答えなさい。  
 A( 高句麗 ) B( 百済 ) C( 新羅 )
- (2) 文中の下線部の手紙を中国に送った人物はだれですか。  
 ( 武〔雄略天皇〕 )
- (3) A の国の王が、倭の軍隊と戦ってこれを打ち破ったと記された石碑が残っているが、王とはだれのことですか。  
 ( 好太王〔広開土王〕 )
- (4) このころにつくられた大王や豪族の古墳について、次の問いに答えなさい。  
 ① 大阪府堺市には墳丘が 486m もあるわが国で最大の古墳がある。この古墳を何といますか。  
 ( 大仙古墳 )  
 ② この古墳はどのような形式がとられていますか。  
 ( 前方後円墳 )  
 ③ 古墳の副葬品として出土する青銅器にはどのようなものがありますか。二種類答えなさい。( 銅剣・銅矛・銅鏡など )