

絶対暗記するプリント

日本の古代国家 ②

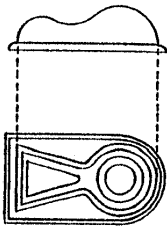
実施

/

氏名

- ① 4世紀ごろ、現在の奈良県を中心にできた強大な連合政権を何とといいますか。 (大和政権)
- ② このころの盛んに作られた豪族の墓を何とといいますか。 (古墳)
- ③ ②の墓のうち下の図Aのような形のものを何とといいますか。 (前方後円墳)
- ④ 大阪府堺市にある世界最大級の③の形の墓を何とといいますか。 (大仙古墳)
- ⑤ ②の周囲におかれた下の図B・Cのような素焼きの焼き物を何とといいますか。 (埴輪)

〔図A〕



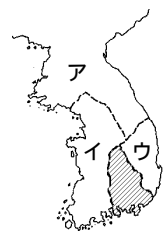
〔図B〕



〔図C〕



〔図D〕



- ⑥ ①の連合政権の中心になった王を何とといいますか。 (大王)
- ⑪ 「ワカタケル」の名前が記された鉄剣が発見された埼玉県や熊本県にある古墳をそれぞれ何とといいますか。
- 埼玉県 (稲荷山古墳) 熊本県 (江田船山古墳)
- ⑫ ⑪のことからどんなことがわかりますか。簡単に説明しなさい。

[九州から関東まで大和政権の勢力がおよんでいたこと]

- ⑬ このころ日本は、朝鮮半島〔図D〕の [] に進出しました。この地域を何とといいますか。 (加羅(任那))
- ⑭ 日本は上の〔図D〕のイと協力してア・ウと戦いました。それぞれ、何という国ですか。 ア(高句麗)
- イ(百済)
- ウ(新羅)
- ⑮ このころの政権が使いを送ったのは中国の北朝と南朝のどちらですか。 (南朝)
- ⑯ 日本が⑮に使いを出した目的は何ですか。 [朝鮮半島での日本の立場を認めてもらうため]
- ⑰ 「ワカタケル」大王は、倭の五王、讚・珍・濟・興・武のうちだれだと考えられていますか。 (武)
- ⑱ このころ朝鮮から日本に移住してきた人々を何とといいますか。 (渡来人)
- ⑲ 5世紀に⑱の人々が日本に伝えた文字は何ですか。 (漢字)
- ⑳ 5世紀に⑱の人々が日本に伝えた文化(学問)は何ですか。 (儒教)
- ㉑ 5世紀に⑭の人々が日本に伝えた登り窯で焼いた固い質の土器を何とといいますか。 (須恵器)
- ㉒ 538年に日本に伝わった宗教は何ですか。 (仏教)
- ㉓ ①の政権内における豪族の身分序列を表したしくみを何とといいますか。 [教科書外] (氏姓制度)

絶対暗記するプリント

日本の古代国家 ②

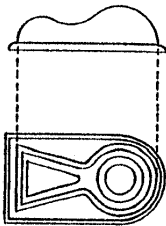
実施

/

氏名

- ① 4世紀ごろ、現在の奈良県を中心にできた強大な連合政権を何といますか。 ()
- ② このころの盛んに作られた豪族の墓を何といますか。 ()
- ③ ②の墓のうち下の図Aのような形のものを何といますか。 ()
- ④ 大阪府堺市にある世界最大級の③の形の墓を何といますか。 ()
- ⑤ ②の周囲におかれた下の図B・Cのような素焼きの焼き物を何といますか。 ()

〔図A〕



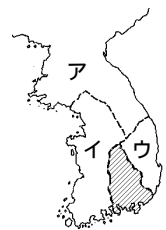
〔図B〕



〔図C〕



〔図D〕



- ⑥ ①の連合政権の中心になった王を何といますか。 ()
- ⑪ 「ワカタケル」の名前が記された鉄剣が発見された埼玉県や熊本県にある古墳をそれぞれ何といますか。
- 埼玉県 () 熊本県 ()
- ⑫ ⑪のことからどんなことがわかりますか。簡単に説明しなさい。

{

- ⑬ このころ日本は、朝鮮半島〔図D〕の  に進出しました。この地域を何といますか。 ()

- ⑭ 日本は上の〔図D〕のイと協力してア・ウと戦いました。それぞれ、何という国ですか。 ア()
- イ()
- ウ()

- ⑮ このころの政権が使いを送ったのは中国の北朝と南朝のどちらですか。 ()

- ⑯ 日本が⑮に使いを出した目的は何ですか。 {

- ⑰ 「ワカタケル」大王は、倭の五王、讃・珍・濟・興・武のうちだれだと考えられていますか。 ()

- ⑱ このころ朝鮮から日本に移住してきた人々を何といますか。 ()

- ⑲ 5世紀に⑱の人々が日本に伝えた文字は何ですか。 ()

- ⑳ 5世紀に⑱の人々が日本に伝えた文化(学問)は何ですか。 ()

- ㉑ 5世紀に⑭の人々が日本に伝えた登り窯で焼いた固い質の土器を何といますか。 ()

- ㉒ 538年に日本に伝わった宗教は何ですか。 ()

- ㉓ ①の政権内における豪族の身分序列を表したしくみを何といますか。 教科書外 ()