

絶対暗記するプリント

日本の古代国家 ①

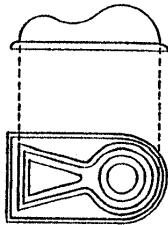
実施

/

氏名

- ① 西暦57年、漢の国王が金印を与えたとされる当時の日本にあった国は何ですか。 (奴国)
- ② ①が記されている中国の書物は何ですか。 (後漢書東夷伝)
- ③ 3世紀ごろの日本で30余国を従えていた国は何ですか。 (邪馬台国)
- ④ まじない(鬼道)によって③の国を治めていた女王はだれですか。 (卑弥呼)
- ⑤ ④の人物が使いを送ったことが記録されている中国の書物は何ですか。 (魏志倭人伝)
- ⑥ 仁徳天皇陵に代表される下の図Aのような古墳の形を何といいますか。 (前方後円墳)
- ⑦ 古墳の周囲におかれた下の図B・Cを何といいますか。 (埴輪)

〔図A〕



〔図B〕



〔図C〕



〔図D〕



- ⑧ 4世紀ごろ、現在の奈良県を中心とする地域にできた強大な政権を何といいますか。 (大和政権)
- ⑨ ⑧の連合政権の中心になった王を何といいますか。漢字と読みを答えなさい。 (大王 おおきみ)
- ⑩ 「ワカタケル」の名前が記された鉄剣が発見された稲荷山古墳・江田船山古墳はそれぞれ何県にありますか。
- 稲荷山古墳 (埼玉県)
- 江田船山古墳 (熊本県)
- ⑪ ⑩のことからどんなことがわかりますか。簡単に説明しなさい。

〔九州から関東まで大和政権の勢力がおよんでいたこと〕

- ⑫ このころ日本は、朝鮮半島〔図D〕の■■■に進出しました。この地域を何といいますか。 (加羅(任那))
- ⑬ 日本は上の〔図D〕のイと協力してア・ウと戦いました。それぞれ、何という国ですか。 ア(高句麗)
- イ(百済)
- ウ(新羅)
- ⑭ このころ朝鮮から日本に移住してきた人々を何といいますか。 (渡来人)
- ⑮ 5世紀に⑭の人々が日本に伝えた文字は何ですか。 (漢字)
- ⑯ 5世紀に⑭の人々が日本に伝えた文化(学問)は何ですか。 (儒教)
- ⑰ 5世紀に⑭の人々が日本に伝えた登り窯で焼いた固い質の土器を何といいますか。 (須恵器)
- ⑱ 538年に日本に伝わった宗教は何ですか。 (仏教)
- ⑲ このころの政権が使いを送ったのは中国の北朝と南朝のどちらですか。 (南朝)
- ⑳ 日本が⑲に使いを出した目的は何ですか。 (朝鮮半島での日本の立場を認めてもらうため)

絶対暗記するプリント

日本の古代国家 ①

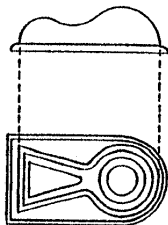
実施

/

氏名

- ① 西暦57年、漢の国王が金印を与えたとされる当時の日本にあった国は何ですか。 ()
- ② ①が記されている中国の書物は何ですか。 ()
- ③ 3世紀ごろの日本で30余国を従えていた国は何ですか。 ()
- ④ まじない(鬼道)によって③の国を治めていた女王はだれですか。 ()
- ⑤ ④の人物が使いを送ったことが記録されている中国の書物は何ですか。 ()
- ⑥ 仁徳天皇陵に代表される下の図Aのような古墳の形を何とといいますか。 ()
- ⑦ 古墳の周囲におかれた下の図B・Cを何とといいますか。 ()

〔図A〕



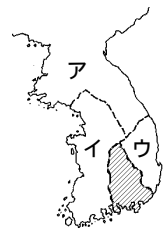
〔図B〕



〔図C〕



〔図D〕



- ⑧ 4世紀ごろ、現在の奈良県を中心とする地域にできた強大な政権を何とといいますか。 ()
- ⑨ ⑧の連合政権の中心になった王を何とといいますか。漢字と読みを答えなさい。 ()
- ⑩ 「ワカタケル」の名前が記された鉄剣が発見された稲荷山古墳・江田船山古墳はそれぞれ何県にありますか。

稲荷山古墳 ()

江田船山古墳 ()

- ⑪ ⑩のことからどんなことがわかりますか。簡単に説明しなさい。

{

}

- ⑫ このころ日本は、朝鮮半島〔図D〕の  に進出しました。この地域を何とといいますか。 ()

- ⑬ 日本は上の〔図D〕のイと協力してア・ウと戦いました。それぞれ、何という国ですか。 ア()

イ()

ウ()

- ⑭ このころ朝鮮から日本に移住してきた人々を何とといいますか。 ()

- ⑮ 5世紀に⑭の人々が日本に伝えた文字は何ですか。 ()

- ⑯ 5世紀に⑭の人々が日本に伝えた文化(学問)は何ですか。 ()

- ⑰ 5世紀に⑭の人々が日本に伝えた登り窯で焼いた固い質の土器を何とといいますか。 ()

- ⑱ 538年に日本に伝わった宗教は何ですか。 ()

- ⑲ このころの政権が使いを送ったのは中国の北朝と南朝のどちらですか。 ()

- ⑳ 日本が⑲に使いを出した目的は何ですか。 { }