

# 絶対暗記するプリント

四大文明 ①〔基礎〕

実施

氏名

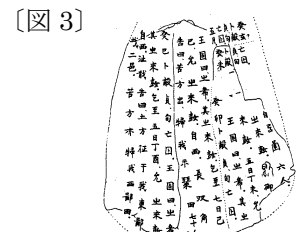
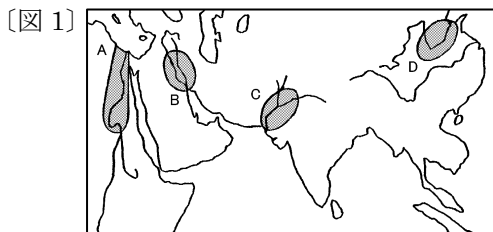
- ① アフリカで発見された約 700 万年～500 万年前の最も古い人類を何といますか。 ( 猿人 )
- ② 道具や火を使用し始めた約 200 万年前に現れた人類を何といますか。 ( 原人 )
- ③ 約 20 万年前に現れた現在の人類の直接の祖先と考えられる人類は何ですか。 ( 新人〔ホモ・サピエンス〕 )
- ④ 石を打ち欠いただけの石器を使用し狩猟や採集を行っていた時代を何といますか。 ( 旧石器時代 )
- ⑤ ④の石を打ち欠いただけの石器を何といますか。 ( 打製石器 )
- ⑥ 農耕や牧畜が始まるころには、④の石器にかわって何石器が使用されましたか。 ( 磨製石器 )
- ⑦ ⑥が使用されるようになった時代を何といますか。 ( 新石器時代 )
- ⑧ 紀元前 3000 年ごろ各地の都市や国家で使用され始めたものを2つ答えなさい。 ( 青銅器・文字 )
- ⑨ 下の〔図 1〕の A～D の地域に発達した文明の名前と関係の深い川の名前をそれぞれ答えなさい。

A ( エジプト 文明 ) ( ナイル 川 )

B ( メソポタミア 文明 ) ( ティグリス・ユーフラテス 川 )

C ( インダス 文明 ) ( インダス 川 )

D ( 中国 文明 ) ( 黄河 )



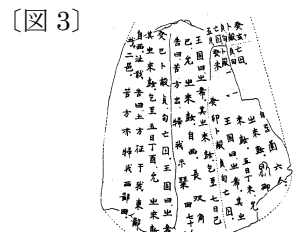
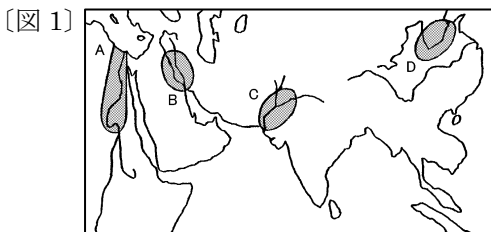
- ⑩ 〔図 2〕は A～D のどの文明と関係が深いですか。また、〔図 2〕を何といますか。 ( A・ピラミッド )
- ⑪ 〔図 1〕の B の文明で使用されていた文字を何といますか。 ( くさび形文字 )
- ⑫ A・B の地域を後のヨーロッパの人々は太陽の昇る土地という意味で何とよびましたか。 ( オリент )
- ⑬ 〔図 1〕の C の地域で紀元前5世紀ごろシャカがひらいた宗教を何といますか。 ( 仏教 )
- ⑭ 紀元前 1500 年ごろ〔図 1〕の D で、青銅器の文化を発展させた王朝は何ですか。 ( 殷 )
- ⑮ 〔図 1〕の D で使用されていた〔図 3〕のような漢字のもとになる文字を何といますか。 ( 甲骨文字 )
- ⑯ 紀元前6世紀ころ、家族・道徳を重んじ政治に生かすことを説いたのはだれですか。 ( 孔子 )
- ⑰ ⑯の人物が説いた思想を何といますか。 ( 儒教〔儒学〕 )
- ⑱ 紀元前8世紀から戦乱が続いていた中国を紀元前 221 年統一した王朝は何ですか。 ( 秦 )
- ⑲ ⑱が北方の遊牧民族(匈奴)の侵入を防ぐために築いたものは何ですか。 ( 万里の長城 )
- ⑳ ⑲が滅んだ後、中国を統一し、郡県制度を確立した王朝は何ですか。 ( 漢 )
- ㉑ ⑳のころの中国から中央アジアをへてヨーロッパまでの交通路を何といますか。 ( シルクロード )
- ㉒ 1 世紀ごろ朝鮮半島の北部を統一した国を何といますか。 ( 高句麗 )

# 確認テスト

四大文明 ①〔基礎〕	実施 /	氏名
------------	------	----

- ① アフリカで発見された約 700 万年～500 万年前の最も古い人類を何といますか。 ( )
- ② 道具や火を使用し始めた約 200 万年前に現れた人類を何といますか。 ( )
- ③ 約 20 万年前に現れた現在の人類の直接の祖先と考えられる人類は何ですか。 ( )
- ④ 石を打ち欠いただけの石器を使用し狩猟や採集を行っていた時代を何といますか。 ( )
- ⑤ ④の石を打ち欠いただけの石器を何といますか。 ( )
- ⑥ 農耕や牧畜が始まるころには、④の石器にかわって何石器が使用されましたか。 ( )
- ⑦ ⑥が使用されるようになった時代を何といますか。 ( )
- ⑧ 紀元前 3000 年ごろ各地の都市や国家で使用され始めたものを2つ答えなさい。 ( )
- ⑨ 下の〔図 1〕の A～D の地域に発達した文明の名前と関係の深い川の名前をそれぞれ答えなさい。

A (            文明 ) (            川 )    B (            文明 ) (            川 )  
 C (            文明 ) (            川 )    D (            文明 ) (            川 )



- ⑩ 〔図 2〕は A～D のどの文明と関係が深いですか。また、〔図 2〕を何といますか。 ( )
- ⑪ 〔図 1〕の B の文明で使用されていた文字を何といますか。 ( )
- ⑫ A・B の地域を後のヨーロッパの人々は太陽の昇る土地という意味で何とよびましたか。 ( )
- ⑬ 〔図 1〕の C の地域で紀元前5世紀ごろシャカがひらいた宗教を何といますか。 ( )
- ⑭ 紀元前 1500 年ごろ〔図 1〕の D で、青銅器の文化を発展させた王朝は何ですか。 ( )
- ⑮ 〔図 1〕の D で使用されていた〔図 3〕のような漢字のもとになる文字を何といますか。 ( )
- ⑯ 紀元前6世紀ころ、家族・道徳を重んじ政治に生かすことを説いたのはだれですか。 ( )
- ⑰ ⑯の人物が説いた思想を何といますか。 ( )
- ⑱ 紀元前8世紀から戦乱が続いていた中国を紀元前 221 年統一した王朝は何ですか。 ( )
- ⑲ ⑱が北方の遊牧民族(匈奴)の侵入を防ぐために築いたものは何ですか。 ( )
- ⑳ ⑱が滅んだ後、中国を統一し、郡県制度を確立した王朝は何ですか。 ( )
- ㉑ ⑳のころの中国から中央アジアをへてヨーロッパまでの交通路を何といますか。 ( )
- ㉒ 1 世紀ごろ朝鮮半島の北部を統一した国を何といますか。 ( )