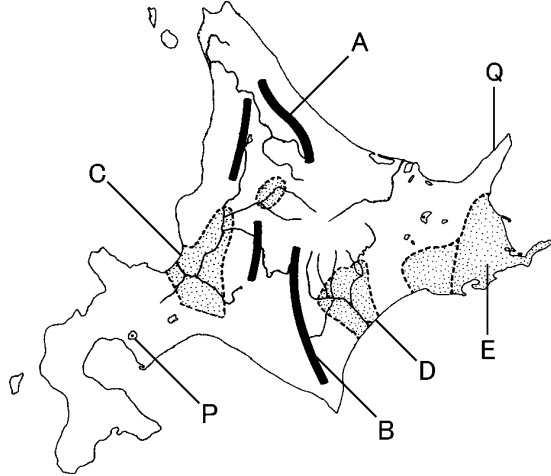


得点	演習問題	実施日	月 日	氏名

【1】下の地図を見て、次の問いに答えなさい。



- ① 地図中の A・B の山地・山脈の名をそれぞれ答えなさい。  
 A( ) B( )
- ② 地図中の C～E の平野・台地の名をそれぞれ答えなさい。  
 C( ) D( ) E( )

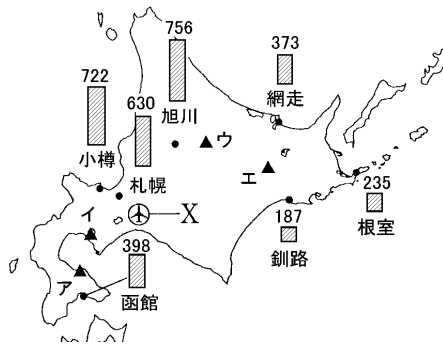
③ 右の写真は地図中の P の湖である。この地域は火山によってつくられた地形が多く残されていることから「ジオパーク」に指定されている。この写真の湖の名前を答えなさい。( )



④ 地図中の Q は豊かな自然がユネスコの「世界遺産」に指定された半島である。半島の名前を答えなさい。( )

【2】右の地図を見て、次の問いに答えなさい。

① 地図中のグラフは、おもな都市の 1 年間に降る雪の深さを示している。雪の量が少ない地域を、次から選び、記号で答えなさい。( )



- ア 北海道内陸部  
 イ 北海道東部  
 ウ 北海道西部

② 地図中の札幌市を中心に広がる石狩平野では、もともと稲作に適さない土壌が広がっていた。この土壌を何といますか。( )

③ 北海道の住居に見られる冬の寒さをやわらげるくふうを、次から 2 つ選び、記号で答えなさい。( )

- ア 窓を二重にする。                      イ 屋根にかわらを使う。  
 ウ 家のまわりを石垣で囲む。          エ 断熱性の高い壁を使う。

④ 2000 年に噴火した有珠山を地図中のア～エから選び、記号で答えなさい。( )

⑤ 北海道を訪れる観光客の多くは、地図中の X の空港を利用している。X の空港名を答えなさい。( ) 空港)

【3】次の問いに答えなさい。

① 北海道の畑作の中心となっている十勝平野の特色と、畑作のようすについて述べたものとしてあやまっているものを、次のア～エから 1 つ選びなさい。( )

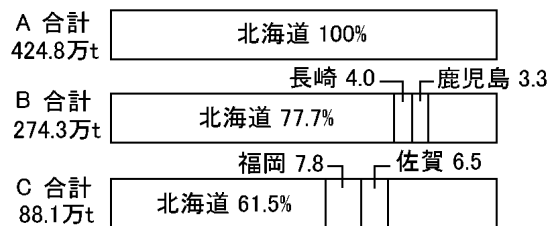
- ア 火山の噴出物でおおわれたローム層と十勝川から運ばれた土が堆積している。  
 イ 多くの農家は、農業以外にも収入を得ている準主業農家である。  
 ウ 多くの土地では、土地の栄養をなくさないようにするため輪作を行っている。  
 エ 農作業には大型機械が導入されている。

② 下のグラフは、十勝平野を中心に栽培されている農産物の都道府県別生産割合である。A～C にあてはまる農産物を、次のア～エからそれぞれ選びなさい。

A( ) B( ) C( )

ア じゃがいも      イ 小麦      ウ さつまいも      エ てんさい

〔北海道の農産物の割合〕



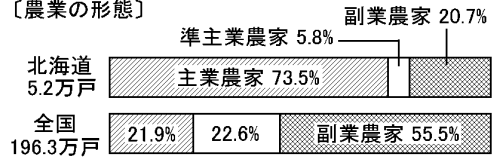
③ 根釧台地でさかんな農業を何といますか。( )

【4】下のグラフを見て、次の問いに答えなさい。

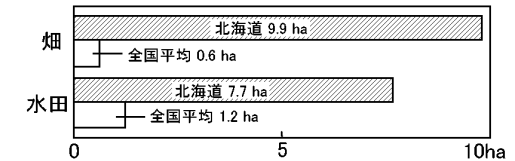
① 右のグラフは北海道と全国の農家を、農家の形態と耕地面積の点から比べたものである。グラフから読み取れる北海道の農業の特色を、簡単に説明しなさい。



〔農業の形態〕



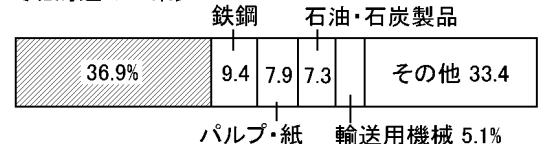
〔農家一戸当たりの耕地面積〕



② 下のグラフは北海道の工業の生産額の割合を表している。グラフの斜線の部分にあてはまる工業の種類を、次から選び記号で答えなさい。( )

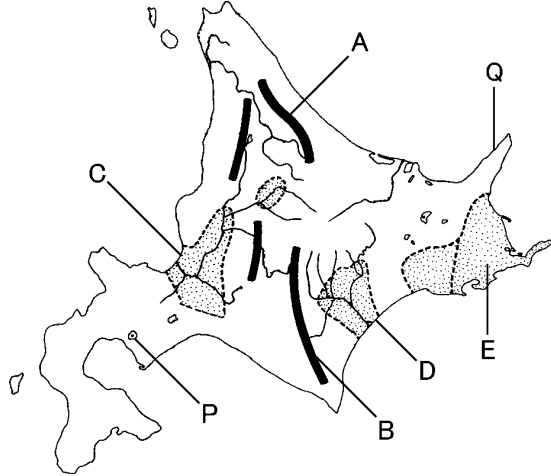
- ア 電子部品  
 イ 化学  
 ウ 印刷  
 エ 食料品

〔北海道の工業〕



得点	演習問題 (解答)	実施日	月 日	氏名

【1】下の地図を見て、次の問いに答えなさい。



- ① 地図中の A・B の山地・山脈の名をそれぞれ答えなさい。  
 A( 北見山地 ) B( 日高山脈 )
- ② 地図中の C～E の平野・台地の名をそれぞれ答えなさい。  
 C( 石狩平野 ) D( 十勝平野 ) E( 根釧台地 )

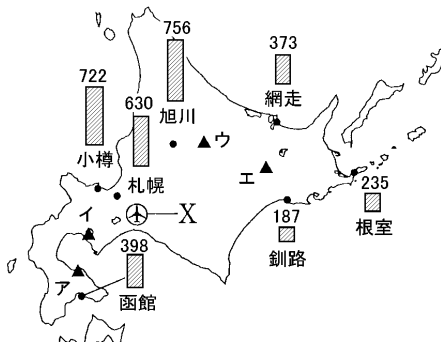
③ 右の写真は地図中の P の湖である。この地域は火山によってつくられた地形が多く残されていることから「ジオパーク」に指定されている。この写真の湖の名前を答えなさい。( 洞爺湖 )



④ 地図中の Q は豊かな自然がユネスコの「世界遺産」に指定された半島である。半島の名前を答えなさい。  
 ( 知床半島 )

【2】右の地図を見て、次の問いに答えなさい。

① 地図中のグラフは、おもな都市の 1 年間に降る雪の深さを示している。雪の量が少ない地域を、次から選び、記号で答えなさい。( イ )



- ア 北海道内陸部  
 イ 北海道東部  
 ウ 北海道西部

② 地図中の札幌市を中心に広がる石狩平野では、もともと稲作に適さない土壌が広がっていた。この土壌を何といますか。  
 ( 泥炭地 )

③ 北海道の住居に見られる冬の寒さをやわらげるくふうを、次から 2 つ選び、記号で答えなさい。( ア・エ )

- ア 窓を二重にする。                      イ 屋根にかわらを使う。  
 ウ 家のまわりを石垣で囲む。          エ 断熱性の高い壁を使う。

④ 2000 年に噴火した有珠山を地図中のア～エから選び、記号で答えなさい。( イ )

⑤ 北海道を訪れる観光客の多くは、地図中の X の空港を利用している。X の空港名を答えなさい。( 千歳 空港 )

【3】次の問いに答えなさい。

① 北海道の畑作の中心となっている十勝平野の特色と、畑作のようすについて述べたものとしてあやまっているものを、次のア～エから 1 つ選びなさい。( イ )

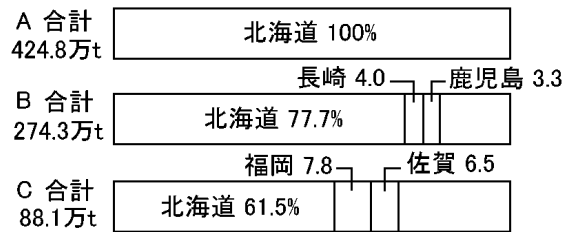
- ア 火山の噴出物でおおわれたローム層と十勝川から運ばれた土が堆積している。  
 イ 多くの農家は、農業以外にも収入を得ている準主業農家である。  
 ウ 多くの土地では、土地の栄養をなくさないようにするため輪作を行っている。  
 エ 農作業には大型機械が導入されている。

② 下のグラフは、十勝平野を中心に栽培されている農産物の都道府県別生産割合である。A～C にあてはまる農産物を、次のア～エからそれぞれ選びなさい。

A( エ ) B( ア ) C( イ )

ア じゃがいも    イ 小麦    ウ さつまいも    エ てんさい

〔北海道の農産物の割合〕

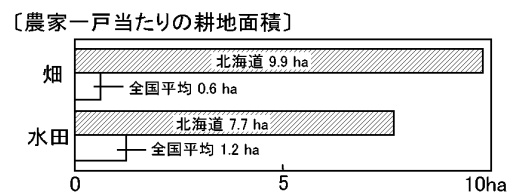
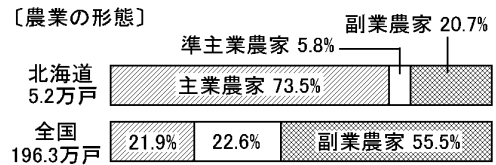


③ 根釧台地でさかんな農業を何といますか。  
 ( 酪農〔混合農業〕 )

【4】下のグラフを見て、次の問いに答えなさい。

① 右のグラフは北海道と全国の農家を、農家の形態と耕地面積の点から比べたものである。グラフから読み取れる北海道の農業の特色を、簡単に説明しなさい。

〔 農家一戸当たりの耕地面積が広いと主業農家の割合が高い 〕



② 下のグラフは北海道の工業の生産額の割合を表している。グラフの斜線の部分にあてはまる工業の種類を、次から選び記号で答えなさい。( エ )

〔北海道の工業〕

