

得点	演習問題	実施日	月 日	氏名

【1】右の地図を見て、次の問いに答えなさい。

(1) 地図中に A～C で示した山地・山脈・高地を何といますか。

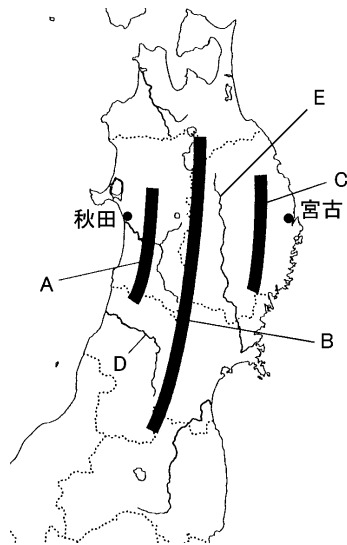
- A()
- B()
- C()

(2) 地図中に D・E で示した河川を何といますか。


- D()
- E()

(3) D・E の下流に位置する平野を、それぞれ答えなさい。

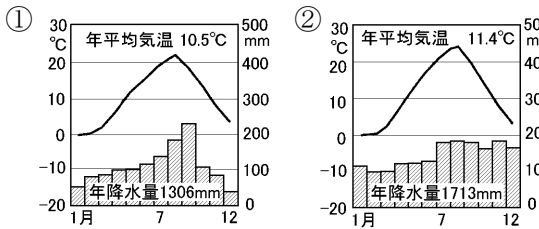
- D()
- E()



(4) 東北地方では(3)の平野などで稲作がさかんである。米の生産量の地方別割合を示した右のグラフで東北地方にあてはまるものを、ア～エから 1 つ選びなさい。



(5) 下の①・②の気温と降水量を表したグラフは、地図中の秋田と宮古のいずれかである。宮古にあてはまるものを 1 つ選び、番号を答えなさい。



(6) (5)と判断した理由を簡単に答えなさい。

[]

(6) 右の写真は、青森県と秋田県の県境にある山地で、この山地にあるぶなの原生林が世界遺産に登録されている。この山地を何といますか。



【2】東北地方の伝統的な文化をまとめた下の表を見て、次の問いに答えなさい。

県	重要無形(①)文化財	郷土料理	A 伝統産業
青森	青森の(②)	じゃっば汁	津軽塗
秋田	秋田の(③)	B いぶりがっこ	樺細工
岩手	早池峰神楽	わんこそば	南部(C)
(④)	黒川能	芋煮	天童将棋駒
宮城	秋保の田植踊	ずんだもち	宮城伝統こけし
福島	相馬野馬追	凍もち	会津塗

(1) 表中の重要無形(①)文化財は、国から指定を受けている祭りや芸能のことである。(①)にあてはまる語句を答えなさい。

()

(2) 表中の(②)・(③)は、毎年 8 月に多くの来場者を集めている行事である。()にあてはまる語句を、次から選んで答えなさい。

- [竿燈 七夕 花笠 ねぶた]

(3) 表中の(④)にあてはまる県名を答えなさい。

()

(4) 表中の下線部 A について、表中の製品のように、伝統産業でつくられ、国から指定を受けた製品を何といますか。

()

(5) 表中の下線部 B は、囲炉裏の上にだいこんをつるし、けむりでいぶしてつくるつけ物である。囲炉裏が使われるようになったのは、秋田県では日光や風で乾燥させることが難しいためである。この下線部の理由を、「冬」の語句を用いて説明しなさい。

[]

(6) 表中の(C)にあてはまる製品名を答えなさい。

()

【3】右の地図を見て、次の問いに答えなさい。

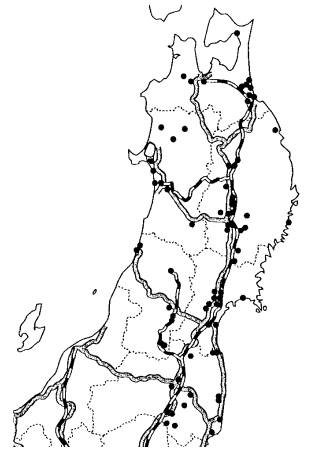
(1) 地図中に●で分布を示した工場の集まった地区を何といますか。

()

(2) 地図中の●でおもに発達している工業を、次から 2 つ選び、記号で答えなさい。

()

- ア 半導体
- イ せんい
- ウ 造船
- エ 電子機械
- オ 印刷



(3) 地図中の●は、何の沿線に多く立地していますか。地図を参考にして答えなさい。

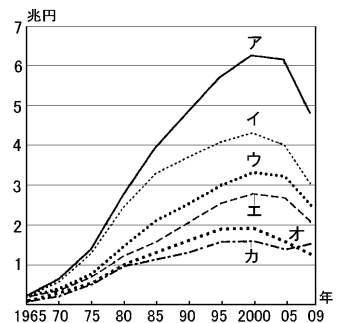
()

(4) 福島県の会津若松市で精密機械の生産がさかんになった理由を、次から選び、記号で答えなさい。

()

- ア 原料の産地だった。
- イ 国際空港があった。
- ウ きれいな水にめぐまれていた。

(5) 右のグラフは、東北地方の 6 県の工業生産額を示している。会津若松市のある福島県にあたるものをア～カから選び、記号で答えなさい。



(6) 人口が 100 万人をこえ、東北地方の経済・行政の中心になっている都市はどこですか。

()

(7) (6)の都市に本拠地を置くプロスポーツを次のア～エから 2 つ選びなさい。

()

- ア 野球
- イ バスケット
- ウ アイスホッケー
- エ サッカー

得点		演習問題〔解答〕	実施日	月 日	氏名
		東北地方 ②			

【1】右の地図を見て、次の問いに答えなさい。

(1) 地図中に A～C で示した山地・山脈・高地を何といいますか。

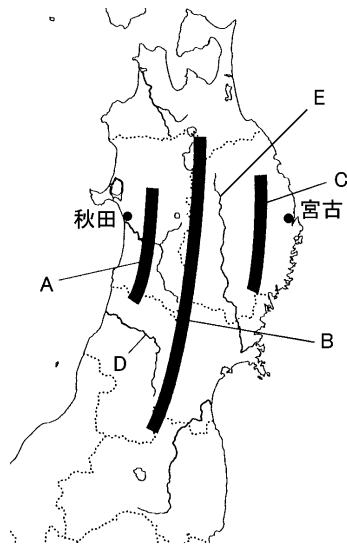
- A(出羽山地)
- B(奥羽山脈)
- C(北上高地)

(2) 地図中に D・E で示した河川を何といいますか。

- D(最上川)
- E(北上川)


(3) D・E の下流に位置する平野を、それぞれ答えなさい。

- D(庄内平野)
- E(仙台平野)

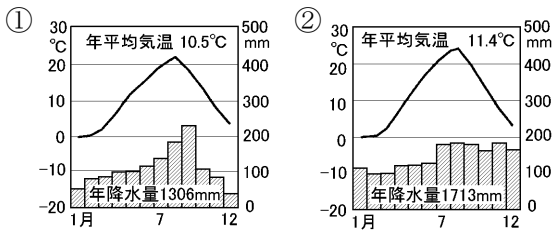


(4) 東北地方では(3)の平野などで稲作がさかんである。米の生産量の地方別割合を示した右のグラフで東北地方にあてはまるものを、ア～エから 1 つ選びなさい。

(ア)



(5) 下の①・②の気温と降水量を表したグラフは、地図中の秋田と宮古のいずれかである。宮古にあてはまるものを 1 つ選び、番号を答えなさい。



(6) (5)と判断した理由を簡単に答えなさい。

(親潮の影響で夏の気温が低いため)

(6) 右の写真は、青森県と秋田県の県境にある山地で、この山地にあるぶなの原生林が世界遺産に登録されている。この山地を何といいますか。

(白神山地)



【2】東北地方の伝統的な文化をまとめた下の表を見て、次の問いに答えなさい。

県	重要無形(①)文化財	郷土料理	A 伝統産業
青森	青森の(②)	じゃっば汁	津軽塗
秋田	秋田の(③)	B いぶりがっこ	樺細工
岩手	早池峰神楽	わんこそば	南部(C)
(④)	黒川能	芋煮	天童将棋駒
宮城	秋保の田植踊	ずんだもち	宮城伝統こけし
福島	相馬野馬追	凍もち	会津塗

(1) 表中の重要無形(①)文化財は、国から指定を受けている祭りや芸能のことである。(①)にあてはまる語句を答えなさい。

(民俗)

(2) 表中の(②)・(③)は、毎年 8 月に多くの来場者を集めている行事である。()にあてはまる語句を、次から選んで答えなさい。

②(ねぶた) ③(竿燈)

[竿燈 七夕 花笠 ねぶた]

(3) 表中の(④)にあてはまる県名を答えなさい。

(山形)

(4) 表中の下線部 A について、表中の製品のように、伝統産業でつくられ、国から指定を受けた製品を何といいますか。

(伝統的工芸品)

(5) 表中の下線部 B は、囲炉裏の上にだいこんをつるし、けむりでいぶしてつくるつけ物である。囲炉裏が使われるようになったのは、秋田県では日光や風で乾燥させることが難しいためである。この下線部の理由を、「冬」の語句を用いて説明しなさい。

[冬は雪が多く日照時間が少ないため]

(6) 表中の(C)にあてはまる製品名を答えなさい。

(鉄器)

【3】右の地図を見て、次の問いに答えなさい。

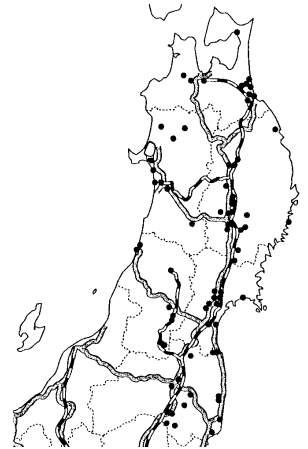
(1) 地図中に●で分布を示した工場の集まった地区を何といいますか。

(工業団地)

(2) 地図中の●でおもに発達している工業を、次から 2 つ選び、記号で答えなさい。

(ア・エ)

- ア 半導体
- イ せんい
- ウ 造船
- エ 電子機械
- オ 印刷



(3) 地図中の●は、何の沿線に多く立地していますか。地図を参考にして答えなさい。

(東北自動車道・東北新幹線)

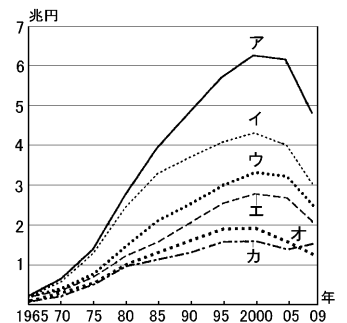
(4) 福島県の会津若松市で精密機械の生産がさかんになった理由を、次から選び、記号で答えなさい。

(ウ)

- ア 原料の産地だった。
- イ 国際空港があった。
- ウ きれいな水にめぐまれていた。

(5) 右のグラフは、東北地方の 6 県の工業生産額を示している。会津若松市のある福島県にあたるものをア～カから選び、記号で答えなさい。

(ア)



(6) 人口が 100 万人をこえ、東北地方の経済・行政の中心になっている都市はどこですか。

(仙台)

(7) (6)の都市に本拠地を置くプロスポーツを次のア～エから 2 つ選びなさい。

(ア・エ)

- ア 野球
- イ バスケット
- ウ アイスホッケー
- エ サッカー