

得点		演習問題	実施日	月 日	氏名	
		東北地方 ①				

【1】右の地図を見て、次の問いに答えなさい。

(1) 地図中の A~C にあてはまる山脈・川の名を答えなさい。

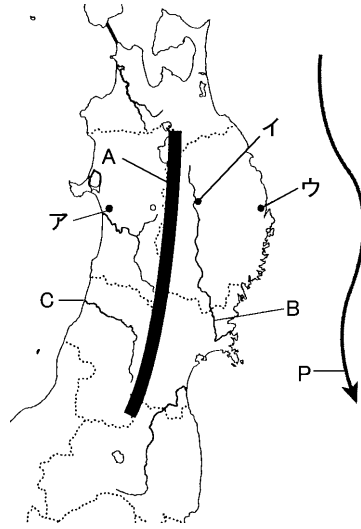
- A()
B()
C()

(2) 世界遺産(自然遺産)に登録されている白神山地を地図中に **■** で記入しなさい。また、白神山地には何の原生林が残されていますか。

()

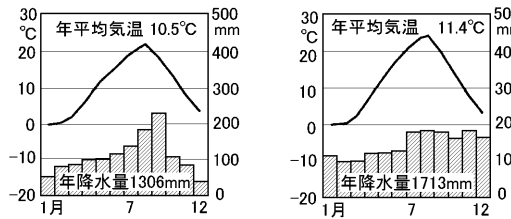
(3) 東北地方の太平洋側の気候に大きな影響をあたえる **→** で示した三陸海岸沖を南下する海流 P を何といますか。

()



(4) 下の気温と降水量を示したグラフにあてはまる都市を、地図中のア~ウからそれぞれ選びなさい。

① () ② ()



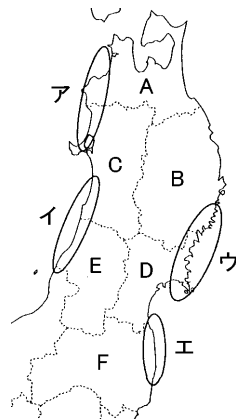
【2】右の地図を見て、次の問いに答えなさい。

(1) 次の①~③の銘柄米のおもな産地を、地図中の A~F からそれぞれ選び、記号で答えなさい。

- ① あきたこまち ()
② はえぬき ()
③ つがるロマン ()

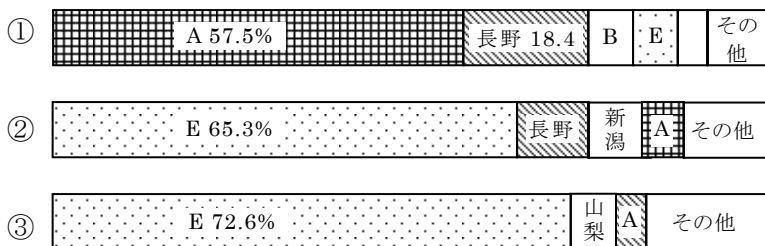
(2) 東北地方の米が全国の生産量にしめるおよその割合を、次から選び、記号で答えなさい。

- ア 約 8 分の 1 イ 約 4 分の 1
ウ 約 3 分の 1 エ 約 2 分の 1



(3) 下のグラフは、東北地方で生産のさかんな果物の県別生産割合であり、A~F は地図中の A~F の県を示している。①~③の果物を次からそれぞれ選んで答えなさい。

① () ② () ③ ()



[さくらんぼ みかん りんご ぶどう 洋なし かき]

(4) 気仙沼をはじめとする全国有数の漁港が集まっている地域を地図中のア~エから選び、記号で答えなさい。また、選んだ地域に特徴的に見られる海岸地形の名称を答えなさい。

地域() 地形()

(5) 地図中の C の県を代表する木材の種類を、次から選び、記号で答えなさい。

- ア ひば イ からまつ ウ ひのき エ すぎ

【3】東北地方の伝統的な文化や工芸品について、次の問いに答えなさい。

(1) 下の表中の A~E にあてはまる祭りを、次のア~オからそれぞれ選びなさい。


A() B() C() D() E()

日	8月							
	1日	2日	3日	4日	5日	6日	7日	8日
青森県	青森(A)							
岩手県	盛岡(B)							
宮城県						仙台(C)		
秋田県	秋田(D)							
山形県					山形(E)			

- ア 竿燈まつり イ 七夕まつり ウ ねぶた祭
エ 花笠まつり オ さんさ踊り

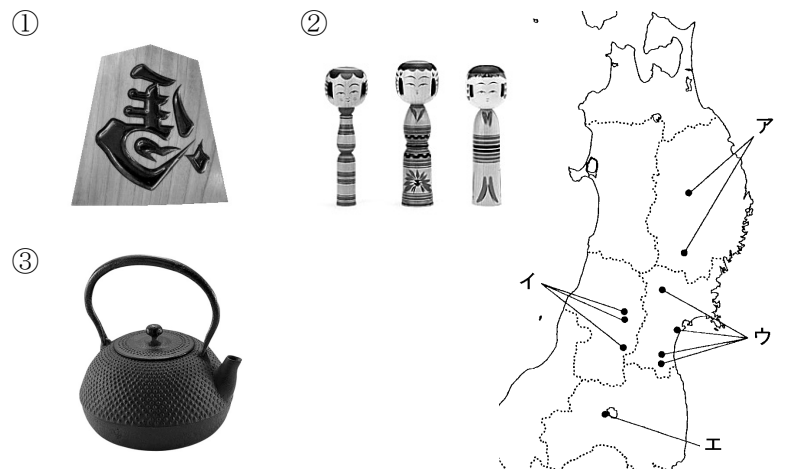
(2) 下の①~③の写真にあてはまる祭りを、(1)のア~オからそれぞれ選びなさい。

① () ② () ③ ()



(3) 次の①~③の伝統的工芸品の産地を、右の地図中のア~エからそれぞれ選びなさい。

① () ② () ③ ()

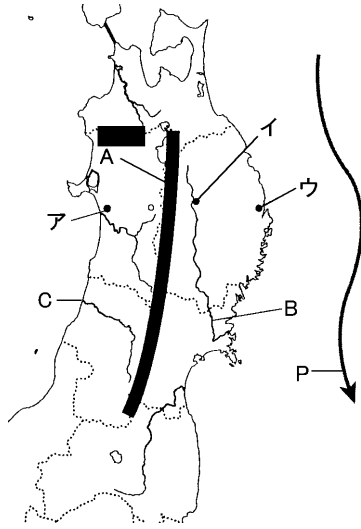


(4) (3)のような伝統的工芸品を守っていく上での問題点を1つ答えなさい。 []

得点		演習問題〔解答〕	実施日	月 日	氏名	
		東北地方 ①				

【1】右の地図を見て、次の問いに答えなさい。

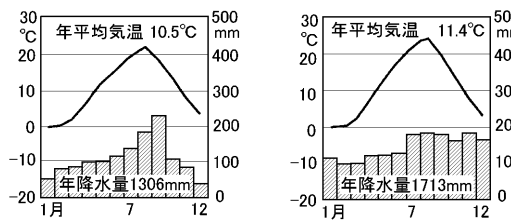
- (1) 地図中の A～C にあてはまる山脈・川の名を答えなさい。
 A(奥羽山脈)
 B(北上川)
 C(最上川)



- (2) 世界遺産(自然遺産)に登録されている白神山地を地図中に■で記入しなさい。また、白神山地には何の原生林が残されていますか。
 (ぶな)

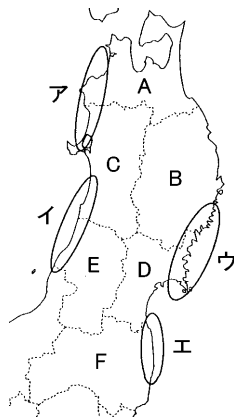
- (3) 東北地方の太平洋側の気候に大きな影響をあたえる → で示した三陸海岸沖を南下する海流 P を何といますか。
 (親潮)

- (4) 下の気温と降水量を示したグラフにあてはまる都市を、地図中のア～ウからそれぞれ選びなさい。
 ① (ウ) ② (ア)



【2】右の地図を見て、次の問いに答えなさい。

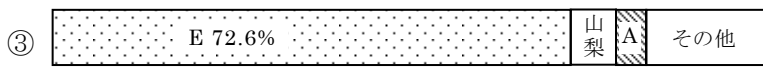
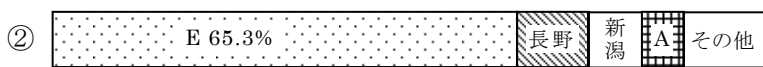
- (1) 次の①～③の銘柄米のおもな産地を、地図中の A～F からそれぞれ選び、記号で答えなさい。
 ① あきたこまち (C)
 ② はえぬき (E)
 ③ つがるロマン (A)



- (2) 東北地方の米が全国の生産量に占めるおおよその割合を、次から選び、記号で答えなさい。
 (イ)
- ア 約 8 分の 1 イ 約 4 分の 1
 ウ 約 3 分の 1 エ 約 2 分の 1

- (3) 下のグラフは、東北地方で生産のさかんな果物の県別生産割合であり、A～F は地図中の A～F の県を示している。①～③の果物を次からそれぞれ選んで答えなさい。

①(りんご) ②(洋なし) ③(さくらんぼ)



[さくらんぼ みかん りんご ぶどう 洋なし かき]

- (4) 気仙沼をはじめとする全国有数の漁港が集まっている地域を地図中のア～エから選び、記号で答えなさい。また、選んだ地域に特徴的に見られる海岸地形の名称を答えなさい。
 地域(ウ) 地形(リアス海岸)

- (5) 地図中の C の県を代表する木材の種類を、次から選び、記号で答えなさい。
 (エ)
- ア ひば イ からまつ ウ ひのき エ すぎ

【3】東北地方の伝統的な文化や工芸品について、次の問いに答えなさい。


- (1) 下の表中の A～E にあてはまる祭りを、次のア～オからそれぞれ選びなさい。
 A(ウ) B(オ) C(イ) D(ア) E(エ)

県	8月							
	1日	2日	3日	4日	5日	6日	7日	8日
青森県	青森(A)							
岩手県	盛岡(B)							
宮城県	仙台(C)							
秋田県	秋田(D)							
山形県	山形(E)							

ア 竿燈まつり イ セタまつり ウ ねぶた祭
 エ 花笠まつり オ さんさ踊り

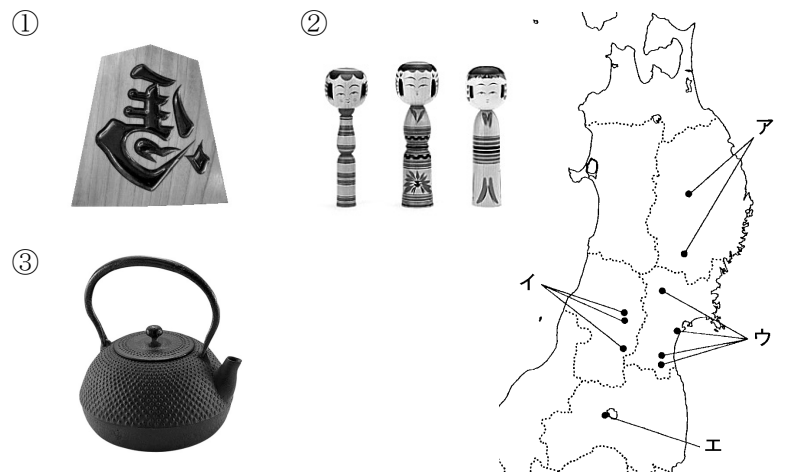
- (2) 下の①～③の写真にあてはまる祭りを、(1)のア～オからそれぞれ選びなさい。

①(ウ) ②(イ) ③(ア)



- (3) 次の①～③の伝統的工芸品の産地を、右の地図中のア～エからそれぞれ選びなさい。

①(イ) ②(ウ) ③(ア)



- (4) (3)のような伝統的工芸品を守っていく上での問題点を1つ答えなさい。
 (職人の高齢化・後継者の不足など)