

# 絶対暗記するプリント

東北地方①	実施／	氏名
-------	-----	----

① 右の地図中のA～Dの山地・山脈名を答えなさい。

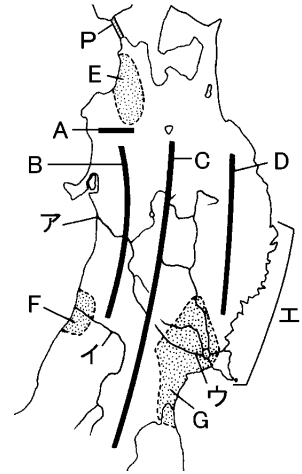
- A( 白神山地 ) B( 出羽山地 )  
 C( 奥羽山脈 ) D( 北上高地 )

② 右の地図中のE～Gの平野名を答えなさい。

- E( 津軽平野 ) F( 庄内平野 )  
 G( 仙台平野 )

③ 右の地図中のア～ウの河川名を答えなさい。

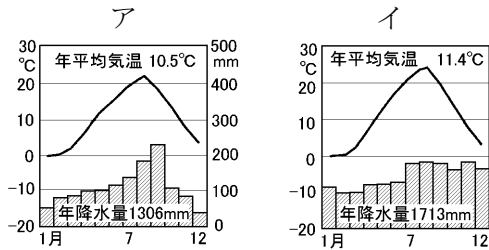
- ア( 雄物川 ) イ( 最上川 )  
 ウ( 北上川 )



④ 右の地図中のエのような地形を何といいますか。

( リアス式海岸 )

〔図2〕



〔図3〕



〔図4〕



⑤ 東北地方の太平洋側を流れる寒流は何ですか。

( 千島海流 )

⑥ 冷害を引き起こす、冷たい北東風を何といいますか。

( やませ )

⑦ 〔図2〕は秋田と宮古の気候を表している。宮古の気候はア・イどちらですか。

( ア )

⑧ 寒流である⑤と、暖流である日本海流(黒潮)が出会うところを何といいますか。

( 潮目 )

⑨ 青森県にある、東北地方一の水あげ量をほこる漁港を何といいますか。

( 八戸 )

⑩ 地図中のEの平野で栽培されている果物は何ですか。

( りんご )

⑪ 山形盆地で栽培されている果物は何ですか。

( さくらんぼ・洋なし )

⑫ 青森県の陸奥湾、宮城県の松島湾で養殖がさかんな水産物はそれぞれ何ですか。

( ほたて貝・カキ )

⑬ 盛岡の砂鉄で作られる鉄瓶や茶の湯がまなどの伝統工芸品〔図3〕は何ですか。

( 南部鉄器 )

⑭ 次の県を代表する伝統的な祭り、および〔図4〕の祭りをそれぞれ答えなさい。〔図4〕

青森県( 青森ねぶた祭り ) 山形県( 山形花笠祭り ) 宮城県( 仙台七夕まつり )

⑮ ⑭のような伝統的な祭りは何という文化財に指定されていますか。 ( 重要無形民族文化財 )

⑯ 近年、各地に工業団地が造成されたがこれはおもに何に沿って分布していますか。 ( 東北自動車道 )

⑰ 本州と北海道を結ぶ地図中のPを何といいますか。 ( 青函トンネル )

⑱ 江戸時代は城下町として発展した東北地方最大の都市はどこですか。 ( 仙台 )

⑲ ⑱のように国の出先機関や大企業の支店が集まっている都市を何といいますか。 ( 地方中枢都市 )

⑳ ⑱の都市に本拠地を置き今年日本一に輝いたプロ野球チームを何といいますか。 ( 楽天イーグルス )

# 確認テスト

東北地方①

実施／

氏名

① 右の地図中のA～Dの山地・山脈名を答えなさい。

A( ) B( )

C( ) D( )

② 右の地図中のE～Gの平野名を答えなさい。

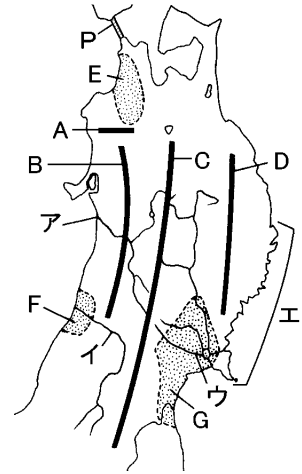
E( ) F( )

G( )

③ 右の地図中のア～ウの河川名を答えなさい。

ア( ) イ( )

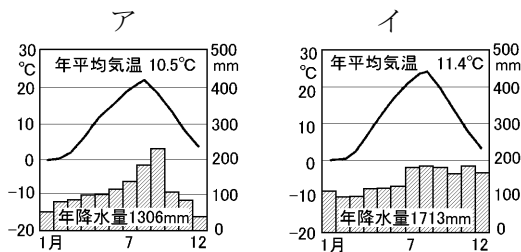
ウ( )



④ 右の地図中のエのような地形を何とといいますか。

( )

〔図2〕



〔図3〕



〔図4〕



⑤ 東北地方の太平洋側を流れる寒流は何ですか。

( )

⑥ 冷害を引き起こす、冷たい北東風を何とといいますか。

( )

⑦ 〔図2〕は秋田と宮古の気候を表している。宮古の気候はア・イどちらですか。

( )

⑧ 寒流である⑤と、暖流である日本海流(黒潮)が出会うところを何とといいますか。

( )

⑨ 青森県にある、東北地方一の水あげ量をほこる漁港を何とといいますか。

( )

⑩ 地図中のEの平野で栽培されている果物は何ですか。

( )

⑪ 山形盆地で栽培されている果物は何ですか。

( )

⑫ 青森県の陸奥湾、宮城県の松島湾で養殖がさかんな水産物はそれぞれ何ですか。

( )

⑬ 盛岡の砂鉄で作られる鉄瓶や茶の湯がまなどの伝統工芸品〔図3〕は何ですか。

( )

⑭ 次の県を代表する伝統的な祭り、および〔図4〕の祭りをそれぞれ答えなさい。〔図4〕(

青森県( ) 山形県( ) 宮城県( )

⑮ ⑭のような伝統的な祭りは何という文化財に指定されていますか。

( )

⑯ 近年、各地に工業団地が造成されたがこれはおもに何に沿って分布していますか。

( )

⑰ 本州と北海道を結ぶ地図中のPを何とといいますか。

( )

⑱ 江戸時代は城下町として発展した東北地方最大の都市はどこですか。

( )

⑲ ⑱のように国の出先機関や大企業の支店が集まっている都市を何とといいますか。

( )

⑳ ⑱の都市に本拠地を置き今年日本一に輝いたプロ野球チームを何とといいますか。

( )