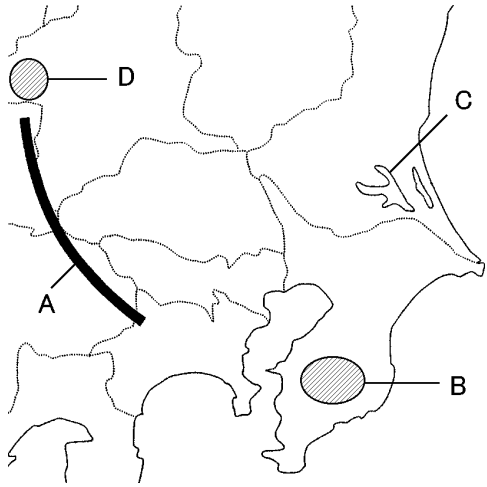


得点	<b>演習問題</b>		実施日	月 日	氏名

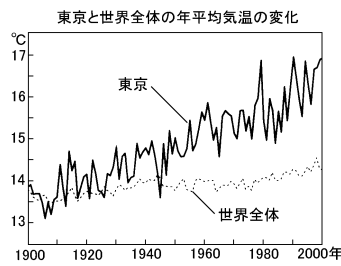
【1】下の地図を見て、次の問いに答えなさい。



(1) 地図中の山地 A、丘陵 B をそれぞれ何といますか。  
A( ) B( )

(2) 地図中に C で示した湖を何といますか。  
( )

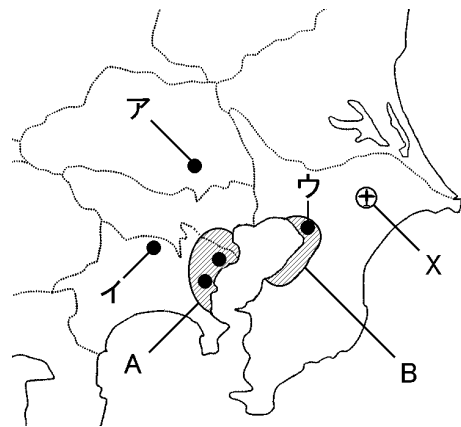
(3) 右のグラフは、東京都の年平均気温が世界の年平均気温より上昇していることがわかる。この現象を何といますか。  
( )



(4) 地図中の D の地域では夏の涼しい気候を利用した野菜の遅作りが行われている。このような農業を何といますか。  
( )

(5) 関東地方では、輸送園芸農業の行われている地域が、近郊から周辺部へと拡大している。この背景として考えられることを、「市街地」と「保冷」の語句を用いて簡単に説明しなさい。  
( )

【2】下の地図を見て、次の問いに答えなさい。



(1) 東京大都市圏には地図中の●印の 5 つの政令指定都市がある。地図中のア～ウの都市名を、次から 1 つずつ選びなさい。  
ア( ) イ( ) ウ( )

- 横浜市 川崎市 さいたま市 千葉市 相模原市

(2) 地図中の A の工業地帯、B の工業地域をそれぞれ何といますか。 A( ) B( )

(3) 地図中の A の工業地帯のうち、内陸部でさかんな工業としてあてはまらないものを、次から 1 つ選び、記号で答えなさい。  
( )  
ア 印刷 イ 食料品 ウ 石油化学 エ 機械

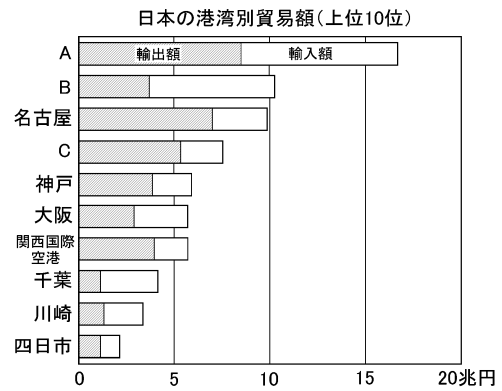
(4) 関東地方の内陸部に点在する、工場を計画的に集めた地域を何といますか。  
( )

(5) 地図中の X は日本の国際線を中心となっている空港である。空港名を答えなさい。  
( )

(6) 日本の工業生産額にしめる関東地方の割合を、次のア～エから 1 つ選びなさい。  
( )

- ア 約 2 割 イ 約 3 割 ウ 約 4 割 エ 約 5 割

【3】下のグラフは港湾別貿易額の上位 10 位までを示している。次の問いに答えなさい。



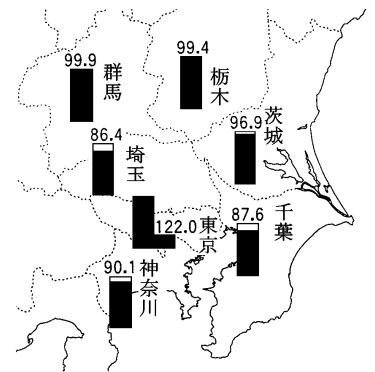
(1) グラフ中の A にあてはまる貿易額が日本最大の貿易港を何といますか。  
( )

(2) グラフ中には、東京湾に面した貿易港が B・C を含めて 4 つある。そのうち、輸出額が輸入額を上回っている貿易港は C だけである。B・C それぞれの港湾名を答えなさい。  
B( ) C( )

(3) グラフ中の A には多くの外国人が訪れる。東京都の外国人登録者数が全国にしめる割合を、次から 1 つ選びなさい。  
( )

- ア 約 1 割 イ 約 2 割 ウ 約 3 割 エ 約 4 割

(4) 右の地図は、夜間の人口を 100 としたときの昼間の人口の割合 (%) を都県別に示した図である。この図から、どのようなことがわかりますか。簡単に説明しなさい。  
( )

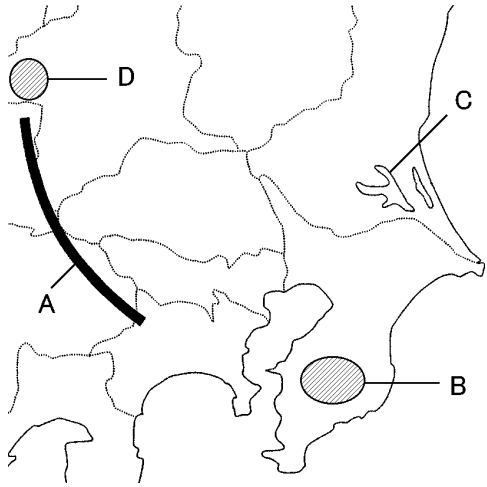


(5) 群馬県大泉町に多く住んでいる外国人を、次から選び、記号で答えなさい。  
( )

- ① 日系アメリカ人 ② フィリピン人  
③ 中国人 ④ 日系ブラジル人

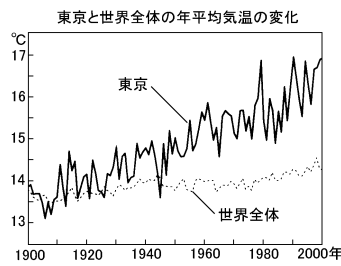
得点	演習問題〔解答〕	実施日	月 日	氏名

【1】下の地図を見て、次の問いに答えなさい。



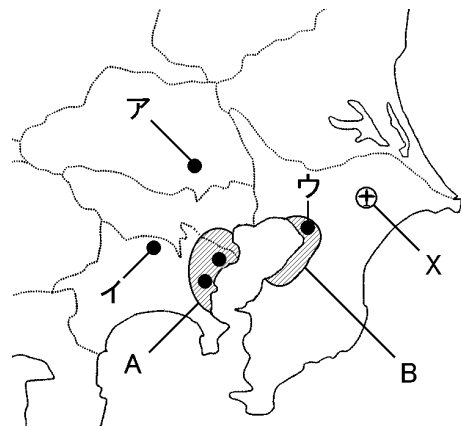
- (1) 地図中の山地 A、丘陵 B をそれぞれ何といますか。  
A( 関東山地 ) B( 房総丘陵 )
- (2) 地図中に C で示した湖を何といますか。  
( 霞ヶ浦 )

- (3) 右のグラフは、東京都の年平均気温が世界の年平均気温より上昇していることがわかる。この現象を何といますか。  
( ヒートアイランド現象 )



- (4) 地図中の D の地域では夏の涼しい気候を利用した野菜の遅作りが行われている。このような農業を何といますか。  
( 抑制栽培 )
- (5) 関東地方では、輸送園芸農業の行われている地域が、近郊から周辺部へと拡大している。この背景として考えられることを、「市街地」と「保冷」の語句を用いて簡単に説明しなさい。  
( 市街地が拡大し、保冷できるトラックが普及したから )

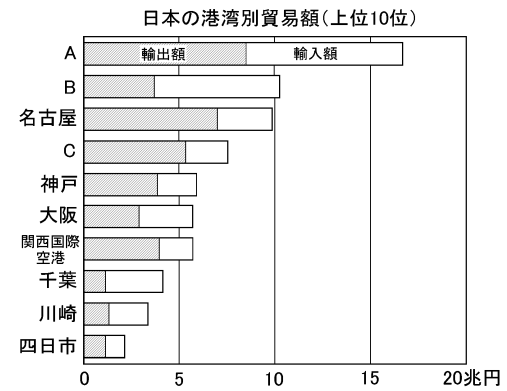
【2】下の地図を見て、次の問いに答えなさい。



- (1) 東京大都市圏には地図中の●印の 5 つの政令指定都市がある。地図中のア～ウの都市名を、次から 1 つずつ選びなさい。  
ア( さいたま市 ) イ( 相模原市 ) ウ( 千葉市 )  
横浜市 川崎市 さいたま市 千葉市 相模原市

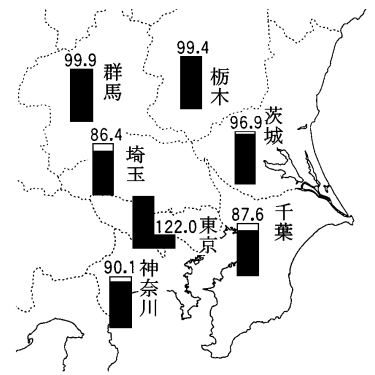
- (2) 地図中の A の工業地帯、B の工業地域をそれぞれ何といますか。 A( 京浜工業地帯 ) B( 京葉工業地域 )
- (3) 地図中の A の工業地帯のうち、内陸部でさかんな工業としてあてはまらないものを、次から 1 つ選び、記号で答えなさい。  
( ウ )  
ア 印刷 イ 食料品 ウ 石油化学 エ 機械
- (4) 関東地方の内陸部に点在する、工場を計画的に集めた地域を何といますか。  
( 工業団地 )
- (5) 地図中の X は日本の国際線を中心となっている空港である。空港名を答えなさい。  
( 成田国際空港 )
- (6) 日本の工業生産額にしめる関東地方の割合を、次のア～エから 1 つ選びなさい。  
( イ )  
ア 約 2 割 イ 約 3 割 ウ 約 4 割 エ 約 5 割

【3】下のグラフは港湾別貿易額の上位 10 位までを示している。次の問いに答えなさい。



- (1) グラフ中の A にあてはまる貿易額が日本最大の貿易港を何といますか。  
( 成田国際空港 )
- (2) グラフ中には、東京湾に面した貿易港が B・C を含めて 4 つある。そのうち、輸出額が輸入額を上回っている貿易港は C だけである。B・C それぞれの港湾名を答えなさい。  
B( 東京港 ) C( 横浜港 )
- (3) グラフ中の A には多くの外国人が訪れる。東京都の外国人登録者数が全国にしめる割合を、次から 1 つ選びなさい。  
( イ )  
ア 約 1 割 イ 約 2 割 ウ 約 3 割 エ 約 4 割

- (4) 右の地図は、夜間の人口を 100 としたときの昼間の人口の割合(%)を都県別に示した図である。この図から、どのようなことがわかりますか。簡単に説明しなさい。



- (5) 群馬県大泉町に多く住んでいる外国人を、次から選び、記号で答えなさい。  
( ④ )  
① 日系アメリカ人 ② フィリピン人  
③ 中国人 ④ 日系ブラジル人