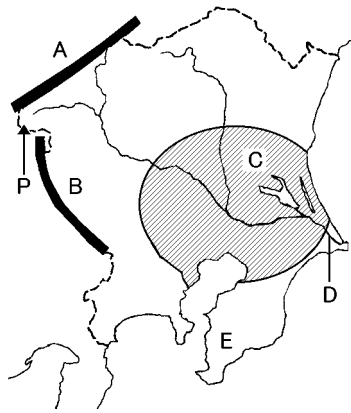


得点	演習問題	実施日	月 日	氏名
	関東地方 ①			

【1】下の地図を見て、次の問いに答えなさい。

(1) 地図中の A～D にあてはまる山地・平野・川の名をそれぞれ答えなさい。

- A()
- B()
- C()
- D()



(2) E の半島、P の火山の名前をそれぞれ何といますか。

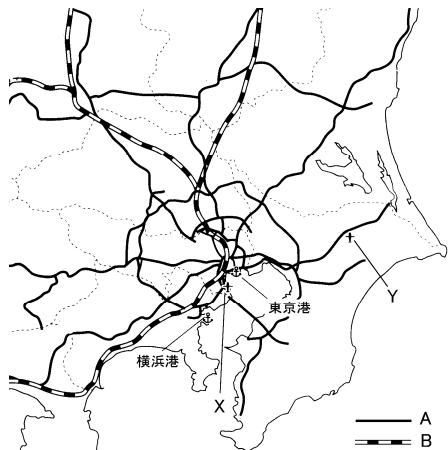
- E()
- P()

(3) 関東平野の台地をおおっている火山灰が堆積した赤土を何といますか。 ()

(4) 関東地方で「からっ風」と呼ばれるかわいた風のふく方向を地図に矢印で書き入れなさい。

(5) 都市化の進展による環境の変化から、都市部の気温が周辺部よりも高くなる現象を何といますか。 ()

【2】下の地図を見て、次の問いに答えなさい。



(1) 関東地方で生活している人は日本の総人口のどれだけですか。次のア～エから1つ選びなさい。 ()

- ア 約 5 分の 1 イ 約 4 分の 1
- ウ 約 3 分の 1 エ 約 2 分の 1

(2) 東京大都市圏がかかえている都市問題を、具体的に 2 つあげなさい。 ()

- ()
- ()

(3) 関東地方には地図中の A や B などの交通路線が、放射状に何本も走っている。A、B それぞれにあてはまる交通機関を答えなさい。 A() B()

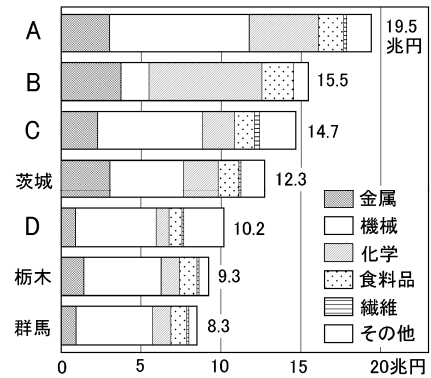
(4) 地図中の X は国内線、Y は国際線の中心となっている空港を示している。あてはまる空港名をそれぞれ答えなさい。 X() Y()

(5) 東京大都市圏で特に発達している産業を、次のア～ウから 1 つ選び記号で答えなさい。 ()

- ア 第一次産業 イ 第二次産業 ウ 第三次産業

【3】下のグラフを見て、次の問いに答えなさい。

〔グラフ I〕



(1) 上の〔グラフ I〕は関東地方の7つの都県別の工業生産額とちわけを示している。A～D にあてはまる都県をそれぞれ答えなさい。 A() B()
C() D()

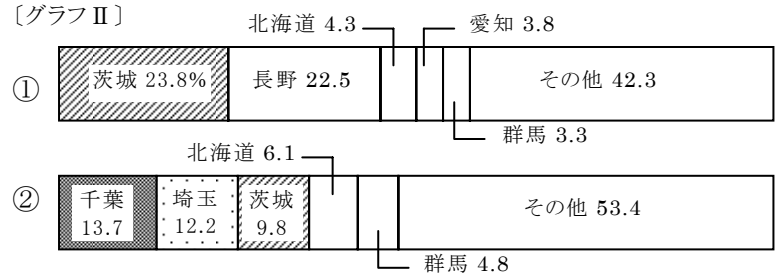
(2) 東京湾の東部に位置する千葉県の埋立地に造成された工業地域を何といますか。 ()

(3) 栃木県、群馬県の工業生産額を他の都県と比べたとき、割合が高いのは何ですか。 ()

(4) 〔グラフ II〕は、関東平野で栽培されているおもな野菜の県別生産量の割合を示している。①、②にあてはまる野菜を次のア～エから1つずつ選びなさい。 ①()②()

- ア はくさい イ キャベツ ウ ねぎ エ きゅうり

〔グラフ II〕

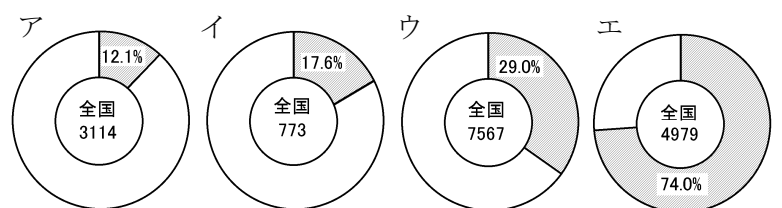


(5) 埼玉、千葉、茨城などで、大消費地に近い条件を生かして、都市向けに野菜を出荷する農業を何といますか。 ()

(6) 関東地方の周辺部の山間部などでつくられているキャベツやレタスといった野菜を何といますか。 ()

【4】次の問いに答えなさい。

(1) 下のグラフは、東京都がしめる、外国企業数、大学数、公立図書館数、広告業数の割合を表している。外国企業にあてはまるものを、ア～エから1つ選びなさい。 ()



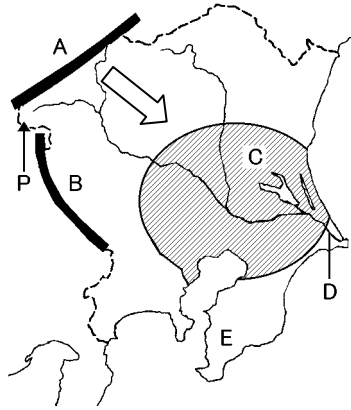
(2) 東京の中心部に集中する都市機能を分散させるため、大学や研究機関を茨城に移転させてつくられた都市を何といますか。 ()

得点	演習問題〔解答〕	実施日	月	日	氏名

【1】下の地図を見て、次の問いに答えなさい。

(1) 地図中の A～D にあてはまる山地・平野・川の名をそれぞれ答えなさい。

- A(越後山脈)
- B(関東山地)
- C(関東平野)
- D(利根川)



(2) E の半島、P の火山の名前をそれぞれ何といますか。

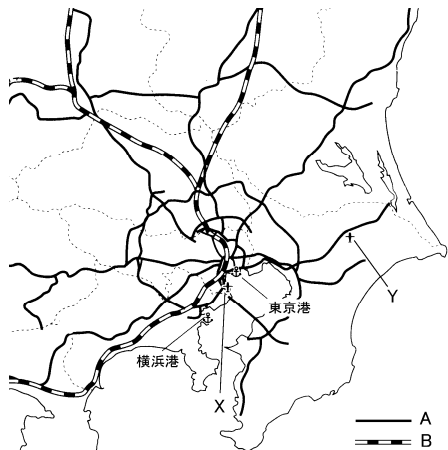
- E(房総半島)
- P(浅間山)

(3) 関東平野の台地をおおっている火山灰が堆積した赤土を何といますか。 (関東ローム)

(4) 関東地方で「からっ風」と呼ばれるかわいた風のふく方向を地図に矢印で書き入れなさい。

(5) 都市化の進展による環境の変化から、都市部の気温が周辺部よりも高くなる現象を何といますか。 (ヒートアイランド現象)

【2】下の地図を見て、次の問いに答えなさい。



(1) 関東地方で生活している人は日本の総人口のどれだけのですか。次のア～エから1つ選びなさい。 (ウ)

- ア 約5分の1
- イ 約4分の1
- ウ 約3分の1
- エ 約2分の1

(2) 東京大都市圏がかかえている都市問題を、具体的に2つあげなさい。

- (過密による交通渋滞・ゴミ問題)
- (住宅不足・土地の価格が高くなること 等)

(3) 関東地方には地図中のAやBなどの交通路線が、放射状に何本も走っている。A、B それぞれにあてはまる交通機関を答えなさい。 A(自動車道) B(新幹線)

(4) 地図中のXは国内線、Yは国際線の中心となっている空港を示している。あてはまる空港名をそれぞれ答えなさい。

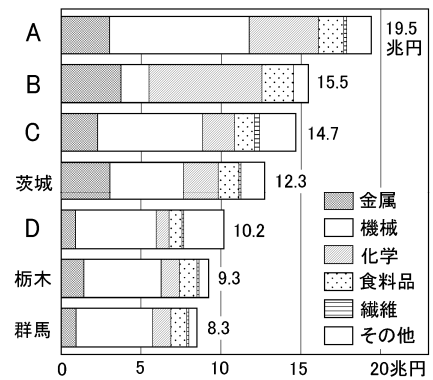
- X(東京国際空港〔羽田〕)
- Y(成田国際空港)

(5) 東京大都市圏で特に発達している産業を、次のア～ウから1つ選び記号で答えなさい。 (ウ)

- ア 第一次産業
- イ 第二次産業
- ウ 第三次産業

【3】下のグラフを見て、次の問いに答えなさい。

〔グラフⅠ〕



(1) 上の〔グラフⅠ〕は関東地方の7つの都県別の工業生産額とうちわけを示している。A～Dにあてはまる都県をそれぞれ答えなさい。 A(神奈川県) B(千葉県) C(埼玉県) D(東京都)

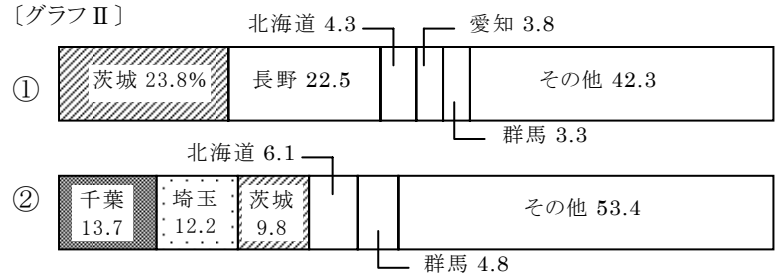
(2) 東京湾の東部に位置する千葉県の埋立地に造成された工業地域を何といますか。 (京葉工業地域)

(3) 栃木県、群馬県の工業生産額を他の都県と比べたとき、割合が高いのは何ですか。 (機械工業)

(4) 〔グラフⅡ〕は、関東平野で栽培されているおもな野菜の県別生産量の割合を示している。①、②にあてはまる野菜を次のア～エから1つずつ選びなさい。 ①(ア)②(ウ)

- ア はくさい
- イ キャベツ
- ウ ねぎ
- エ きゅうり

〔グラフⅡ〕

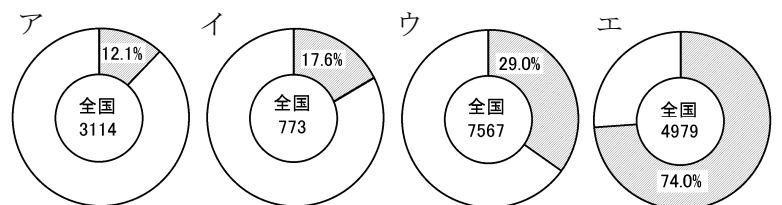


(5) 埼玉、千葉、茨城などで、大消費地に近い条件を生かして、都市向けに野菜を出荷する農業を何といますか。 (近郊農業)

(6) 関東地方の周辺部の山間部などでつくられているキャベツやレタスといった野菜を何といますか。 (高原野菜)

【4】次の問いに答えなさい。

(1) 下のグラフは、東京都がしめる、外国企業数、大学数、公立図書館数、広告業数の割合を表している。外国企業にあてはまるものを、ア～エから1つ選びなさい。 (エ)



(2) 東京の中心部に集中する都市機能を分散させるため、大学や研究機関を茨城に移転させてつくられた都市を何といますか。 (筑波研究学園都市)