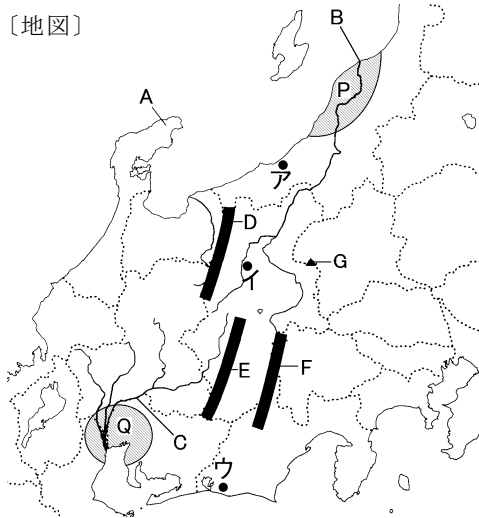


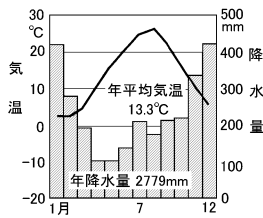
得点	演習問題	実施日	月	日	氏名

【1】下の地図と資料を見て、次の問いに答えなさい。

〔地図〕



〔資料①〕



〔資料②〕



(1) 中部地方は大きく3つの地域に区分される。①日本海側、②太平洋側をそれぞれ何といいますか。
①() 地方) ②() 地方)

(2) (1)に対して岐阜県北部、長野県、山梨県をふくむ地域は何といいますか。()

(3) [資料①]は、地図中のア～ウいずれかの都市の気温と降水量を表したグラフである。あてはまる都市をア～ウから1つ選び記号で答えなさい。()

(4) 地図中 A の半島を何といいますか。() 半島)

(5) 地図中に B・C で示した河川をそれぞれ何といいますか。
B() C()

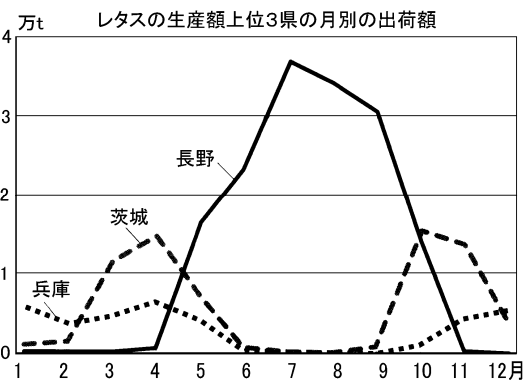
(6) B・C の下流に広がる平野 P・Q をそれぞれ何といいますか。
P() 平野) Q() 平野)

(7) [資料②]は、平野 Q に見られる周囲を堤防で囲まれた低地である。これを何といいますか。()

(8) 地図中の D 北アルプス、E 中央アルプス、F 南アルプスの山脈をそれぞれ何といいますか。
D() 山脈) E() 山脈) F() 山脈)

(9) 地図中に G で示した火山は現在も活発に活動している。この火山を何といいますか。()

【2】下のグラフを見て、次の問いに答えなさい。




(1) 長野県でレタス栽培の中心となっている地域を、次のア～エから1つ選びなさい。()

- ア 長野盆地
- イ 松本盆地の低地
- ウ 松本盆地の扇状地
- エ 八ヶ岳のふもと

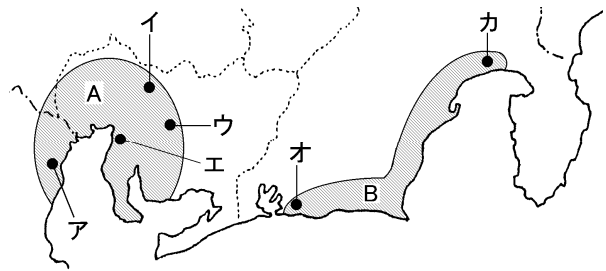
(2) グラフで、長野県の6～9月のレタスの出荷量が多いのはなぜか、簡単に答えなさい。

()

(3) 下のグラフはある栽培作物の県別生産割合を示している。あてはまる作物名を答えなさい。()



【3】下の地図を見て、次の問いに答えなさい。



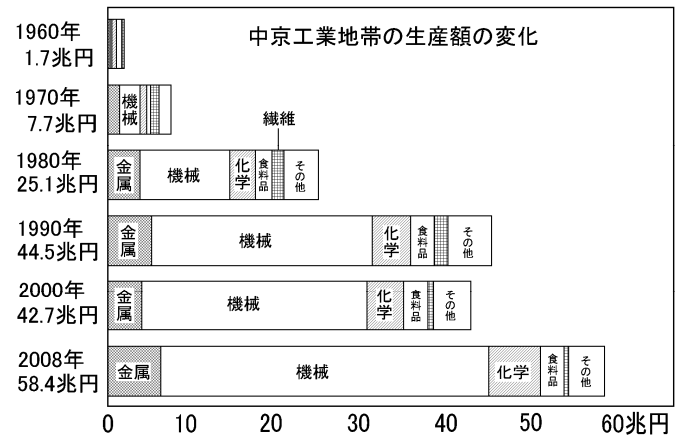
(1) 地図中に A で示した工業地帯、B で示した工業地域名をそれぞれ答えなさい。
A() 工業地帯)
B() 工業地域)

(2) 次の都市を地図中のア～カから1つずつ選び、それぞれで発達している工業を、下のA～Eから1つずつ選びなさい。

- 四日市 (位置 工業) 浜松(位置 工業)
- 東海 (位置 工業) 豊田(位置 工業)
- 瀬戸 (位置 工業)

- A 自動車
- B 製鉄
- C 石油化学
- D ファインセラミックス
- E 楽器・二輪車

(3) 下のグラフを見て、次の問いに答えなさい。



① 2008年の中京工業地帯の工業生産額は、1960年に比べて約何倍となりましたか。()

② 1980年と比べた2008年の中京工業地帯の工業生産額の変化を、機械工業と繊維工業の面から簡単に答えなさい。

()

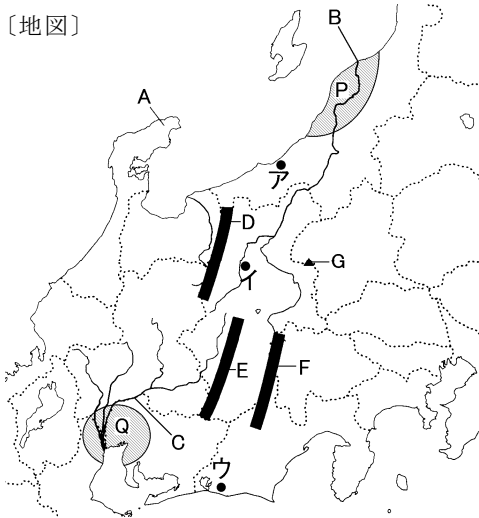
(4) 名古屋を中心として経済・文化などで名古屋と強く結ばれた都市で形成している都市圏を何といいますか。()

(5) 2008年に全線開通し(4)と環日本海を結ぶ役割が期待されている自動車道を何といいますか。() 自動車道)

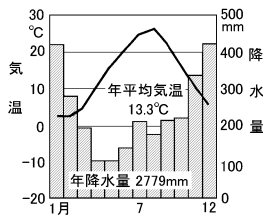
得点	演習問題〔解答〕	実施日	月 日	氏名

【1】下の地図と資料を見て、次の問いに答えなさい。

〔地図〕



〔資料①〕



〔資料②〕



(1) 中部地方は大きく3つの地域に区分される。①日本海側、②太平洋側をそれぞれ何といますか。

①(北陸 地方) ②(東海 地方)

(2) (1)に対して岐阜県北部、長野県、山梨県をふくむ地域は何といますか。

(中央高地)

(3) [資料①]は、地図中のア～ウいずれかの都市の気温と降水量を表したグラフである。あてはまる都市をア～ウから1つ選び記号で答えなさい。

(ア)

(4) 地図中 A の半島を何といますか。

(能登 半島)

(5) 地図中に B・C で示した河川をそれぞれ何といますか。

B(信濃川) C(木曾川)

(6) B・C の下流に広がる平野 P・Q をそれぞれ何といますか。

P(越後 平野) Q(濃尾 平野)

(7) [資料②]は、平野 Q に見られる周囲を堤防で囲まれた低地である。これを何といますか。

(輪中)

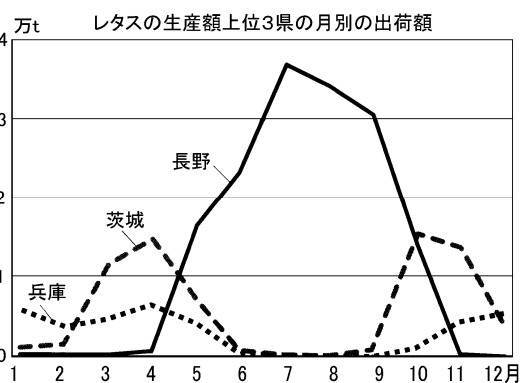
(8) 地図中の D 北アルプス、E 中央アルプス、F 南アルプスの山脈をそれぞれ何といますか。

D(飛騨 山脈) E(木曾 山脈) F(赤石 山脈)

(9) 地図中に G で示した火山は現在も活発に活動している。この火山を何といますか。

(浅間山)

【2】下のグラフを見て、次の問いに答えなさい。



(1) 長野県でレタス栽培の中心となっている地域を、次のア～エから1つ選びなさい。

(エ)


- ア 長野盆地
- イ 松本盆地の低地
- ウ 松本盆地の扇状地
- エ 八ヶ岳のふもと

(2) グラフで、長野県の6～9月のレタスの出荷量が多いのはなぜか、簡単に答えなさい。

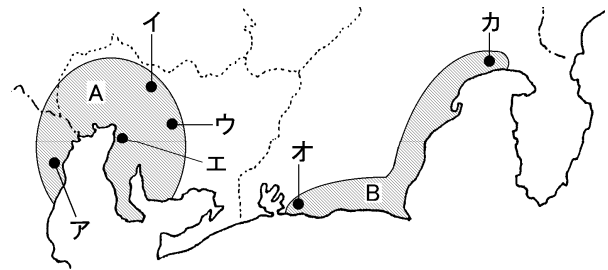
〔夏でも涼しい気候を利用して出荷時期をずらせているから〕

(3) 下のグラフはある栽培作物の県別生産割合を示している。あてはまる作物名を答えなさい。

(茶)



【3】下の地図を見て、次の問いに答えなさい。



(1) 地図中に A で示した工業地帯、B で示した工業地域名をそれぞれ答えなさい。

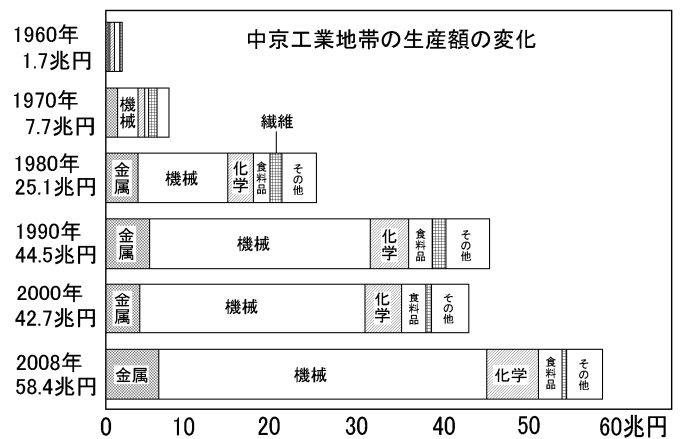
A(中京 工業地帯) B(東海 工業地域)

(2) 次の都市を地図中のア～カから1つずつ選び、それぞれで発達している工業を、下のA～Eから1つずつ選びなさい。

- 四日市(位置ア 工業C) 浜松(位置オ 工業E)
- 東海(位置エ 工業B) 豊田(位置ウ 工業A)
- 瀬戸(位置イ 工業D)

- A 自動車
- B 製鉄
- C 石油化学
- D ファインセラミックス
- E 楽器・二輪車

(3) 下のグラフを見て、次の問いに答えなさい。



① 2008年の中京工業地帯の工業生産額は、1960年に比べて約何倍となりましたか。

(約30倍)

$$58.4 \div 1.7 = 34.3$$

② 1980年と比べた2008年の中京工業地帯の工業生産額の変化を、機械工業と繊維工業の面から簡単に答えなさい。

〔機械工業の割合が増加し繊維工業は減少した〕

(4) 名古屋を中心として経済・文化などで名古屋と強く結ばれた都市で形成している都市圏を何といますか。

(名古屋大都市圏)

(5) 2008年に全線開通し(4)と環日本海を結ぶ役割が期待されている自動車道を何といますか。

(東海北陸 自動車道)