

絶対暗記するプリント

中部地方 ①

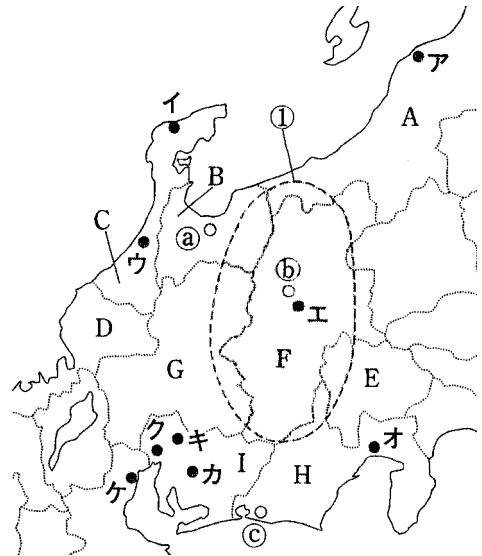
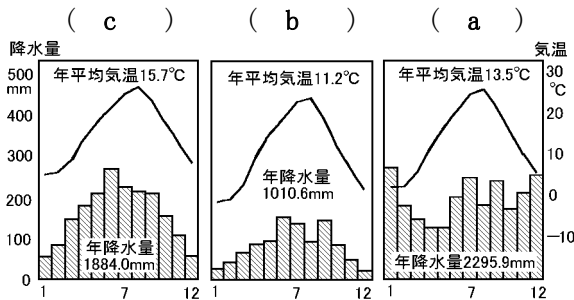
実施 /

氏名

① 地図中の A～I の県名を答えなさい。

- A(新潟 県) B(富山 県) C(石川 県)
 D(福井 県) E(山梨 県) F(長野 県)
 G(岐阜 県) H(静岡 県) I(愛知 県)

② 次のグラフは、地図中の a～c の3つの都市のいずれかの気温と降水量を表しています。当てはまる都市を選び、記号を答えなさい。(注) 確認テストは順序を変えて出題しています。



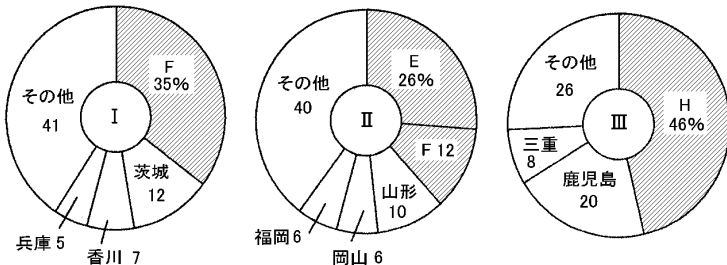
③ 地図中の の地域にある赤石山脈などの山脈をまとめて何といいますか。

(日本アルプス)

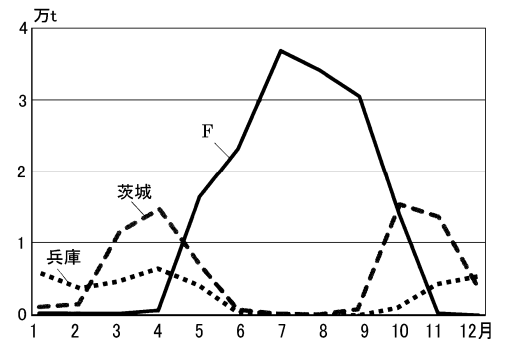
④ 下の〔図1〕は、ある農産物の県別生産高の割合を表しています。また、グラフ中のアルファベットは上の地図中の県を表しています。それぞれの農産物を答えなさい。

〔図1〕

I (レタス) II (ぶどう) III (茶)



〔図2〕



⑤ 〔図2〕は〔図1〕の I の農作物の出荷時期である。F の農業を何といいますか。

(抑制栽培)

⑥ 地図中のカ～ケの工業都市を含む日本最大の工業地帯を何といいますか。

(中京工業地帯)

⑦ 地図中の c の工業都市で生産が盛んな工業製品を2つ答えなさい。

(楽器・オートバイ)

以下の問題は、説明文に当てはまる都市を地図中のア～ケから選び、記号と都市名を答えなさい。

⑧ 人口が 220 万人を超え、中部地方の最大の都市である。

記号(ク) 都市名(名古屋)

⑨ ⑥の工業地帯の中心になる工業都市で自動車工業が盛んである。

記号(ケ) 都市名(豊田)

⑩ 石油化学コンビナートがあり、四大公害裁判がおこった。

記号(カ) 都市名(四日市)

⑪ 陶磁器やファインセラミックの生産が盛んである。

記号(キ) 都市名(瀬戸)

⑫ 古くから漆器の生産が盛んである。

記号(イ) 都市名(輪島)

⑬ 東海工業地域の工業都市で製紙・パルプ工業が発達。

記号(オ) 都市名(富士)

⑭ 北陸地方で最初の政令指定都市になった。

記号(ア) 都市名(新潟)

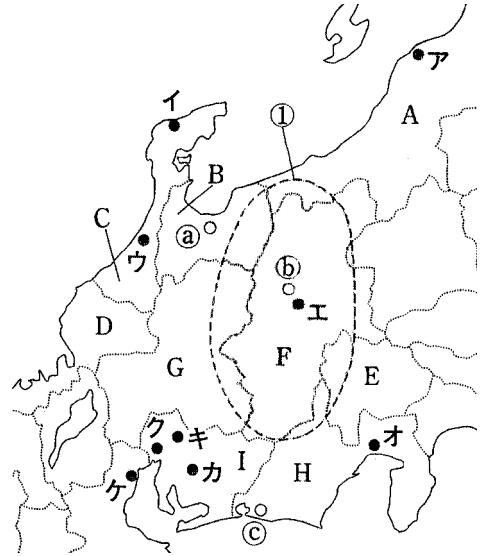
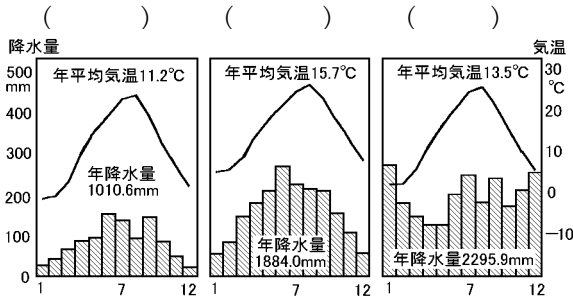
確認テスト

中部地方 ①	実施 /	氏名
--------	------	----

① 地図中の A～I の県名を答えなさい。

- A(県) B(県) C(県)
 D(県) E(県) F(県)
 G(県) H(県) I(県)

② 次のグラフは、地図中の a～c の3つの都市のいずれかの気温と降水量を表しています。当てはまる都市を選び、記号を答えなさい。

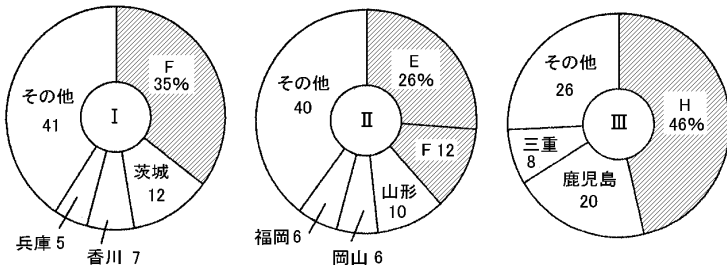


③ 地図中の 〰️ の地域にある赤石山脈などの山脈をまとめて何といいますか。 ()

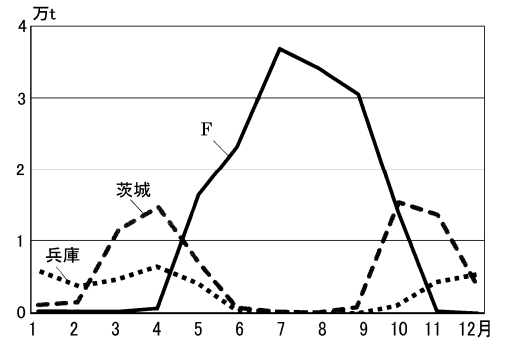
④ 下の〔図1〕は、ある農産物の県別生産高の割合を表しています。また、グラフ中のアルファベットは上の地図中の県を表しています。それぞれの農産物を答えなさい。

〔図1〕

I () II () III ()



〔図2〕



⑤ 〔図2〕は〔図1〕の I の農作物の出荷時期である。F の農業を何といいますか。 ()

⑥ 地図中のカ～ケの工業都市を含む日本最大の工業地帯を何といいますか。 ()

⑦ 地図中の c の工業都市で生産が盛んな工業製品を2つ答えなさい。 ()

以下の問題は、説明文に当てはまる都市を地図中のア～ケから選び、記号と都市名を答えなさい。

- ⑧ 人口が 220 万人を超え、中部地方の最大の都市である。 記号()都市名()
- ⑨ ⑥の工業地帯の中心になる工業都市で自動車工業が盛んである。 記号()都市名()
- ⑩ 石油化学コンビナートがあり、四大公害裁判がおこった。 記号()都市名()
- ⑪ 陶磁器やファインセラミックの生産が盛んである。 記号()都市名()
- ⑫ 古くから漆器の生産が盛んである。 記号()都市名()
- ⑬ 東海工業地域の工業都市で製紙・パルプ工業が発達。 記号()都市名()
- ⑭ 北陸地方で最初の政令指定都市になった。 記号()都市名()