

得点	演習問題	実施日	月	日	氏名

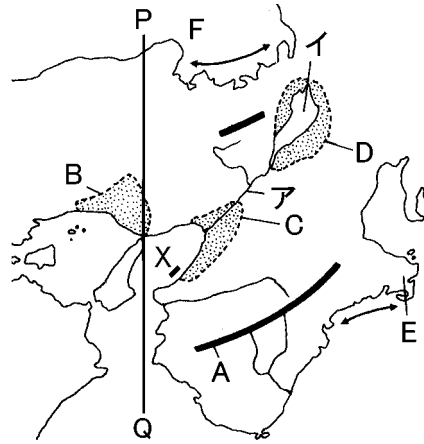
【1】右の地図を見て、次の問いに答えなさい。

① 地図中に A～D で示した山地・平野・盆地の名前をそれぞれ答えなさい。

- A()
- B()
- C()
- D()

② 地図中のアの河川・イの湖の名前をそれぞれ答えなさい。

- ア()
- イ()



③ 地図中の ←→ に共通して見られる複雑な海岸線を何といますか。また、Eの半島、Fの湾の名前をそれぞれ答えなさい。

- () E()
- () F()

④ Aの山地は温暖で雨が多いことから樹木の生長が早いから、林業が発達した。ここで生産されるおもなものを、次のア～エから2つ選びなさい。

- ア ひのき イ ひば ウ すぎ エ からまつ

⑤ 地図中の PQ は日本の標準時子午線です。この経度を答えなさい。

- ()

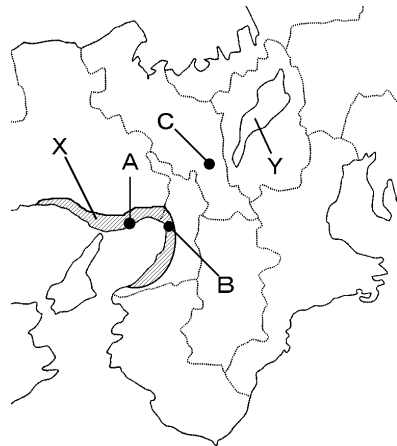
⑥ 地図中の X は 24 時間利用できる空港である。この空港を何といますか。

- ()

【2】次の問いに答えなさい。

① 地図中の A～C の都市名をそれぞれ答えなさい。

- A()
- B()
- C()



② 地図中の A・B の都市を中心に発達した工業地帯 X を何といますか。

- ()

③ 下のグラフは X の工業地帯の工業生産額割合の変化であり、A・B は次のいずれかの工業を示している。それぞれにあてはまる工業は何ですか。

年	A		B		食料品			繊維	
	割合	生産額	割合	生産額	化学	その他	化学	その他	
1960年 3.2兆円	26.6%	26.7	26.7	9.1	9.8	12.0	9.1	9.8	
2008年 34.7兆円	23.0%	38.2	38.2	17.9	9.3	1.6	9.3	10.0	

④ 地図中の工業地帯のうち、近年「パネルベイ」と呼ばれるようになった地域はどこですか。次から選び記号で答えなさい。

- ア 内陸の河川沿い イ 湾岸に沿った埋立地
- ウ 地価の高い都市中心部 エ 山地のふもと

⑤ 地図中の C の都市で受けつがれてきた伝統工芸の製品を、次から2つ選んで答えなさい。

- ア 京友禅 イ 土佐和紙 ウ 信楽焼
- エ 有田焼 オ 西陣織 カ 熊野筆

⑥ 各地の伝統工芸のうち、国の指定を受けている伝統工芸の製品を何といますか。

- ()

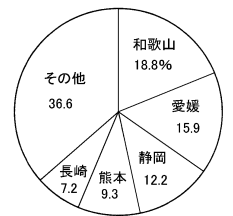
⑦ 地図中の C の都市郊外でつくられている九条ねぎや賀茂なすは、高い価格で取り引きされる。これらの野菜を特に何といますか。

- ()

⑧ ⑦の野菜などは、都市の郊外で栽培されるため、朝に収穫してその日のうちに市場に出荷できる。このような特色の農業を何といますか。

- ()

⑨ 右のグラフは、和歌山県の山の斜面を中心に栽培されている果樹の県別生産割合である。あてはまる果樹を、次のア～エから1つ選びなさい。



- ア みかん イ ぶどう ウ もも エ なし

⑩ 下の図は江戸時代の B の港のようすを示している。江戸だけでなく全国と陸路、海路で結ばれ、流通の拠点であったことから、江戸時代の B の都市は何と呼ばれていましたか。

- ()



⑪ B が商業都市として発展した理由にあてはまらないものを、次のア～エから1つ選びなさい。

- ア 豊臣秀吉が幕府を開き、政治、経済の中心となった。
- イ 周辺で商品作物の栽培がさかんであった。
- ウ 京都、奈良といった消費地が近くにあった。
- エ 瀬戸内海や琵琶湖の水運に恵まれていた。

⑫ A の都市は山が海に近いところまでせまっている。そこで都市を発展させるため、丘陵地をけずりその土を使って海を埋め立て、海上に写真のようなニュータウンを建設した。このニュータウンを何といますか。



- ()

⑬ 1995 年、地図中の A の都市を中心に大きな被害となった震災を何といますか。

- ()

⑭ 地図中の A～C の都市は江戸時代以前から栄えていた。一方、郊外の住宅地は大正時代以降に開発された。郊外の住宅地はどのようにして開発されたか。「乗客」の語句を用いて、簡単に説明しなさい。

[]

得点	演習問題〔解答〕	実施日	月	日	氏名

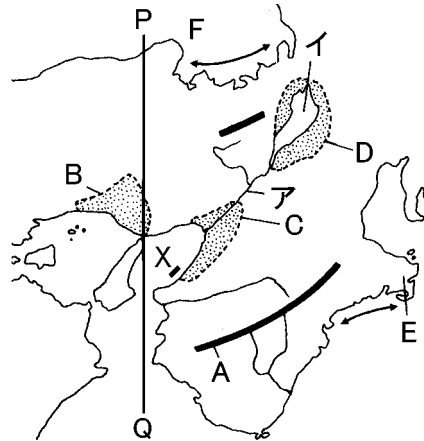
【1】右の地図を見て、次の問いに答えなさい。

① 地図中に A～D で示した山地・平野・盆地の名前をそれぞれ答えなさい。

- A(紀伊山地)
- B(播磨平野)
- C(大阪平野)
- D(近江盆地)

② 地図中のアの河川・イの湖の名前をそれぞれ答えなさい。

- ア(淀川)
- イ(琵琶湖)



③ 地図中の ←→ に共通して見られる複雑な海岸線を何といいますか。また、Eの半島、Fの湾の名前をそれぞれ答えなさい。

- (リアス海岸) E(志摩半島)
- F(若狭湾)

④ Aの山地は温暖で雨が多いことから樹木の生長が早いいため、林業が発達した。ここで生産されるおもなものを、次のア～エから2つ選びなさい。

- ア ひのき
- イ ひば
- ウ すぎ
- エ からまつ

⑤ 地図中の PQ は日本の標準時子午線です。この経度を答えなさい。

- (東経 135 度)

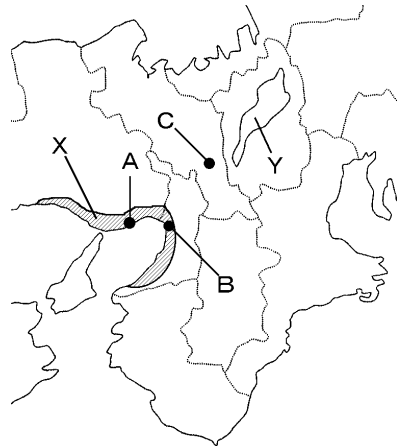
⑥ 地図中の X は 24 時間利用できる空港である。この空港を何といいますか。

- (関西国際空港)

【2】次の問いに答えなさい。

① 地図中の A～C の都市名をそれぞれ答えなさい。

- A(神戸)
- B(大阪)
- C(京都)



② 地図中の A・B の都市を中心に発達した工業地帯 X を何といいますか。

- (阪神工業地帯)

③ 下のグラフは X の工業地帯の工業生産額割合の変化であり、A・B は次のいずれかの工業を示している。それぞれにあてはまる工業は何ですか。

年	A(金属)		B(機械)		食料品		繊維	
	A	B	化学	繊維	化学	繊維	その他	
1960年 3.2兆円	26.6%	26.7	9.1	9.8	12.0	15.8		
2008年 34.7兆円	23.0%	38.2	17.9	9.3	1.6	10.0		

④ 地図中の工業地帯のうち、近年「パネルベイ」と呼ばれるようになった地域はどこですか。次から選び記号で答えなさい。

- (イ)

- ア 内陸の河川沿い
- イ 湾岸に沿った埋立地
- ウ 地価の高い都市中心部
- エ 山地のふもと

⑤ 地図中の C の都市で受けつがれてきた伝統工芸の製品を、次から2つ選んで答えなさい。

- (ア・オ)

- ア 京友禅
- イ 土佐和紙
- ウ 信楽焼
- エ 有田焼
- オ 西陣織
- カ 熊野筆

⑥ 各地の伝統工芸のうち、国の指定を受けている伝統工芸の製品を何といいますか。

- (伝統的工芸品)

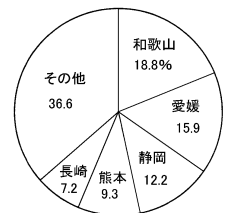
⑦ 地図中の C の都市郊外でつくられている九条ねぎや賀茂なすは、高い価格で取り引きされる。これらの野菜を特に何といいますか。

- (京野菜)

⑧ ⑦の野菜などは、都市の郊外で栽培されるため、朝に収穫してその日のうちに市場に出荷できる。このような特色の農業を何といいますか。

- (近郊農業)

⑨ 右のグラフは、和歌山県の山の斜面を中心に栽培されている果樹の県別生産割合である。あてはまる果樹を、次のア～エから1つ選びなさい。



- ア みかん
- イ ぶどう
- ウ もも
- エ なし

⑩ 下の図は江戸時代の B の港のようすを示している。江戸だけでなく全国と陸路、海路で結ばれ、流通の拠点であったことから、江戸時代の B の都市は何と呼ばれていましたか。

- (天下の台所)



⑪ B が商業都市として発展した理由にあてはまらないものを、次のア～エから1つ選びなさい。

- (イ)

- ア 豊臣秀吉が幕府を開き、政治、経済の中心となった。
- イ 周辺で商品作物の栽培がさかんであった。
- ウ 京都、奈良といった消費地が近くにあった。
- エ 瀬戸内海や琵琶湖の水運に恵まれていた。

⑫ A の都市は山が海に近いところまでせまっている。そこで都市を発展させるため、丘陵地をけずりその土を使って海を埋め立て、海上に写真のようなニュータウンを建設した。このニュータウンを何といいますか。



- (ポートアイランド)

⑬ 1995 年、地図中の A の都市を中心に大きな被害となった震災を何といいますか。

- (阪神・淡路大震災)

⑭ 地図中の A～C の都市は江戸時代以前から栄えていた。一方、郊外の住宅地は大正時代以降に開発された。郊外の住宅地はどのようにして開発されたか。「乗客」の語句を用いて、簡単に説明しなさい。

〔 民間の鉄道会社(私鉄)が乗客を増やすため郊外に住宅地を開発した 〕