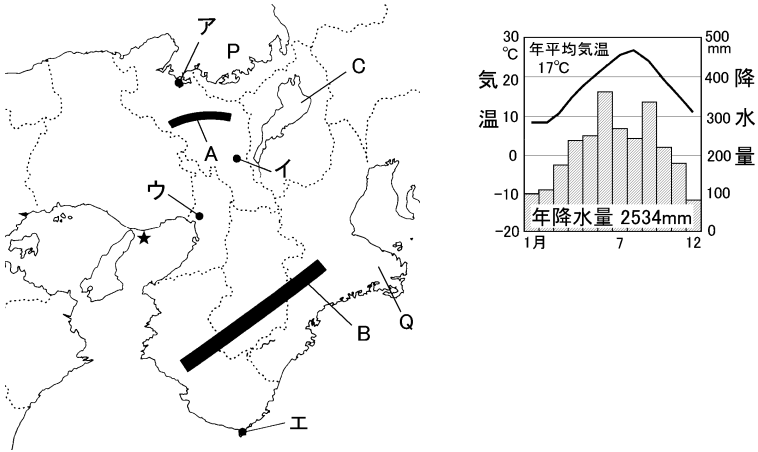


得点	演習問題	実施日	月 日	氏名
	近畿地方の特色 ①			

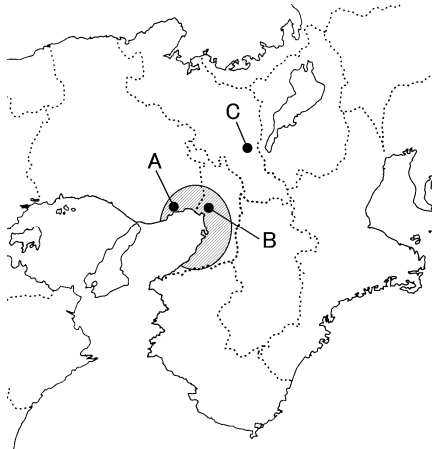
【1】下の地図とグラフを見て、次の問いに答えなさい。



- ① 地図中の A～C にあてはまる高地、山地、湖の名をそれぞれ答えなさい。
A(高地) B(山地) C(湖)
- ② リアス海岸が見られる P の湾の名前と Q の半島の名前をそれぞれ答えなさい。 P(湾) Q(半島)
- ③ 右上の気温と降水量を示したグラフにあてはまる都市を、地図中のア～エから 1 つ選びなさい。 ()
- ④ 地図中に★で示した地域を震源地として、1995 年に発生した震災を何とといいますか。 ()

【2】右の地図を見て、次の問いに答えなさい。

- ① 地図中の A～C は人口が 100 万人以上の都市を示している、あてはまる都市名を答えなさい。
A()
B()
C()



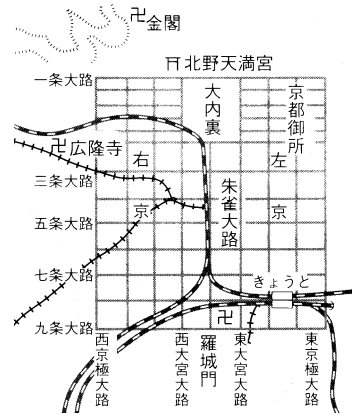
- ② 地図中に で示した地域に発達している工業地帯を何とといいますか。
(工業地帯)
- ③ 下のグラフは、②の工業製品出荷額の割合の変化を示している。1960 年と 2008 年を比較したとき、正しく読み取っていないものを、次のア～エから 1 つ選びなさい。 ()

	食料品			繊維		
1960年 3.2兆円	金属 26.6%	機械 26.7	化学 9.1	9.8	12.0	15.8
2008年 34.7兆円	金属 23.0%	機械 38.2	化学 17.9	9.3	10.0	1.6

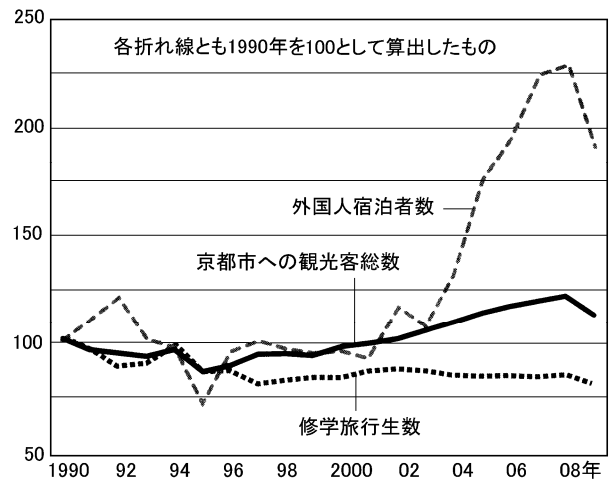
- ア 最も割合が低下したのは繊維工業である。
 - イ 機械工業の生産額は 10 倍以上となっている。
 - ウ 金属工業の生産額は少なくなった。
 - エ 化学工業の割合は約 2 倍である。
- ④ 近年、液晶パネルや太陽電池の工場が多く進出したことから大阪湾岸の埋め立て地を何とといいますか。
()

【3】下の地図を見て、次の問いに答えなさい。

- ① 地図は京都市を示している。この都市は道路が基盤目状に区切られていることから、計画的につくられた都市であることがわかる。794 年に京都につくられた都を何とといいますか。 ()
- ② 京都に古くから伝えられてきた西陣織、京友禅などを何とといいますか。
()



- ③ 地図中の文化財の多くは、その歴史的価値から何に登録されているか。
()
- ④ 下のグラフから読みとれることとしてあやまっているものを、次のア～エから 1 つ選びなさい。 ()



- ア 京都市への観光客数は毎年増加している。
 - イ 京都市への観光客数が 20 年間で最も少なかったのは、1995 年である。
 - ウ 1995 年以降、修学旅行生数は減る一方で、増えたことは 1 度もない。
 - エ 外国人宿泊客数は 2003 年から増加していく傾向にあったが、2009 年には減少している。
- ⑤ 京都市では、北に「上ル」、南に「下ル」という表現を使うが、これは何を基準としたものですか。次のア～エから 1 つ選びなさい。
()

ア 比叡山 イ 御所 ウ 二条城 エ 京都駅

- ⑥ 産地の名をつけた九条ねぎ、賀茂なすなどの野菜を何とといいますか。
()

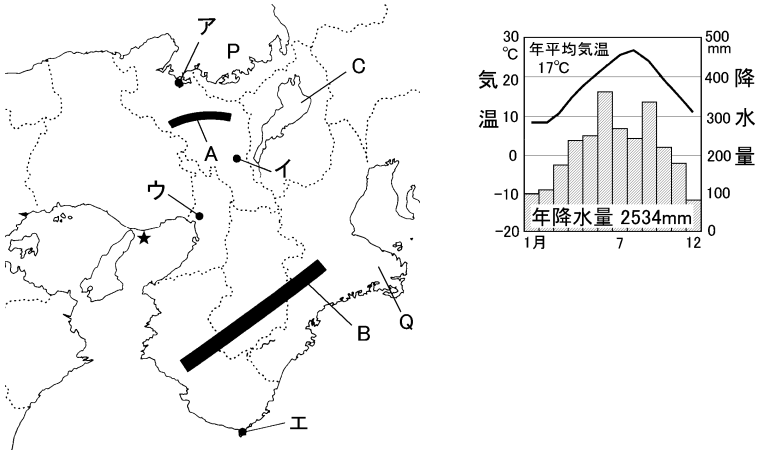
- ⑦ 右の写真のように、京都市では歴史的に形成されてきた景観や町並みをそこなないように、店の看板、建物の高さ、デザインなどを規制するための条例を 2007 年に定めた。この条例を何とといいますか。
()



- ⑧ 710 年、奈良につくられた都を何とといいますか。
()

得点	演習問題〔解答〕	実施日	月 日	氏名
	近畿地方の特色 ①			

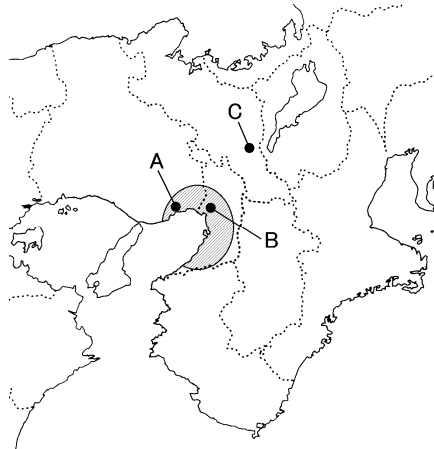
【1】下の地図とグラフを見て、次の問いに答えなさい。



- ① 地図中の A～C にあてはまる高地、山地、湖の名をそれぞれ答えなさい。
A(丹波 高地) B(紀伊 山地) C(琵琶 湖)
- ② リアス海岸が見られる P の湾の名前と Q の半島の名前をそれぞれ答えなさい。 P(若狭 湾) Q(志摩 半島)
- ③ 右上の気温と降水量を示したグラフにあてはまる都市を、地図中のア～エから 1 つ選びなさい。 (エ)
- ④ 地図中に★で示した地域を震源地として、1995 年に発生した震災を何といますか。 (阪神淡路大震災)

【2】右の地図を見て、次の問いに答えなさい。

- ① 地図中の A～C は人口が 100 万人以上の都市を示している、あてはまる都市名を答えなさい。
A(神戸)
B(大阪)
C(京都)
- ② 地図中に で示した地域に発達している工業地帯を何といますか。
(阪神 工業地帯)



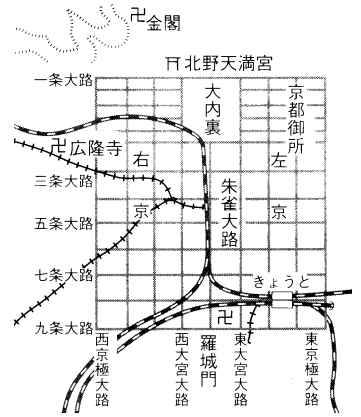
- ③ 下のグラフは、②の工業製品出荷額の割合の変化を示している。1960 年と 2008 年を比較したとき、正しく読み取っていないものを、次のア～エから 1 つ選びなさい。 (ウ)

	食料品			繊維		
1960年	金属	機械	化学		その他	
3.2兆円	26.6%	26.7	9.1	9.8	12.0	15.8
2008年	金属	機械	化学		その他	
34.7兆円	23.0%	38.2	17.9	9.3	10.0	1.6

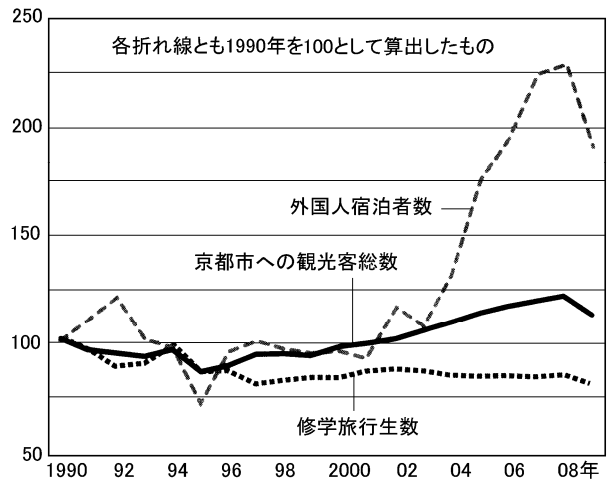
- ア 最も割合が低下したのは繊維工業である。
 - イ 機械工業の生産額は 10 倍以上となっている。
 - ウ 金属工業の生産額は少なくなった。
 - エ 化学工業の割合は約 2 倍である。
- ④ 近年、液晶パネルや太陽電池の工場が多く進出したことから大阪湾岸の埋め立て地を何といますか。
(パネルベイ)

【3】下の地図を見て、次の問いに答えなさい。

- ① 地図は京都市を示している。この都市は道路が碁盤目状に区切られていることから、計画的につくられた都市であることがわかる。794 年に京都につくられた都を何といますか。 (平安京)
- ② 京都に古くから伝えられてきた西陣織、京友禅などを何といますか。
(伝統的工芸品)



- ③ 地図中の文化財の多くは、その歴史的価値から何に登録されているか。
(世界遺産〔文化遺産〕)
- ④ 下のグラフから読みとれることとしてあやまっているものを、次のア～エから 1 つ選びなさい。 (ア)



- ア 京都市への観光客数は毎年増加している。
- イ 京都市への観光客数が 20 年間で最も少なかったのは、1995 年である。
- ウ 1995 年以降、修学旅行生数は減る一方で、増えたことは 1 度もない。
- エ 外国人宿泊客数は 2003 年から増加していく傾向にあったが、2009 年には減少している。

- ⑤ 京都市では、北に「上ル」、南に「下ル」という表現を使うが、これは何を基準としたものですか。次のア～エから 1 つ選びなさい。 (イ)

ア 比叡山 イ 御所 ウ 二条城 エ 京都駅

- ⑥ 産地の名をつけた九条ねぎ、賀茂なすなどの野菜を何といますか。
(京野菜)

- ⑦ 右の写真のように、京都市では歴史的に形成されてきた景観や町並みをそこなないように、店の看板、建物の高さ、デザインなどを規制するための条例を 2007 年に定めた。この条例を何といますか。
(京都市新景観条例)



- ⑧ 710 年、奈良につくられた都を何といますか。
(平城京)