

絶対暗記するプリント

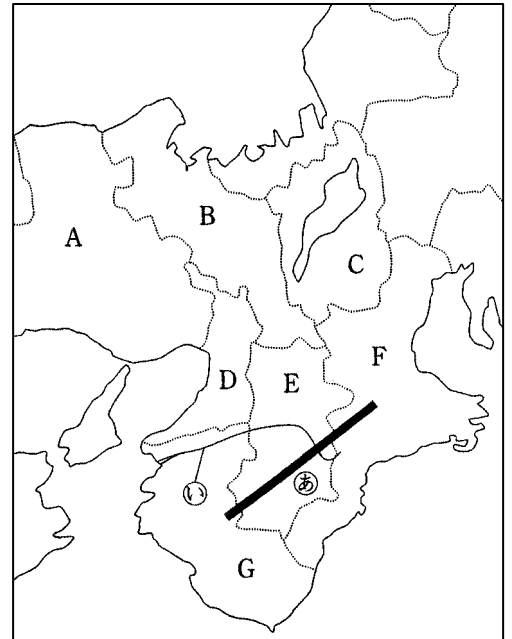
近畿地方 ②

実施 / 氏名

【1】右の地図を見て、次の間に答えなさい。

(1) 次の①～⑦に当てはまる都道府県を、地図中のA～Gから選び、記号と名前を答えなさい。

- ① 南部は瀬戸内海と、北部は日本海に面している。
記号(A) 名前(兵庫県)
- ② 日本最大の湖があり、海に面していない。
記号(C) 名前(滋賀県)
- ③ 南部に紀伊山地があり、北部には盆地がある。
記号(E) 名前(奈良県)
- ④ 伊勢湾と太平洋に面しており、志摩半島がある。
記号(F) 名前(三重県)
- ⑤ 淀川が流れ、広い平野がある。
記号(D) 名前(大阪府)
- ⑥ 南部には盆地があり、中部には丹波高地、北部には丹後半島がある。記号(B) 名前(京都府)
- ⑦ 太平洋に面し、紀ノ川が流れている。記号(G) 名前(和歌山県)

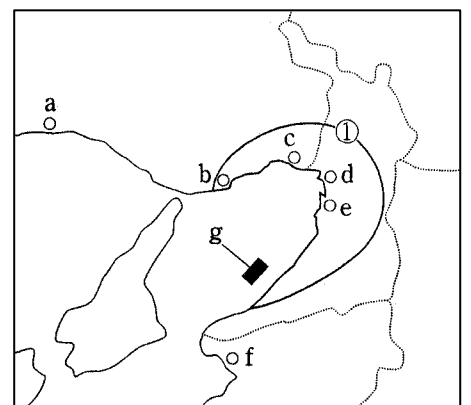


(2) 地図中の①の山地を何といますか。また、ここには杉の人工林が広がっています。この杉は何と呼ばれていますか。
山地(紀伊 山地) 人工林(吉野 杉)

(3) 地図中の②の川は何といますか。また、この川の流域で栽培が盛んなくだものは何ですか。
(紀ノ川) くだもの(みかん)

【2】右の地図をみて、次の間に答えなさい。

- (1) 地図中の①の工業地帯の名前を答えなさい。
(阪神 工業地帯)
- (2) 地図中の a と f の工業都市で発達している工業は何ですか。
(鉄鋼業)
- (3) 地図中のbの貿易港にある人工島を2つ答えなさい。
(ポートアイランド)(六甲アイランド)



- (4) 地図中のcで、地下水のくみ上げすぎからおきている公害は何ですか。 (地盤沈下)
- (5) 地図中のdは江戸時代には何と呼ばれていましたか。 (天下の台所)
- (6) 地図中のgにある空港名を答えなさい。 (関西国際 空港)

絶対暗記するプリント

近畿地方 ②

実施

/

氏名

【1】右の地図を見て、次の間に答えなさい。

(1) 次の①～⑦に当てはまる都道府県を、地図中のA～Gから選び、記号と名前を答えなさい。

① 南部は瀬戸内海と、北部は日本海に面している。

記号() 名前()

② 日本最大の湖があり、海に面していない。

記号() 名前()

③ 南部に紀伊山地があり、北部には盆地がある。

記号() 名前()

④ 伊勢湾と太平洋に面しており、志摩半島がある。

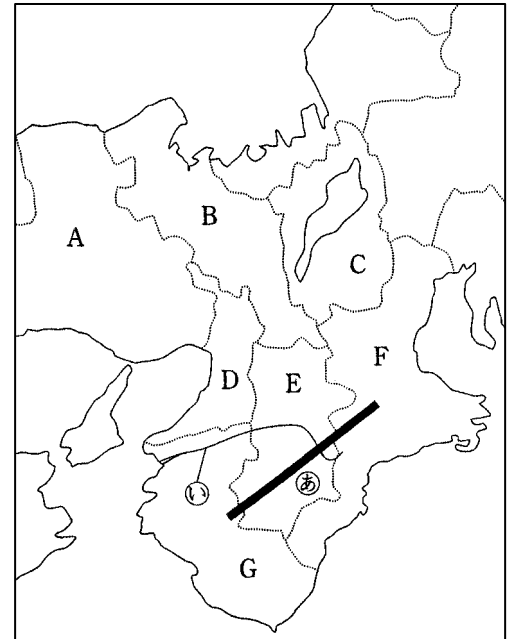
記号() 名前()

⑤ 淀川が流れ、広い平野がある。

記号() 名前()

⑥ 南部には盆地があり、中部には丹波高地、北部には丹後半島がある。記号() 名前()

⑦ 太平洋に面し、紀ノ川が流れている。記号() 名前()



(2) 地図中の⑥の山地を何とといいますか。また、ここには杉の人工林が広がっています。この杉は何と呼ばれていますか。山地() 山地() 人工林() 杉()

(3) 地図中の⑤の川は何とといいますか。また、この川の流域で栽培が盛んなくだものは何ですか。

() 川) くだもの()

【2】右の地図をみて、次の間に答えなさい。

(1) 地図中の①の工業地帯の名前を答えなさい。

() 工業地帯)

(2) 地図中のaとfの工業都市で発達している工業は何ですか。

()

(3) 地図中のbの貿易港にある人工島を2つ答えなさい。

() ()

(4) 地図中のcで、地下水のくみ上げすぎからおきている公害は何ですか。

()

(5) 地図中のdは江戸時代には何と呼ばれていましたか。

()

(6) 地図中のgにある空港名を答えなさい。

() 空港)

