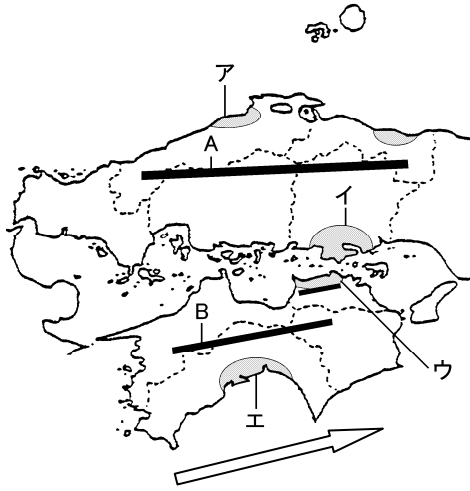


得点	演習問題	実施日	氏名

【1】下の地図を見て、次の問いに答えなさい。



- (1) 地図中の A・B にあてはまる山地名を答えなさい。  
 A( ) 山地) B( ) 山地)
- (2) 地図中の A・B の山地により、中国・四国地方は3つの地域に区分される。次の①～③の地域を何といますか。
- ① A 山地の北側 ( )  
 ② A 山地と B 山地にはさまれた地域 ( )  
 ③ B 山地の南側 ( )
- (3) 地図中に矢印で示した(2)の③地域の気候に大きな影響をあたえる海流を何というか。 ( )
- (4) 冬の季節風のふく方向を、下の断面図に矢印で答えなさい。



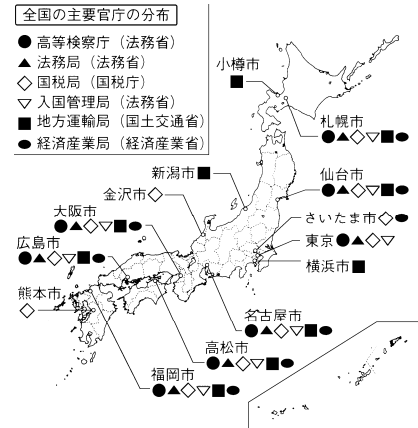
【2】下の地図は中四国地方のおもな工業都市を表しています。これについて、次の問いに答えなさい。



- (1) A～F の工業都市はそれぞれ何といますか。下から選び記号で答えなさい。
- A( ) B( ) C( )  
 D( ) E( ) F( )
- |       |       |       |
|-------|-------|-------|
| ア 新浜市 | イ 倉敷市 | ウ 福山市 |
| エ 広島市 | オ 呉市  | カ 周南市 |

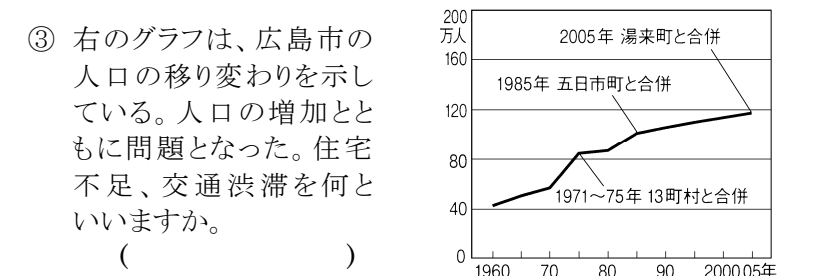
- (2) ①周南市、新居浜市、②倉敷市、福山市、呉市、③広島市、倉敷市で共通に発達している工業を、次のア～エから1つずつ選びなさい。
- ①( ) ②( ) ③( )
- |          |         |
|----------|---------|
| ア 石油化学工業 | イ 自動車工業 |
| ウ 製鉄業    | エ 造船業   |

【3】右の地図を見て、次の問いに答えなさい。



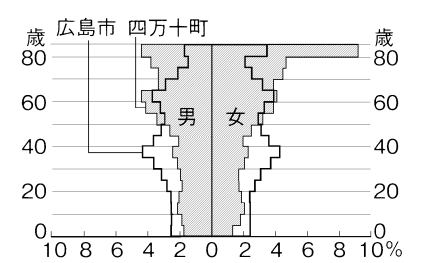
- (1) 地図から読み取れることとしてあやまっているものを、次のア～エから1つ選びなさい。 ( )
- ア さいたま市に置かれている主要官庁は、国税局と経済産業局である。  
 イ 貿易がさかんな小樽市、新潟市、横浜市には地方運輸局が置かれている。  
 ウ 中国・四国地方に置かれている高等検察庁は1つである。  
 エ 国税局が本州の日本海側の都市で置かれているのは金沢市だけである。

- (2) 地図中の広島市に関して、次の問いに答えなさい。
- ① 広島市に原子爆弾が投下された年月日を西暦で答えなさい。 ( 年 月 日 )
- ② 広島市、福岡市など、各地方の政治や経済・文化の中心となっている都市を何といますか。 ( )



【4】右の図は、高知県四万十町と広島市の人口ピラミッドを示している。次の問いに答えなさい。

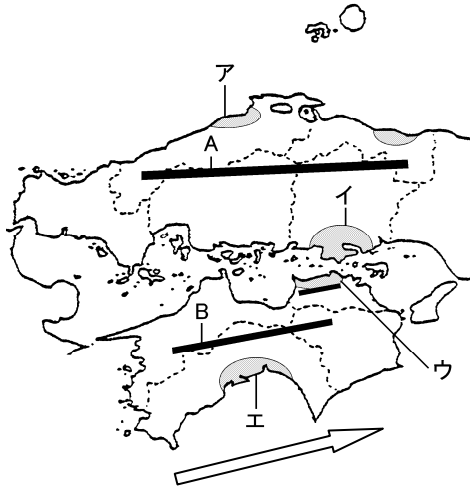
- ① 四万十町で人口の割合がもっとも多い年齢層と性別を答えなさい。  
 年齢( )  
 性別( )
- ② 四万十町などの山間地域や離島などで深刻な問題となっている。人口の減少を何といますか。 ( )
- ③ ②による問題点を、次のア～エから1つ選びなさい。 ( )



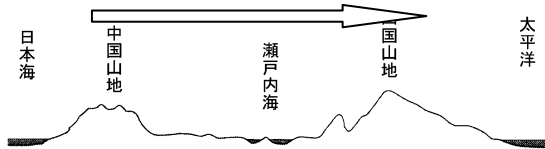
- ア 人口の減少により、一人当たりの福祉サービスが向上した。  
 イ 介護施設が多くなったので、交通渋滞が起こった。  
 ウ 近くに病院がなくなったため、遠くまで通院しなくてはならなくなった。  
 エ 若者が働く施設を多くつくったため、住宅不足となった。

得点	演習問題〔解答〕	実施日	月	日	氏名

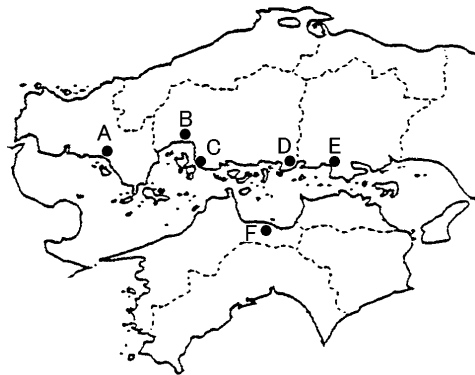
【1】下の地図を見て、次の問いに答えなさい。



- (1) 地図中の A・B にあてはまる山地名を答えなさい。  
 A( 中国 山地) B( 四国 山地)
- (2) 地図中の A・B の山地により、中国・四国地方は3つの地域に区分される。次の①～③の地域を何といますか。
- ① A 山地の北側 ( 山陰地方 )  
 ② A 山地と B 山地にはさまれた地域 ( 瀬戸内地方 )  
 ③ B 山地の南側 ( 南四国 )
- (3) 地図中に矢印で示した(2)の③地域の気候に大きな影響をあたえる海流を何といますか。 ( 黒潮〔日本海流〕 )
- (4) 冬の季節風のふく方向を、下の断面図に矢印で答えなさい。

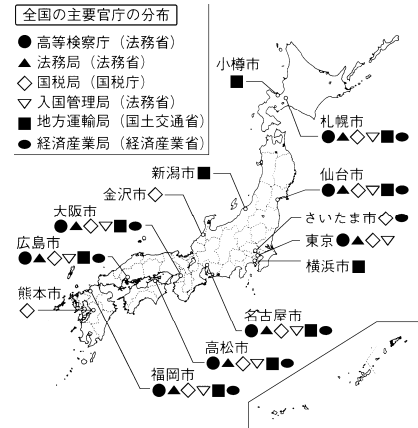


【2】下の地図は中四国地方のおもな工業都市を表しています。これについて、次の問いに答えなさい。

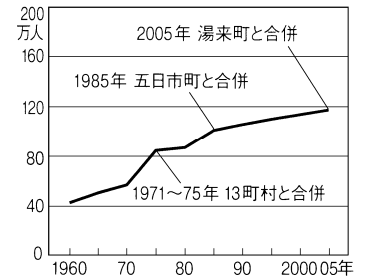


- (1) A～F の工業都市はそれぞれ何といますか。下から選び記号で答えなさい。
- A( カ ) B( エ ) C( オ )  
 D( ウ ) E( イ ) F( ア )
- |       |       |       |
|-------|-------|-------|
| ア 新浜市 | イ 倉敷市 | ウ 福山市 |
| エ 広島市 | オ 呉市  | カ 周南市 |
- (2) ①周南市、新居浜市、②倉敷市、福山市、呉市、③広島市、倉敷市で共通に発達している工業を、次のア～エから1つずつ選びなさい。
- ①( ア ) ②( ウ ) ③( イ )
- |          |         |
|----------|---------|
| ア 石油化学工業 | イ 自動車工業 |
| ウ 製鉄業    | エ 造船業   |

【3】右の地図を見て、次の問いに答えなさい。



- (1) 地図から読み取れることとしてあやまっているものを、次のア～エから1つ選びなさい。 ( ウ )
- ア さいたま市に置かれている主要官庁は、国税局と経済産業局である。  
 イ 貿易がさかんな小樽市、新潟市、横浜市には地方運輸局が置かれている。  
 ウ 中国・四国地方に置かれている高等検察庁は1つである。  
 エ 国税局が本州の日本海側の都市で置かれているのは金沢市だけである。
- (2) 地図中の広島市に関して、次の問いに答えなさい。
- ① 広島市に原子爆弾が投下された年月日を西暦で答えなさい。 ( 1945 年 8 月 6 日 )
- ② 広島市、福岡市など、各地方の政治や経済・文化の中心となっている都市を何といますか。 ( 地方中枢都市 )
- ③ 右のグラフは、広島市の人口の移り変わりを示している。人口の増加とともに問題となった。住宅不足、交通渋滞を何といますか。 ( 過密問題 )



- 【4】右の図は、高知県四万十町と広島市の人口ピラミッドを示している。次の問いに答えなさい。
- ① 四万十町で人口の割合がもっとも多い年齢層と性別を答えなさい。
- 年齢( 80歳以上 )  
 性別( 女 )
- ② 四万十町などの山間地域や離島などで深刻な問題となっている。人口の減少を何といますか。 ( 過疎 )
- ③ ②による問題点を、次のア～エから1つ選びなさい。 ( ウ )
- ア 人口の減少により、一人当たりの福祉サービスが向上した。  
 イ 介護施設が多くなったので、交通渋滞が起こった。  
 ウ 近くに病院がなくなったため、遠くまで通院しなければならないようになった。  
 エ 若者が働く施設を多くつくったため、住宅不足となった。

