

得点	演習問題〔解答〕	実施日	月	日	氏名

【1】右の地図を見て、次の問いに答えなさい。

(1) 地図中の A・B の山地名を答えなさい。

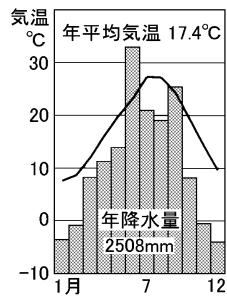
- A(筑紫 山地)
B(九州 山地)

(2) 地図中の C・D の平野名を答えなさい。

- C(筑紫 平野)
D(宮崎 平野)

(3) 地図中の P は世界的なカルデラで知られる火山である。火山名を答えなさい。
(阿蘇山)

(4) 右の気温と降水量を表したグラフにあてはまる都市を、地図中の①～③から1つ選びなさい。
(②)



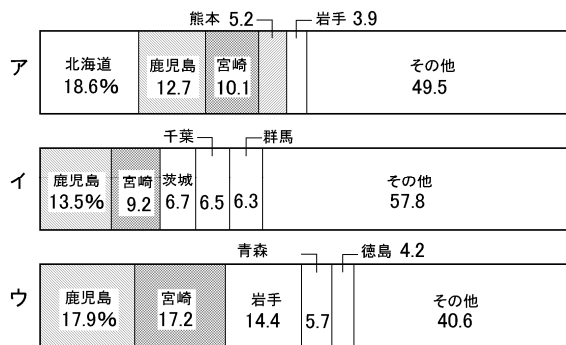
(5) D の平野では、きゅうりやピーマンなどをビニールハウスで生産し、出荷時期を早める農業がさかんである。この農業を何といいますか。
(促成栽培)

(6) 地図中の E に示した地域に分布している地層を、何といいますか。
(シラス)

(7) X で示した工業地域についての説明としてあやまっているものを、次のア～エから1つ選びなさい。
(ウ)

- ア 20 世紀はじめにつくられた官営八幡製鉄所を中心に発展した。
- イ 近くの筑豊炭田の石炭と、中国から輸入した鉄鉱石を原材料として鉄鋼の生産を行った。
- ウ エネルギー源が石油から石炭にかわるエネルギー革命にともない地位が低下した。
- エ かつては四大工業地帯の一つに数えられていた。

【2】下のグラフを見て、次の問いに答えなさい。



(1) グラフは次の A～C のいずれかの家畜の飼育数割合を示している。次の文を参考に、A～C にあてはまるグラフを右の A～ウからそれぞれ選び、記号で答えなさい。
A(イ) B(ウ) C(ア)

- A 豚…九州・関東地方の県が上位をしめている。
- B 肉用若鶏…九州地方の2県がしめる割合が、3つの家畜の中で最も高い。
- C 肉牛…九州地方以外の都道府県が1位をしめている。

(2) 九州地方でグラフア～ウの家畜の飼育がさかんな地域について、次の文中の①～④から正しい語句をそれぞれ選んで答えなさい。

- ①(シラス) ②(やせて)
③(悪い) ④(畑作)

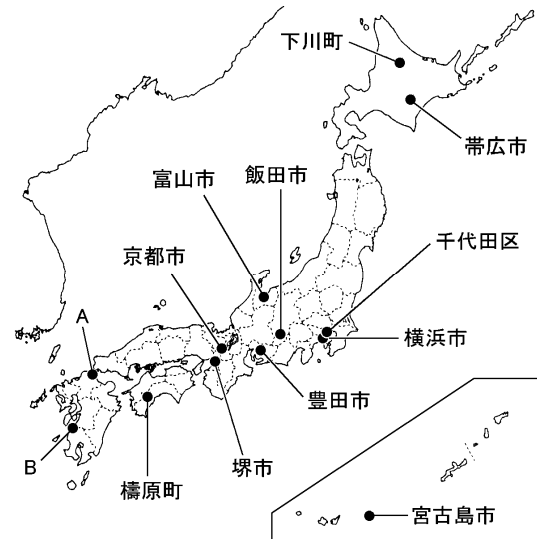
九州南部には①[ステップ シラス]という火山の噴出物が積もった地層が広がっている。土地が②[肥えて やせて]いて、水持ちが③[よい 悪い]ため、④[畑作 稲作]や畜産がさかんになった。

(3) グラフ中の宮崎県の農業について、次の文中の①～③から正しい語句をそれぞれ選んで答えなさい。

- ①(ビニールハウス) ②(早く) ③(促成栽培)

野菜を①[露地 ビニールハウス]で生産し、出荷時期を②[おそく 早く]している。この栽培方法を③[促成栽培 抑制栽培]という。

【3】下の地図を見て、次の問いに答えなさい。



(1) 地図中の●は、温室効果ガスの削減などで先進的な取り組みを行っている都市として、政府により選定された都市である。これらの都市を何といいますか。
(環境モデル都市)

(2) 九州地方のうち●に選定されている地図中の A・B の都市名をそれぞれ答えなさい。
A (北九州市) B(水俣市)

(3) 地図中の A・B の都市の歩みについて、次の文中の〔 〕から正しい語句をそれぞれ選びなさい。
①(八幡製鉄所) ②(重工業)
③(エネルギー革命) ④(エコタウン)
⑤(化学工場) ⑥(水俣病)
⑦(もやい直し)

A 20 世紀のはじめに①[富岡製糸場 八幡製鉄所]が建設され、日本の近代的な②[軽工業 重工業]発祥の地となったが、1960 年代の③[産業革命 エネルギー革命]などにより機械工業へ転換している。また、環境問題が深刻になり、現在はリサイクルを進める④[エコタウン ニュータウン]を形成している。

B この都市では、⑤[銅山 化学工場]から出た排水に含まれたメチル水銀が魚に蓄積し、四大公害病の1つである⑥[水俣病 イタイイタイ病]が発生した。現在は公害を克服し、市と住民が協力して心と心のきずなを取りもどす⑦[リゾート もやい直し]の活動を進めている。