

絶対暗記するプリント

日本の産業の特色 ② 工業・サービス業

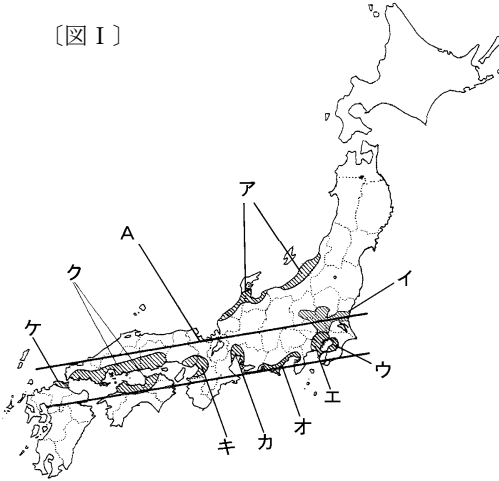
実施

/

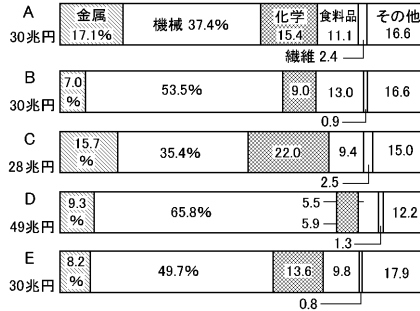
氏名

- ① [図Ⅰ]は日本の工業地帯を表しています。それぞれの工業地帯の名前を答えなさい。また、[図Ⅱ]はそのいずれかの工業地帯の生産額を表したものです。

[図Ⅰ]



[図Ⅱ]



- ア(北陸 工業地域)
 イ(北関東 工業地域)
 ウ(京葉 工業地域)
 エ(京浜 工業地帯)
 オ(東海 工業地域)
 カ(中京 工業地帯)
 キ(阪神 工業地帯)
 ク(瀬戸内 工業地域)
 ケ(北九州 工業地帯)

- ② 東京湾から東海・瀬戸内沿岸・北九州までのびる地図中 A の地域を何とといいますか。(太平洋ベルト)
 ③ かつて日本は原料を輸入し製品を輸出する貿易が中心でした。これを何とといいますか。(加工貿易)
 ④ 現在日本で最も生産額が多い[図Ⅱ]D の工業地帯を何とといいますか。(中京工業地帯)
 ⑤ ④の工業地帯では具体的にどんな種類の工業が特にさかんといえますか。(自動車工業)
 ⑥ [図Ⅱ]の A・C・E は、それぞれどの工業地帯の生産額を表していますか。その工業地帯を答えなさい。

A(阪神 工業地帯) C(瀬戸内 工業地域) E(京浜 工業地帯)

- ⑦ 1970 年台から空港や高速道路の周辺などに進出し始めた工業を何とといいますか。(IC 工業)
 ⑧ ⑦が労働力が豊富で地価の安い九州や東北に進出した理由は何ですか。

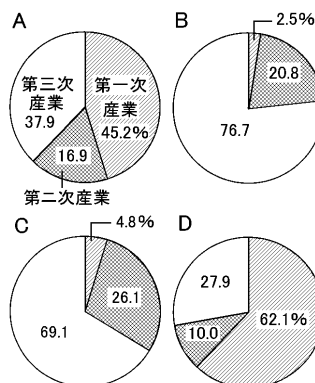
(IC は軽量で高価なため、航空機やトラックで輸送しても採算がとれるため)

- ⑨ アメリカや日本のように世界各国に工場をもち生産を行う企業を何とといいますか。(多国籍企業)
 ⑩ 就業者数を産業別に見た場合、日本では第何次産業が最も多くなっていますか。(第三次産業)
 ⑪ 下の[図Ⅲ]のうち日本の産業別人口の割合を表しているものはどれですか。(C)
 ⑫ ⑩のうちコンピュータやインターネットに関する産業を何とといいますか。(情報サービス産業)

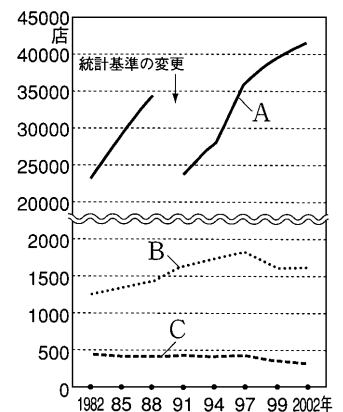
- ⑬ 下の[図Ⅳ]は、百貨店、スーパーマーケット、コンビニエンスストアの店舗数を表したものです。それぞれにあてはまるものを記号で答えなさい。

- 百貨店 (C)
 スーパーマーケット (B)
 コンビニエンスストア (A)

[図Ⅲ]



[図Ⅳ]



絶対暗記するプリント

日本の産業の特色 ② 工業・サービス業

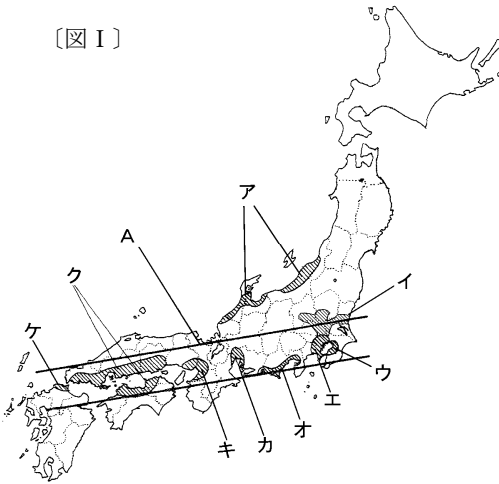
実施

/

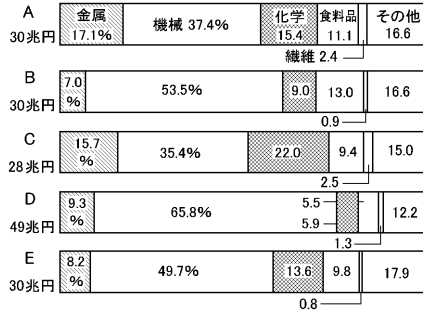
氏名

- ① [図Ⅰ]は日本の工業地帯を表しています。それぞれの工業地帯の名前を答えなさい。また、[図Ⅱ]はそのいずれかの工業地帯の生産額を表したものです。

[図Ⅰ]



[図Ⅱ]



- ア() 工業地域)
 イ() 工業地域)
 ウ() 工業地域)
 エ() 工業地帯)
 オ() 工業地域)
 カ() 工業地帯)
 キ() 工業地帯)
 ク() 工業地域)
 ケ() 工業地帯)

- ② 東京湾から東海・瀬戸内沿岸・北九州までのびる地図中 A の地域を何とといいますか。 ()
 ③ かつて日本は原料を輸入し製品を輸出する貿易が中心でした。これを何とといいますか。 ()
 ④ 現在日本で最も生産額が多い[図Ⅱ]D の工業地帯を何とといいますか。 ()
 ⑤ ④の工業地帯では具体的にどんな種類の工業が特にさかんといえますか。 ()
 ⑥ [図Ⅱ]の A・C・E は、それぞれどの工業地帯の生産額を表していますか。その工業地帯を答えなさい。

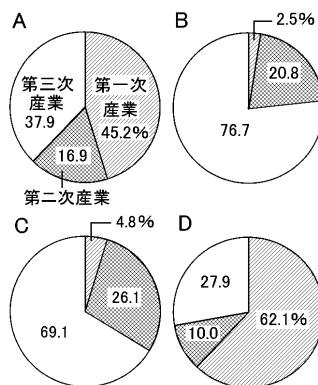
A() 工業地帯) C() 工業地域) E() 工業地帯)

- ⑦ 1970 年台から空港や高速道路の周辺などに進出し始めた工業を何とといいますか。 ()
 ⑧ ⑦が労働力が豊富で地価の安い九州や東北に進出した理由は何ですか。
 []
 ⑨ アメリカや日本のように世界各国に工場をもち生産を行う企業を何とといいますか。 ()
 ⑩ 就業者数を産業別に見た場合、日本では第何次産業が最も多くなっていますか。 ()
 ⑪ 下の[図Ⅲ]のうち日本の産業別人口の割合を表しているものはどれですか。 ()
 ⑫ ⑩のうちコンピュータやインターネットに関する産業を何とといいますか。 ()

- ⑬ 下の[図Ⅳ]は、百貨店、スーパーマーケット、コンビニエンスストアの店舗数を表したものです。それぞれにあてはまるものを記号で答えなさい。

- 百貨店 ()
 スーパーマーケット ()
 コンビニエンスストア ()

[図Ⅲ]



[図Ⅳ]

