

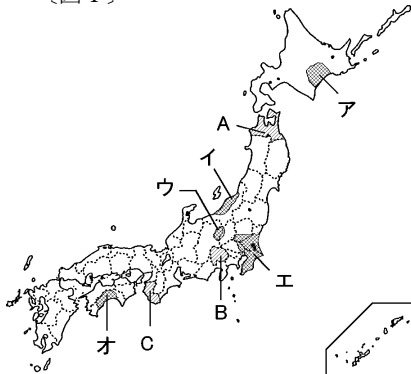
# 絶対暗記するプリント

日本の産業の特色 ① 農林水産業	実施 /	氏名
------------------	------	----

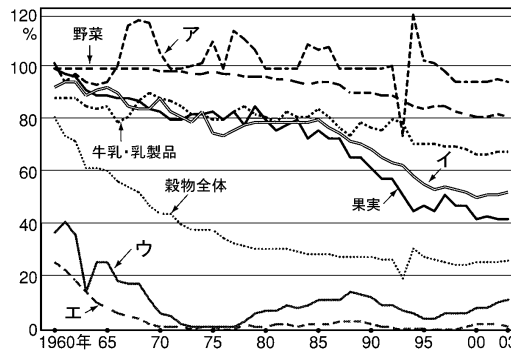
- ① 下の〔図Ⅰ〕のイの越後平野などで行われている農業は何ですか。 ( 稲作〔水田単作〕 )
- ② 温室やビニルハウスを利用した農業を何とといいますか。 ( 施設園芸農業 )
- ③ 宮崎平野などで行われている暖かい気候を利用した野菜作りを何とといいますか。 ( 促成栽培 )
- ④ ③と同じ農業がさかんな地域を地図の中ア～オから選び、その地名を答えなさい。 ( 高知平野 )
- ⑤ 大都市の周辺で行う、野菜や草花を栽培する農業を何とといいますか。 ( 近郊農業 )
- ⑥ 長野県や岩手県で行われている冷涼な気候を利用した農業を何とといいますか。 ( 高冷地農業 )
- ⑦ 冷涼な気候を利用した野菜の遅作りを何とといいますか。 ( 抑制栽培 )
- ⑧ 水はけの良い扇状地や丘陵地などではどんな農業を行っていますか。 ( 果樹栽培 )
- ⑨ 〔図Ⅰ〕のA～Cは、いずれも⑧がさかんな地域です。栽培されている代表的なものをそれぞれ答えなさい。

A( りんご ) B( ぶどう・もも ) C( みかん )

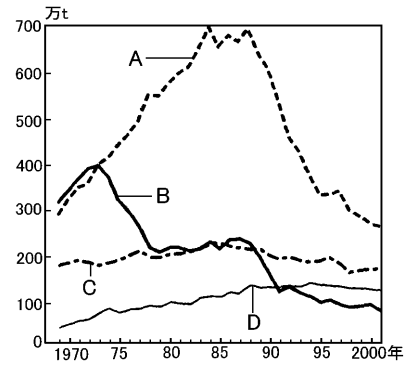
〔図Ⅰ〕



〔図Ⅱ〕

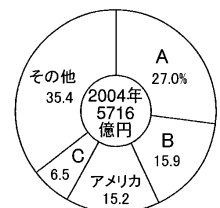


〔図Ⅲ〕



- ⑩ 上の〔図Ⅱ〕で表される食料の消費量に対する国内で生産する割合を何とといいますか。 ( 食料自給率 )
- ⑪ 日本では穀物全体の⑩の割合はおよそ何%ですか。 ( 30% )
- ⑫ 農産物の輸入が増加したのは1980年代から始まった何の影響が大きいですか。 ( 輸入自由化 )
- ⑬ 1988年に始まった⑫の例としてどんな農産物がありますか。 ( 牛肉・オレンジ )
- ⑭ ⑬の割合が20%以下である〔図Ⅱ〕のウ・エをそれぞれ答えなさい。 ウ( 小麦 ) エ( 大豆 )
- ⑮ 〔図Ⅱ〕に表されていない、ほぼすべてを輸入にたよっている穀物は何ですか。 ( とうもろこし )
- ⑯ 〔図Ⅲ〕のBは1970年台前半から漁獲高が減少した。この漁業を何とといいますか。 ( 遠洋漁業 )
- ⑰ ⑯の漁業が急に振るわなくなった原因は何ですか。 ( 200カイリ経済水域を宣言する国が増えたため )
- ⑱ 魚や貝を大きくなるまで人工的に育てて市場に出荷する漁業Dを何とといいますか。 ( 養殖漁業 )
- ⑲ ある程度育てた稚魚を自然の海や川に放流し、後にとる漁業を何とといいますか。 ( 栽培漁業 )
- ⑳ 右のグラフは日本の木材の輸入相手国をあらわしている。Aはユーラシア大陸に、Bは北アメリカ大陸にあるいずれも針葉樹林帯がひろがる広大な国です。それぞれの国名を答えなさい。 A( ロシア ) B( カナダ )

※ この2国は、統計年度によっては順序が反対の場合もある。



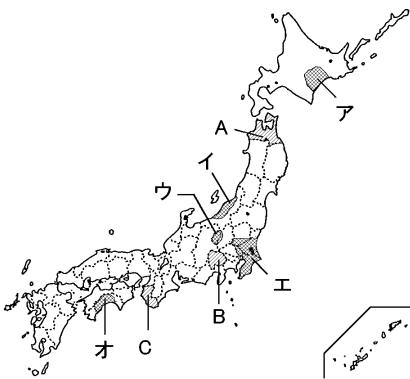
# 絶対暗記するプリント

日本の産業の特色 ① 農林水産業	実施 /	氏名
------------------	------	----

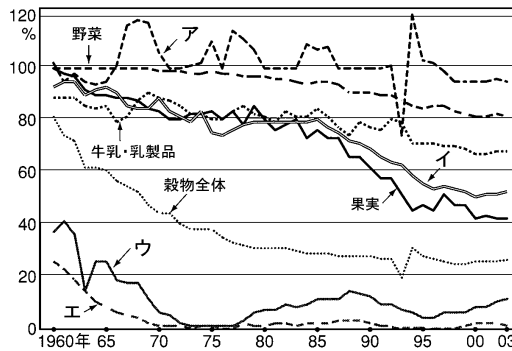
- ① 下の〔図Ⅰ〕のイの越後平野などで行われている農業は何ですか。 ( )
- ② 温室やビニルハウスを利用した農業を何とといいますか。 ( )
- ③ 宮崎平野などで行われている暖かい気候を利用した野菜作りを何とといいますか。 ( )
- ④ ③と同じ農業がさかんな地域を地図の中ア～オから選び、その地名を答えなさい。 ( )
- ⑤ 大都市の周辺で行う、野菜や草花を栽培する農業を何とといいますか。 ( )
- ⑥ 長野県や岩手県で行われている冷涼な気候を利用した農業を何とといいますか。 ( )
- ⑦ 冷涼な気候を利用した野菜の遅作りを何とといいますか。 ( )
- ⑧ 水はけの良い扇状地や丘陵地などではどんな農業を行っていますか。 ( )
- ⑨ 〔図Ⅰ〕のA～Cは、いずれも⑧がさかんな地域です。栽培されている代表的なものをそれぞれ答えなさい。

A( ) B( ) C( )

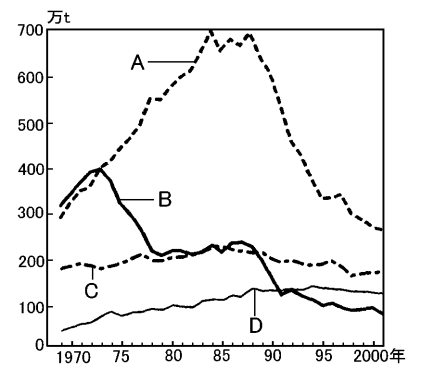
〔図Ⅰ〕



〔図Ⅱ〕



〔図Ⅲ〕



- ⑩ 上の〔図Ⅱ〕で表される食料の消費量に対する国内で生産する割合を何とといいますか。 ( )
- ⑪ 日本では穀物全体の⑩の割合はおよそ何%ですか。 ( )
- ⑫ 農産物の輸入が増加したのは1980年代から始まった何の影響が大きいですか。 ( )
- ⑬ 1988年に始まった⑫の例としてどんな農産物がありますか。 ( )
- ⑭ ⑬の割合が20%以下である〔図Ⅱ〕のウ・エをそれぞれ答えなさい。 ウ( ) エ( )
- ⑮ 〔図Ⅱ〕に表されていない、ほぼすべてを輸入にたよっている穀物は何ですか。 ( )
- ⑯ 〔図Ⅲ〕のBは1970年台前半から漁獲高が減少した。この漁業を何とといいますか。 ( )
- ⑰ ⑯の漁業が急に振るわなくなった原因は何ですか。 ( )
- ⑱ 魚や貝を大きくなるまで人工的に育てて市場に出荷する漁業Dを何とといいますか。 ( )
- ⑲ ある程度育てた稚魚を自然の海や川に放流し、後にとる漁業を何とといいますか。 ( )
- ⑳ 右のグラフは日本の木材の輸入相手国をあらわしている。Aはユーラシア大陸に、Bは北アメリカ大陸にあるいずれも針葉樹林帯がひろがる広大な国です。それぞれの国名を答えなさい。 A( ) B( )

