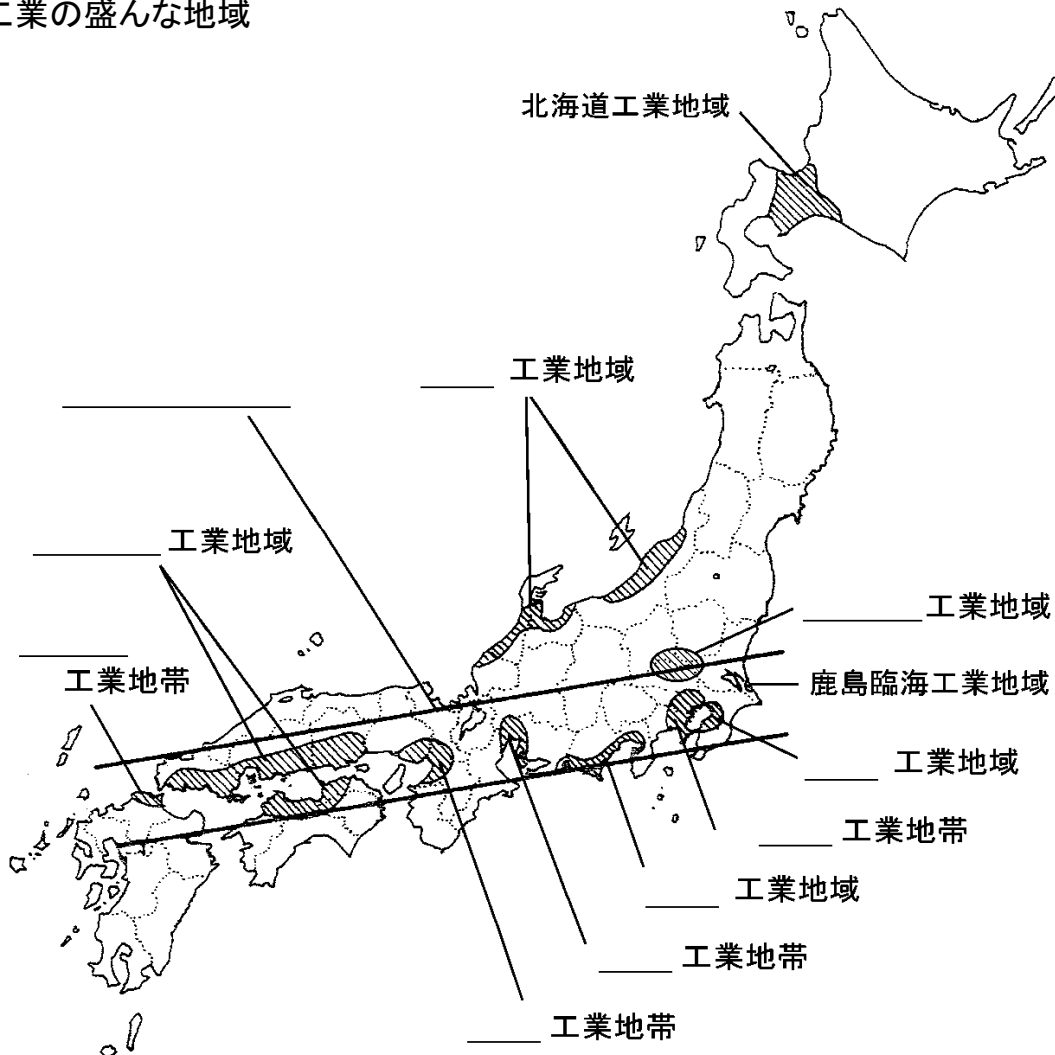


日本の工業

(1) 日本の工業

- ① 日本はかつて原料や燃料を輸入し、製品を輸出する_____貿易が中心であったため
_____工業地帯が発達した。→ _____ベルトの形成。
- ② 明治時代は_____工業地帯や_____工業地帯(八幡製鉄所)が、戦後は
_____工業地帯の工業生産額が多かったが、現在は_____工業地帯の生産額が最も多い。
- ③ 近年は自動車工業や_____工場など「組み立て型」の工場が内陸部につくられるようになった。地方自治体も空港や_____の周辺に_____を開発、工場誘致を行った。


(2) 工業の盛んな地域



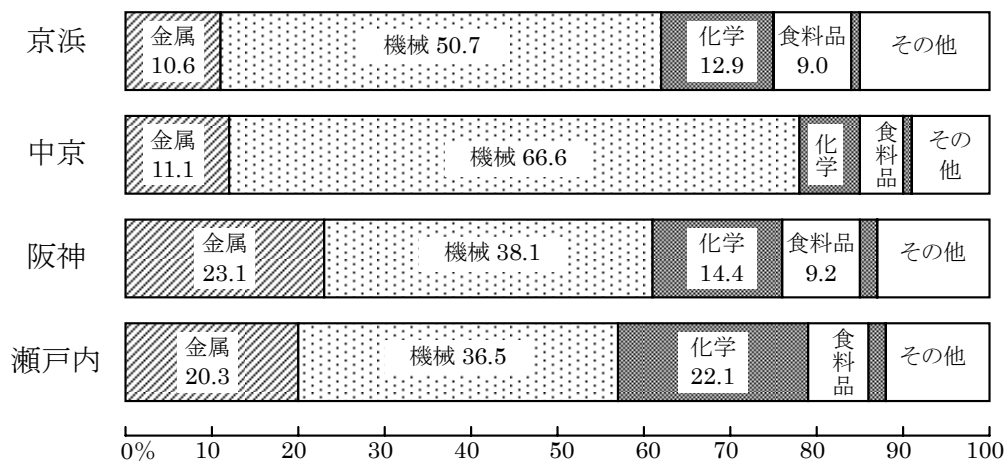
日本の工業

(3) 工業地帯別の生産額

① 工業地域別の工業出荷額の割合 (総額 337 兆円)



② 工業地域別の工業種類別出荷額の割合



(4) 貿易と今後の課題

① 貿易摩擦… 1980 年代にアメリカとの間で貿易収支の不均衡による_____がおこった。この問題を解消するため_____が進み、日本の企業の国際化が進んだ。→_____企業

② 新興工業国の台頭… _____・台湾・シンガポールなどの新興工業経済地域が工業製品の輸出を伸ばし、さらに_____や東南アジアなど人件費の安い地域に工場が進出、国際分業化が進んだ。

③ 産業の空洞化…国内企業の海外進出が進み、産業の空洞化が問題となってきた。


日本の工業

(5) 日本の貿易

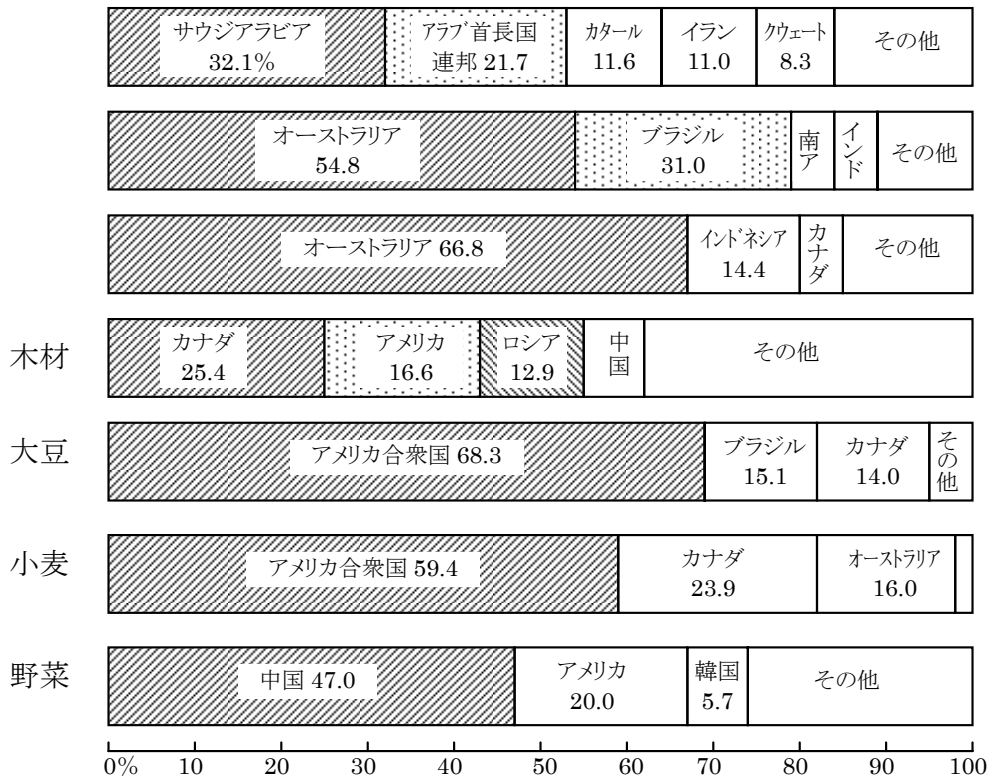
① 加工貿易… かつて日本は、_____を輸入し、_____を輸出する加工貿易が中心であった。また、日本は資源が少なく、燃料や原料を大部分外国からの輸入にたよっている。

② 国際分業化… 近年は新興工業国での生産が進み工業製品の輸入が多くなっている。

③ 貿易相手国



④ 主な輸入品の輸入相手国



日本の工業

⑤ 国別のおもな輸入品目

国名	輸入額 〔億円〕	輸入額に占める輸入品の割合
	114,360	機械類 37.9 <u>衣類 17.1</u> 玩具 3.3 金属製品 3.2
	55,124	機械類 28.6 <u>航空機 6.7</u> どうもろこし 6.2 科学光学機器 5.5
	27,197	<u>原油 89.2</u> 液化天然ガス 5.3 石油製品 4.3
オーストラリア	32,423	石炭 42.4 液化天然ガス 15.8 鉄鉱石 13.7 肉類 4.9
韓国	20,510	機械類 38.3 石油製品 9.9 鉄鋼 8.0 プラスチック 3.7
インドネシア	20,376	液化天然ガス 23.1 石炭 14.5 銅鉱 9.7 機械類 7.9
	15,634	機械類 28.0 <u>自動車 17.4</u> 医薬品 12.6 有機化合物 7.2
マレーシア	15,584	液化天然ガス 37.3 機械類 28.4 合板 4.1 パーム油 2.4
ブラジル	5,926	鉄鉱石 42.4 肉類 12.8 アルミニウム 6.1 コーヒー 5.7

