

絶対暗記するプリント

世界と日本の人口

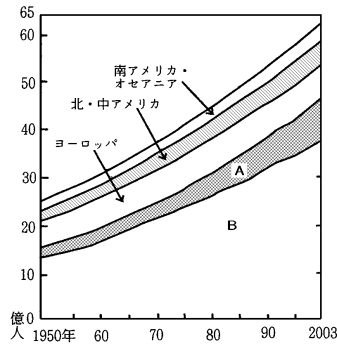
実施

／

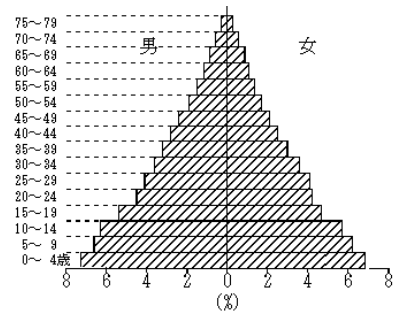
氏名

- ① 国連は 2011 年 10 月 31 日世界の総人口はおおよそ何億人を突破したと発表しましたか。 (70 億人)
- ② 下の地域別人口の推移の図で、人口が増加する割合が高い A の地域を答えなさい。 (アフリカ)
- ③ 下の地域別人口の推移の図で、最も人口の多い B の地域を答えなさい。 (アジア)

〔地域別人口の推移〕



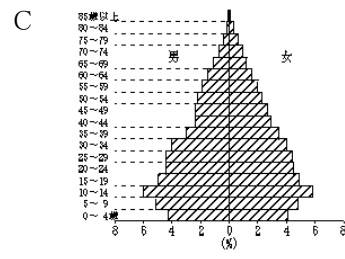
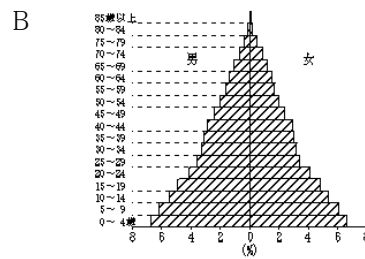
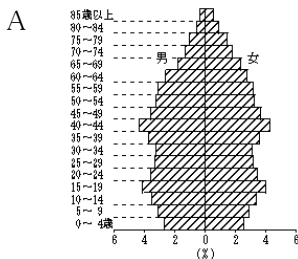
〔図 P〕



- ④ ②の国々で急激に人口が増加する現象を何といいますか。またその原因を答えなさい。 (人口爆発)

〔原因 感染症や衛生に関する知識が広まり、子どもの死亡率が大幅に下がったこと〕

- ⑤ ある国や地域でくらす人々の数を、その国や地域の面積で割ったものを何といいますか。 (人口密度)
- ⑥ ある国や地域の年齢別人口を表した図を何といいますか。 (人口ピラミッド)
- ⑦ ⑥のうち発展途上国に多い上の〔図 P〕の形を何といいますか。 (富士山型)
- ⑧ 先進国では⑦の形からどのように変化していきますか。 (つりがね型 → つぼ型)
- ⑨ 下の図は日本の人口の推移を表したものです。古い順に記号で答えなさい。 (B → C → A)



- ⑩ 医療技術が進み 65 歳以上の人口が増加する現象を何といいますか。 (高齢化)
- ⑪ 出生率が低下し、⑩とともに日本で問題になっている問題点を何といいますか。 (少子化)
- ⑫ 日本では都市への人口の集中がおこっています。この都市圏を何といいますか。 (三大都市圏)
- ⑬ ⑫の結果、交通渋滞などの都市問題が引きおこされる地域を何といいますか。 (過密地域)
- ⑭ 大都市の周辺に大規模な住宅地を開発していますが、これを何といいますか。 (ニュータウン)
- ⑮ 大都市の周辺にあって、大都市と結びつきの強い中小都市を何といいますか。 (衛星都市)
- ⑯ 福岡・広島・仙台など各地方の中心的な役割をしている都市を何といいますか。 (地方中枢都市)
- ⑰ 大都市の中心部で人口が減少し、周辺部で増加する現象を何といいますか。 (ドーナツ化現象)
- ⑱ 人口の減少と経済活動の衰退で、地域社会を維持できなくなる地域を何といいますか。 (過疎地域)
- ⑲ 高齢化が急速に進み 65 歳以上の人口が過半数をしめる集落を何といいますか。 (限界集落)
- ⑳ 観光事業をおこすなど、⑱の地域を活性化させようとする取り組みを何といいますか。 (町(村)おこし)

絶対暗記するプリント

世界と日本の人口

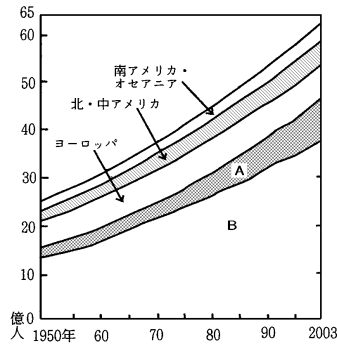
実施

／

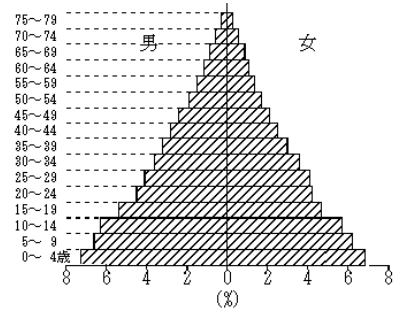
氏名

- ① 国連は 2011 年 10 月 31 日世界の総人口はおおよそ何億人を突破したと発表しましたか。 ()
- ② 下の地域別人口の推移の図で、人口が増加する割合が高い A の地域を答えなさい。 ()
- ③ 下の地域別人口の推移の図で、最も人口の多い B の地域を答えなさい。 ()

〔地域別人口の推移〕



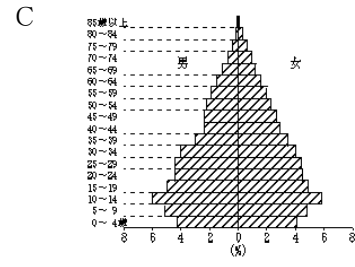
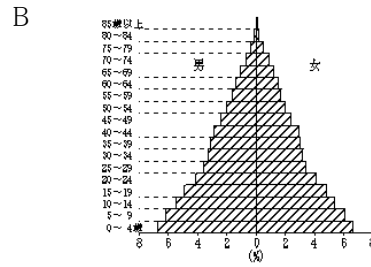
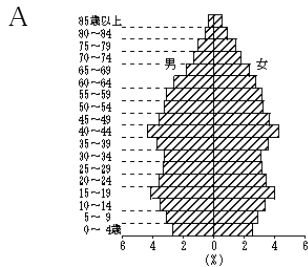
〔図 P〕



- ④ ②の国々で急激に人口が増加する現象を何といいますか。またその原因を答えなさい。 ()

〔原因〕

- ⑤ ある国や地域でくらす人々の数を、その国や地域の面積で割ったものを何といいますか。 ()
- ⑥ ある国や地域の年齢別人口を表した図を何といいますか。 ()
- ⑦ ⑥のうち発展途上国に多い上の〔図 P〕の形を何といいますか。 ()
- ⑧ 先進国では⑦の形からどのように変化していきますか。 (→)
- ⑨ 下の図は日本の人口の推移を表したものです。古い順に記号で答えなさい。 (→ →)



- ⑩ 医療技術が進み 65 歳以上の人口が増加する現象を何といいますか。 ()
- ⑪ 出生率が低下し、⑩とともに日本で問題になっている問題点を何といいますか。 ()
- ⑫ 日本では都市への人口の集中がおこっています。この都市圏を何といいますか。 ()
- ⑬ ⑫の結果、交通渋滞などの都市問題が引きおこされる地域を何といいますか。 ()
- ⑭ 大都市の周辺に大規模な住宅地を開発していますが、これを何といいますか。 ()
- ⑮ 大都市の周辺にあって、大都市と結びつきの強い中小都市を何といいますか。 ()
- ⑯ 福岡・広島・仙台など各地方の中心的な役割をしている都市を何といいますか。 ()
- ⑰ 大都市の中心部で人口が減少し、周辺部で増加する現象を何といいますか。 ()
- ⑱ 人口の減少と経済活動の衰退で、地域社会を維持できなくなる地域を何といいますか。 ()
- ⑲ 高齢化が急速に進み 65 歳以上の人口が過半数をしめる集落を何といいますか。 ()
- ⑳ 観光事業をおこすなど、⑱の地域を活性化させようとする取り組みを何といいますか。 ()