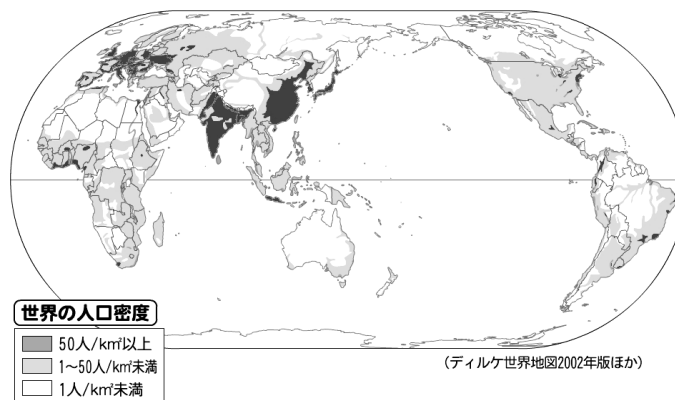
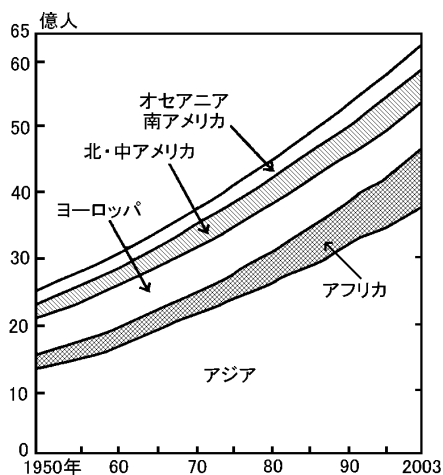


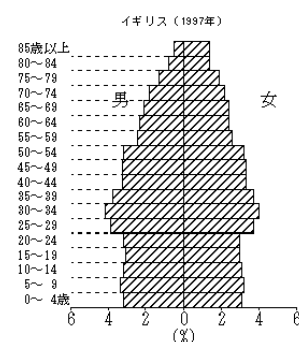
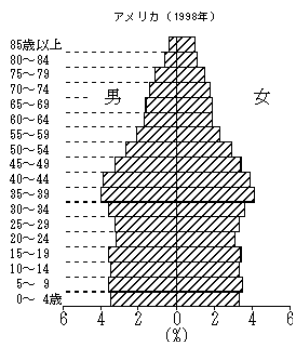
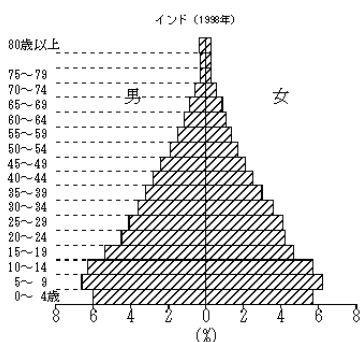
# 日本と世界の人口

## (1) 世界の人口

- ① 世界の人口…世界の総人口は1950年には約25億人であったが、2011年には\_\_\_\_億をこえたと推定される。また、その60%は\_\_\_\_\_に住んでいる。
- ② 人口密度…人口を面積でわったものを\_\_\_\_\_といい、アジアの稲作地帯や\_\_\_\_\_の都市部が高くなっている。



- ③ 人口爆発…アジア・アフリカなどの\_\_\_\_\_国では1960年代以降、衛生に対する知識が広まり、子どもの\_\_\_\_\_率が大幅に下がったため、急激に人口が増加した。このため、食糧生産が追いつかない地域や病院や学校が不足している地域が多く存在する。また、かんばつや戦争のため多くの\_\_\_\_\_も生まれた。
- ④ 人口構成…人口の年齢別の構成を表したグラフを\_\_\_\_\_という。一般的に発展途上国は「\_\_\_\_\_型」で、先進国は「\_\_\_\_\_型」から「\_\_\_\_\_型」へと変化している。

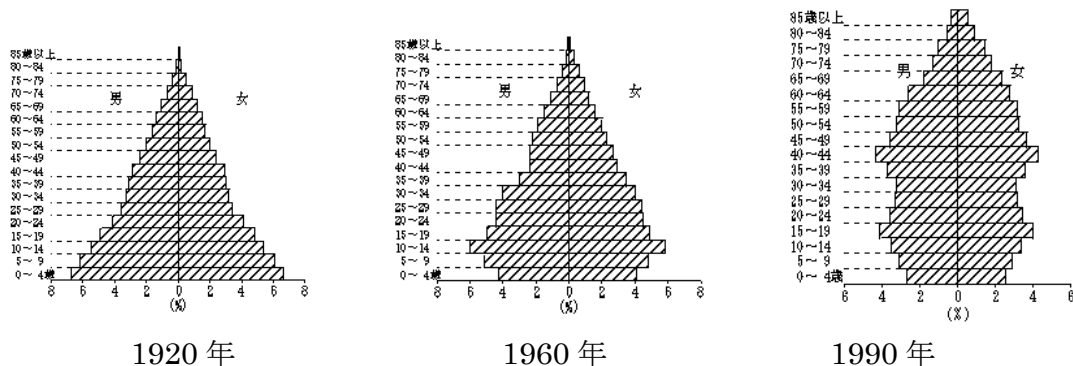


# 日本と世界の人口

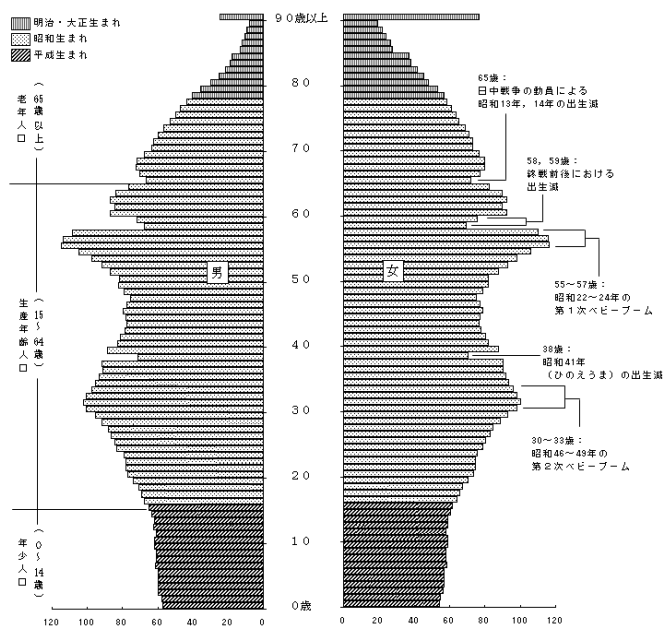
## (2) 日本の人口

- ① 日本の人口は約\_\_\_\_\_人で、世界の中でも人口の多い国である。また、国土面積のわりに人口が多いため\_\_\_\_\_の高さは、世界有数である。
- ② 日本の人口は 1940 年代後半のベビーブーム以降、経済成長や医療の発達もあり増加を続けていたが 1980 年代からは\_\_\_\_\_が急激に進み、これに\_\_\_\_\_が加わって、日本は\_\_\_\_\_社会に転じた。総人口もわずかに減少し始めた。
- ③ 人口構成…日本は戦前までは「\_\_\_\_\_型」であったが、戦後「\_\_\_\_\_型」から「\_\_\_\_\_型」へと変化した。戦争の影響や第1次・第2次\_\_\_\_\_の時期、\_\_\_\_\_化が進んでいるようすが読み取れる。(出生率は約\_\_\_\_\_人)

[日本の人口構成の推移]



[2004年の人口構成]

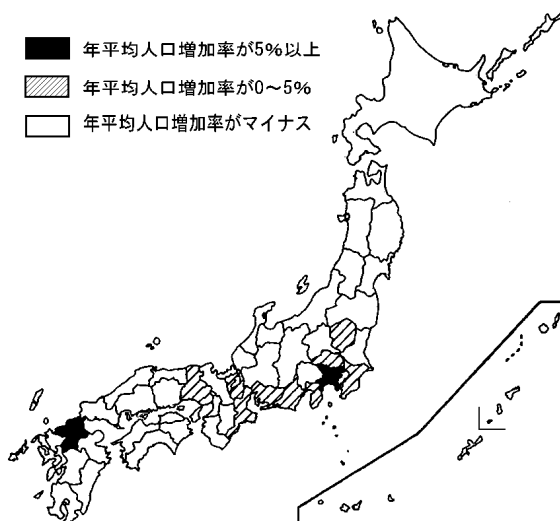


# 日本と世界の人口

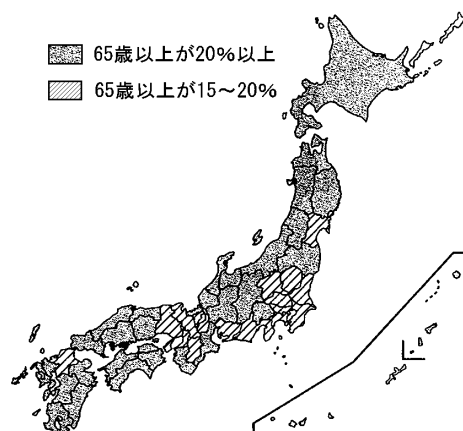
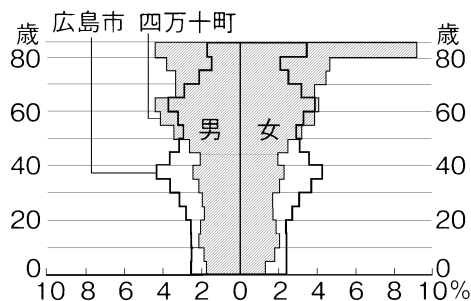
## ④ 人口のかたよりによる問題

(1) 過密… \_\_\_\_\_・\_\_\_\_\_・\_\_\_\_\_の三大都市圏への人口集中が進み、交通渋滞や大気汚染、ごみ処理の能力の不足など各種の問題がおこった。

また、地価の高騰もおこり、首都圏では\_\_\_\_\_化現象がみられるようになった時期もみられた。しかし、近年は都心の再開発が進み人口の減少に歯止めがかかってきた。

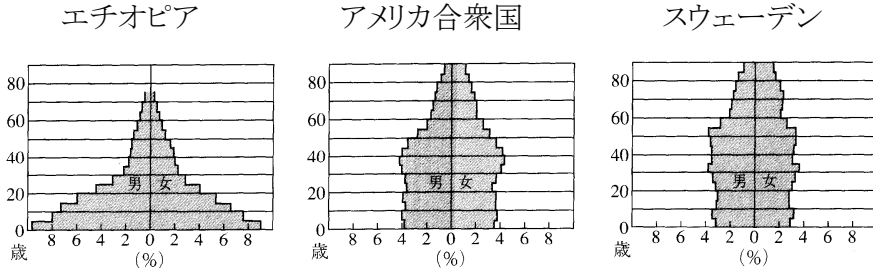


(2) 過疎…山間部や離島などでは若い人たちが都市部に流出し、人口の減少と高齢化が進み、その結果、経済活動がおとろえ、地域社会を維持する力が弱くなった\_\_\_\_\_地域がみられるようになってきた。なかでも 65 歳以上の人口が過半数をしめるような集落は\_\_\_\_\_集落と呼ばれ、公共交通機関や医療施設がなくなるなど深刻な問題をかかえている。そこで、近年は大都市にみられない豊かな自然や、伝統的な文化を活用した「\_\_\_\_\_」により、地域を再び活性化しようと取り組みを始めた地域も多くなっている。



# 日本と世界の人口

【1】 次のグラフを見て、あとの設問に答えなさい。



- (1) 上のような 5 歳ごとの人口構成を男女別にあらわしたグラフを何とよんでいるか。  
( )
- (2) 人口構成のグラフは、各国の人口の様子を反映した形を示すことが多い。エチオピアなどに見られる形は何とよばれているか。  
( )
- (3) 近年アジア、アフリカなどの発展途上国では、人口はどのように変化していますか。下のことばに続くように 25 字程度で説明しなさい。

衛生知識の広まりにより、( )

- (4) スウェーデンなどで見られる形は何とよばれているか。  
( )
- (5) 日本の人口構成のグラフの形は、人口増加の現象とともに、どのように移り変わってきたのか。下のア～ウを並びかえなさい。  
( → → )

ア つぼ型    イ 富士山型    ウ つりがね型

【2】 右の地図とグラフを見て、次の問いに答えなさい。

- (1) 右のグラフは、三大都市圏の全国の人口にしめる割合を示している、グラフ中の A～C にあたる都市圏を、地図中のア～ウの中から選び、その記号を答えなさい。

A( ) B( ) C( )

- (2) 次の文の( )①、②にあてはまる語句を答えなさい。  
①( ) ②( )

日本の農村漁村の生活は、( ① )化・高齢化が進んでいる。特に、( ② )を中心とした都市への人口流出が続いている。

