

得点		演習問題	実施日	月	日	氏名
				世界と日本の気候・自然災害 ③		

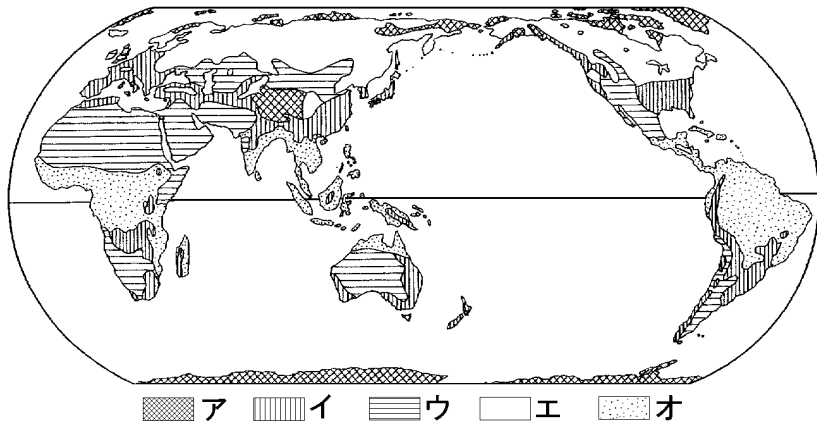
【1】 次の文を読んで、あとの問いに答えなさい。

地球の表面の^ア約3割は陸地で、山脈のつらな部分と、大陸に広がる大平原などからなっている。日本列島は^イアルプス・ヒマラヤ造山帯に属しているため、火山活動が活発で^ウ地震も多い。^A国土の中央を背骨のようにつらなる山地や丘陵地は、国土の^エ約4分の3をしめている。川は短くて流域面積がせまく、流れが急なため、^B山くずれや洪水が起こりやすい。日本で最も長い()を見ても、世界の大河に比べると、勾配は急で流れは速い。

- 文中の()にあてはまる川の名を答えなさい。
()
- 下線部ア～エから誤っているものを選び、記号で答えなさい。また、正しい語句も答えなさい。
記号() 語句()
- 下線部 A について、本州の中央部の飛騨・木曾・赤石山脈を合わせて何とよんでいますか。()
- 下線部 B について、これらの災害が起こりやすい原因の1つとして、山のように変わったことがある。あてはまる変化を簡単に説明しなさい。
()

【2】 世界の気候について、次の問いに答えなさい。

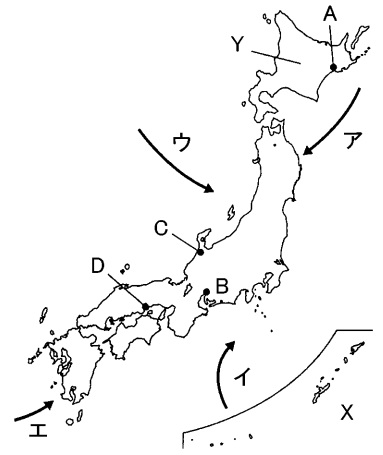
- 次の①～④の説明文にあてはまるものを、地図中のア～オからそれぞれ選び、記号で答えなさい。また、気候帯名も答えなさい。



- 雨をもたらす雲の帯である前線が1年中やってこないため、降水量が少なく、森林が育たない。
記号() ()
- 1年の多くを雪や氷におおわれ、短い夏にコケ類が育つほかは、樹木が生育できない。
記号() ()
- 1年を通して高温で、降水量も多いために植物の種類が多く、高い木や低い木が何層も重なる密林となっている。
記号() ()
- 冬は寒さがきびしいが、夏に気温が上がるので、降水量が豊富などころでは、針葉樹の森林が生育している。
記号() ()

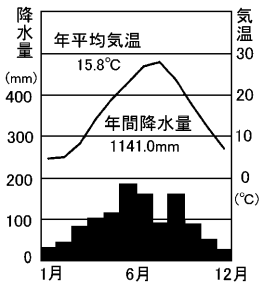
【3】 日本の気候について、次の問いに答えなさい。

- 日本の大部分が属する気候帯名を答えなさい。
()
- 日本の気候に大きな影響をあたえている夏と冬で風向きが逆になる風を何といいますか。また、冬にふく風向きを右の地図中のア～エから選び、記号で答えなさい。
()
記号()



- 日本とちがい西ヨーロッパでは、風向きがほぼ一定の風がふくために、降水量や気温の変化が少ない。この風を何といいますか。()
- 地図中の X の地域の気候は、1年じゅう気温が高く雨が多いことから、何とよばれていますか。()
- 地図中の Y の地域で最も多く見られる森林を次から選び、記号で答えなさい。
ア まつなどの針葉樹 イ ぶな・ならなどの落葉広葉樹
ウ しい・かしなどの常緑広葉樹(照葉樹)

- 右の気温と降水量のグラフは、地図中の A～D のいずれかの都市のものである。これについて、次の問いに答えなさい。



- あてはまる都市を地図中の A～D から選び、記号で答えなさい。
()
- グラフ中の6月と9月に降水量が多くなった要因を、それぞれ答えなさい。
6月() 9月()

【4】 自然災害について、次の問いに答えなさい。

- 1995年、神戸市を中心に地震が起こり、高速道路や鉄道、家屋が倒壊し、さらに火災が発生し、多くの人々が被害を受けた。この地震を何といいますか。()
- 2000年には北海道の有珠山や東京都の三宅島で、2011年には宮崎県の新燃岳である自然災害が起こり、住民が避難するできごとがあった。この自然災害は何ですか。()
- 2011年3月、宮城県太平洋沖の地震が原因で起こった自然災害で、東北地方の人々は大きな被害を受けた。この自然災害は何ですか。()
- 東北地方や北海道では、夏の低温と日照不足により、農作物が実らなくなる自然災害が発生しやすい。この自然災害は何ですか。()
- 瀬戸内海沿岸などでは、^{からつゆ}空梅雨や台風の少ないときに、水不足で農産物がかれることがある。この自然災害は何ですか。()

得点	演習問題〔解答〕	実施日	月	日	氏名
			世界と日本の気候・自然災害③		

【1】 次の文を読んで、あとの問いに答えなさい。

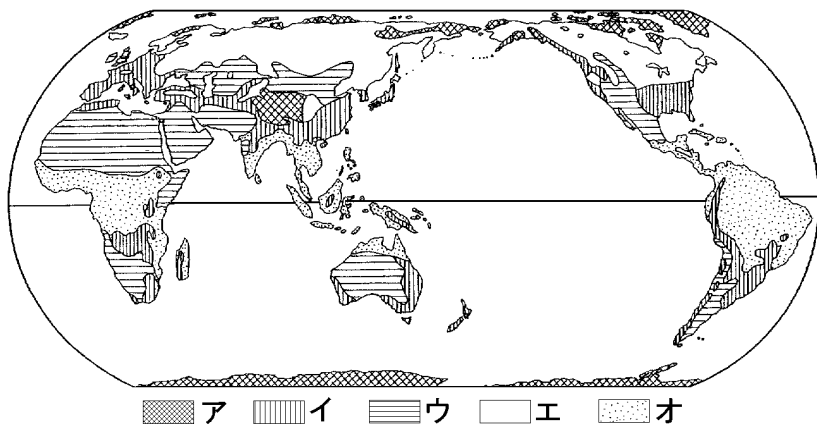
地球の表面の^ア約3割は陸地で、山脈のつらな部分と、大陸に広がる大平原などからなっている。日本列島は^イアルプス・ヒマラヤ造山帯に属しているため、火山活動が活発で^ウ地震も多い。^A国土の中央を背骨のようにつらなる山地や丘陵地は、国土の^エ約4分の3をしめている。川は短くて流域面積がせまく、流れが急なため、^B山くずれや洪水が起こりやすい。日本で最も長い()を見ても、世界の大河に比べると、勾配は急で流れは速い。

- 文中の()にあてはまる川の名を答えなさい。
(信濃川)
- 下線部ア～エから誤っているものを選び、記号で答えなさい。また、正しい語句も答えなさい。
記号(イ) 語句(環太平洋)
- 下線部 A について、本州の中央部の飛騨・木曾・赤石山脈を合わせて何とよんでいますか。(日本アルプス)
- 下線部 B について、これらの災害が起こりやすい原因の1つとして、山のようすが変わったことがある。あてはまる変化を簡単に説明しなさい。

〔 山をおおう森林が減少したこと 〕

【2】 世界の気候について、次の問いに答えなさい。

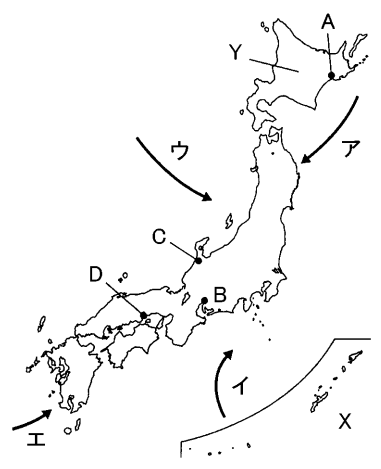
- 次の①～④の説明文にあてはまるものを、地図中のア～オからそれぞれ選び、記号で答えなさい。また、気候帯名も答えなさい。



- 雨をもたらす雲の帯である前線が1年中やってこないため、降水量が少なく、森林が育たない。
記号(ウ) (乾燥帯)
- 1年の多くを雪や氷におおわれ、短い夏にコケ類が育つほかは、樹木が生育できない。
記号(ア) (寒帯)
- 1年を通して高温で、降水量も多いために植物の種類が多く、高い木や低い木が何層も重なる密林となっている。
記号(オ) (熱帯)
- 冬は寒さがきびしいが、夏に気温が上がるので、降水量が豊富なところでは、針葉樹の森林が生育している。
記号(エ) (冷帯)

【3】 日本の気候について、次の問いに答えなさい。

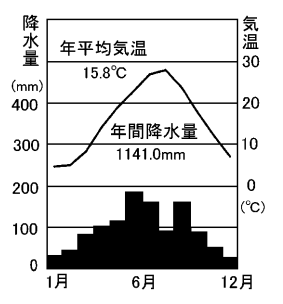
- 日本の大部分が属する気候帯名を答えなさい。
(温帯)
- 日本の気候に大きな影響をあたえている夏と冬で風向きが逆になる風を何といいますか。また、冬にふく風向きを右の地図中のア～エから選び、記号で答えなさい。
(モンスーン)
記号(ウ)



- 日本とちがい西ヨーロッパでは、風向きがほぼ一定の風がふくために、降水量や気温の変化が少ない。この風を何といいますか。(偏西風)
- 地図中のXの地域の気候は、1年じゅう気温が高く雨が多いことから、何とよばれていますか。(亜熱帯)
- 地図中のYの地域で最も多く見られる森林を次から選び、記号で答えなさい。(ア)

ア まつなどの針葉樹 イ ぶな・ならなどの落葉広葉樹
ウ しい・かしなどの常緑広葉樹(照葉樹)

- 右の気温と降水量のグラフは、地図中のA～Dのいずれかの都市のものである。これについて、次の問いに答えなさい。
① あてはまる都市を地図中のA～Dから選び、記号で答えなさい。(D)



- ② グラフ中の6月と9月に降水量が多くなった要因を、それぞれ答えなさい。
6月(梅雨) 9月(台風)

【4】 自然災害について、次の問いに答えなさい。

- 1995年、神戸市を中心に地震が起こり、高速道路や鉄道、家屋が倒壊し、さらに火災が発生し、多くの人々が被害を受けた。この地震を何とといいますか。(阪神淡路大震災)
- 2000年には北海道の有珠山や東京都の三宅島で、2011年には宮崎県の新燃岳である自然災害が起こり、住民が避難するできごとがあった。この自然災害は何ですか。(火山の噴火)
- 2011年3月、宮城県太平洋沖の地震が原因で起こった自然災害で、東北地方の人々は大きな被害を受けた。この自然災害は何ですか。(津波)
- 東北地方や北海道では、夏の低温と日照不足により、農作物が実らなくなる自然災害が発生しやすい。この自然災害は何ですか。(冷害)
- 瀬戸内海沿岸などでは、^{からつゆ}空梅雨や台風の少ないときに、水不足で農産物がかれることがある。この自然災害は何ですか。(干害)