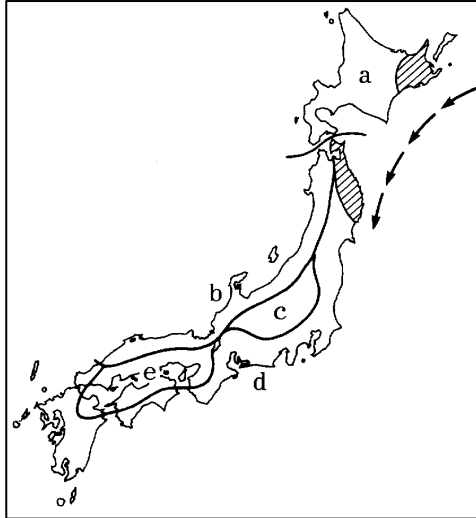


得点	演習問題			実施日	月 日	氏名
	単元名：日本の気候と自然災害 ①					

【1】下の地図・グラフを見て、次の問いに答えなさい。

(1) 日本列島の本州、四国、九州は、世界の気候帯から見たとき、何という気候帯にふくまれていますか。()



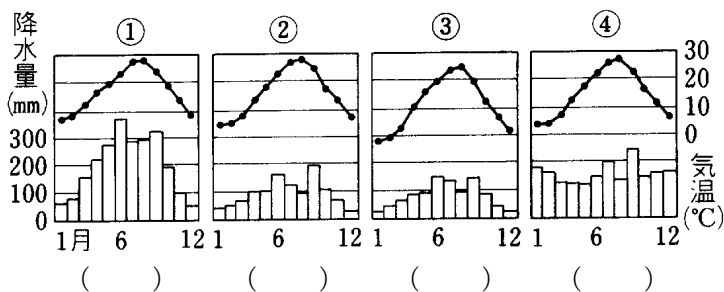
(2) 日本列島にふきつける季節風について、次のものは四季のうちどのいずれにあてはまりますか。

- ① 南東の季節風 () ② 北西の季節風 ()

(3) 次の各文は、地図中の a~e のどの地域について説明したものか、記号で答えなさい。

- ① 夏はフェーン現象などにより気温が上昇するが、冬はやや寒さがきびしく、大雪が降る地域もある。()
- ② 年間を通して降水量は少なく、夏と冬の気温の差も小さい。()
- ③ 年間を通して降水量は少なく、夏と冬、昼と夜との気温の差が大きい。()
- ④ 夏は涼しく、冬はとくに低温になる、また、梅雨の影響をほとんど受けない。()
- ⑤ 夏は、高温で多湿、冬は乾燥する、台風や梅雨ときには多くの雨が降る。()

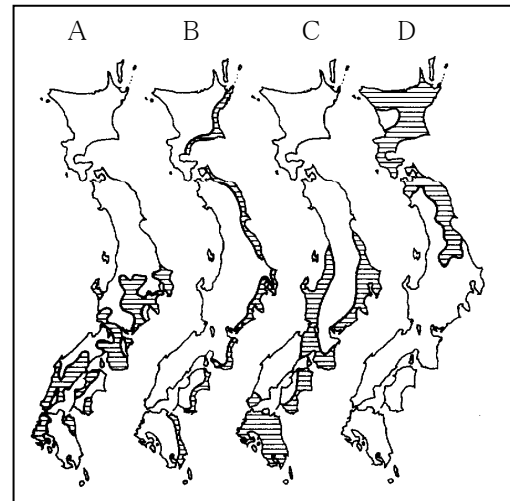
(4) 下の雨温図は、地図中の a~e のどの地域のものでしょうか。記号で答えなさい。



(5) 地図中の矢印の海流について、次の問いに答えなさい。

- ① この海流を何といいますか。()
- ② この海流の影響を受けて、 の地方ではどのような自然災害を受けやすいですか。()

【2】下の地図を見て、次の問いに答えなさい。



(1) 地図の A~D は、日本でおこるさまざまな自然災害の発生地域をあらわしている。次のことがらは、どの地域でおこりますか。地図中の記号で答えなさい。

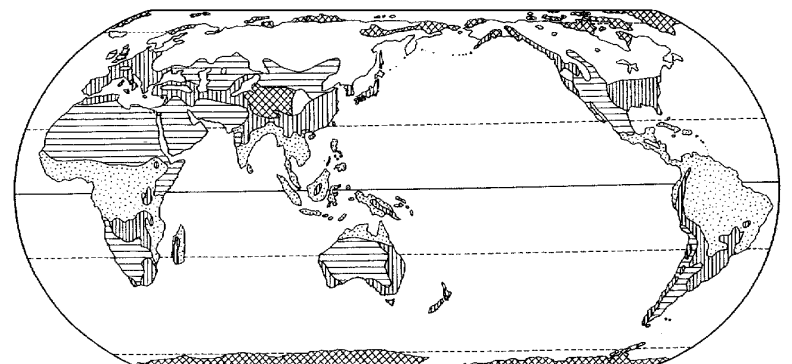
- ① 海岸地方は、津波の危険が多い。()
- ② 夏から秋にかけて、台風の被害を受けやすい。()
- ③ ひでりによる被害を受けやすい。()
- ④ 夏に、冷害にみまわれやすい。()

(2) ①津波、②暴風雨、③ひでりの原因となるものには、どのようなものが考えられますか。次から選び、記号で答えなさい。

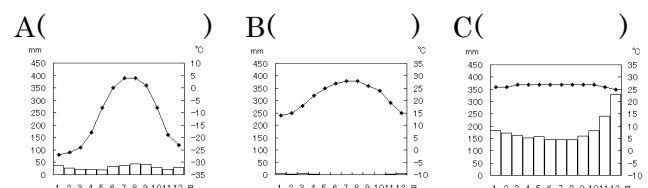
- ①() ②() ③()

ア からつゆ	イ 熱帯性の低気圧
ウ 大雪	エ 海底地震

【3】下の地図の①~⑤の気候帯をそれぞれ何といいいますか。また下の雨温図 A~C はそれぞれ①~⑤のどの気候帯のものでしょうか。それぞれ番号で答えなさい。



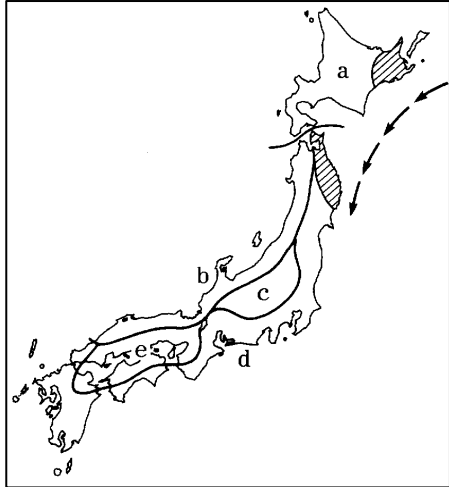
- ① () ② ()
- ③ () ④ ()
- ⑤ ()



得点		演習問題〔解答〕	実施日	月 日	氏名

【1】下の地図・グラフを見て、次の問いに答えなさい。

- (1) 日本列島の本州、四国、九州は、世界の気候帯から見たとき、何という気候帯にふくまれていますか。(温帯)



- (2) 日本列島にふきつける季節風について、次のものは四季のうちどのいずれにあてはまりますか。

① 南東の季節風 (夏) ② 北西の季節風 (冬)

- (3) 次の各文は、地図中の a~e のどの地域について説明したものか、記号で答えなさい。

① 夏はフェーン現象などにより気温が上昇するが、冬はやや寒さがきびしく、大雪が降る地域もある。(b)

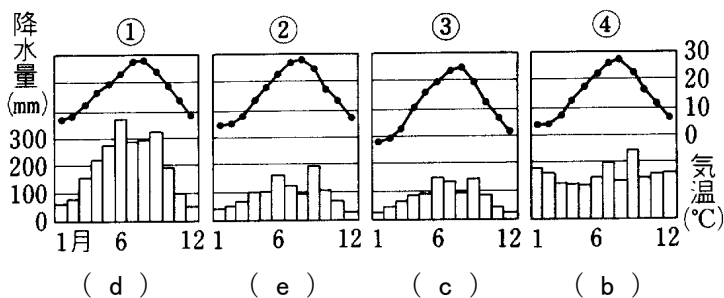
② 年間を通して降水量は少なく、夏と冬の気温の差も小さい。(e)

③ 年間を通して降水量は少なく、夏と冬、昼と夜との気温の差が大きい。(c)

④ 夏は涼しく、冬はとくに低温になる、また、梅雨の影響をほとんど受けない。(a)

⑤ 夏は、高温で多湿、冬は乾燥する、台風や梅雨ときには多くの雨が降る。(d)

- (4) 下の雨温図は、地図中の a~e のどの地域のものでしょうか。記号で答えなさい。

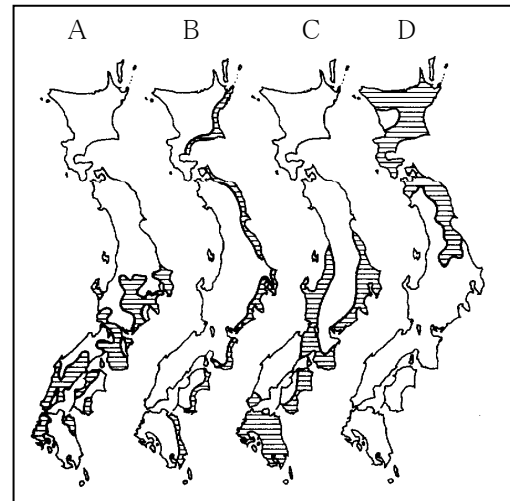


- (5) 地図中の矢印の海流について、次の問いに答えなさい。

① この海流を何といいますか。(千島海流)

② この海流の影響を受けて、 の地方ではどのような自然災害を受けやすいですか。(冷害)

【2】下の地図を見て、次の問いに答えなさい。



- (1) 地図の A~D は、日本でおこるさまざまな自然災害の発生地帯をあらわしている。次のことからは、どの地域でおこりますか。地図中の記号で答えなさい。

① 海岸地方は、津波の危険が多い。(B)

② 夏から秋にかけて、台風の被害を受けやすい。(C)

③ ひでりによる被害を受けやすい。(A)

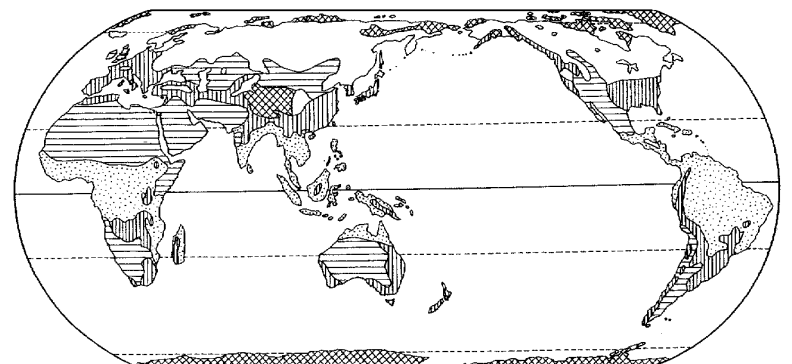
④ 夏に、冷害にみまわれやすい。(D)

- (2) ①津波、②暴風雨、③ひでりの原因となるものには、どのようなものが考えられますか。次から選び、記号で答えなさい。

①(エ) ②(イ) ③(ア)

ア からつゆ イ 熱帯性の低気圧
ウ 大雪 エ 海底地震

- 【3】下の地図の①~⑤の気候帯をそれぞれ何といいいますか。また下の雨温図 A~C はそれぞれ①~⑤のどの気候帯のものでしょうか。それぞれ番号で答えなさい。



① (熱帯) ② (温帯)

③ (乾燥帯) ④ (寒帯)

⑤ (冷帯)

A(④) B(③) C(①)

