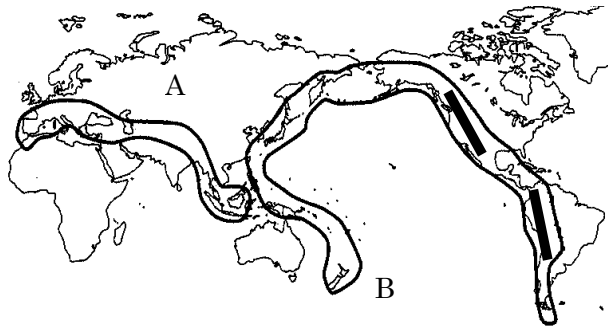


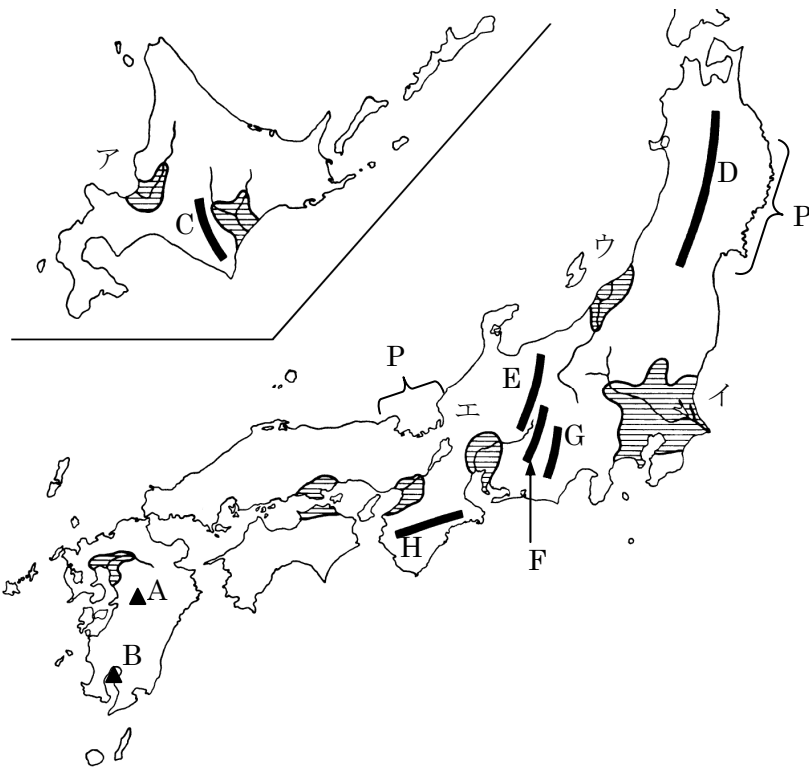
得点		演習問題	実施日	月 日	氏名

【1】下の図は造山帯を表しています。



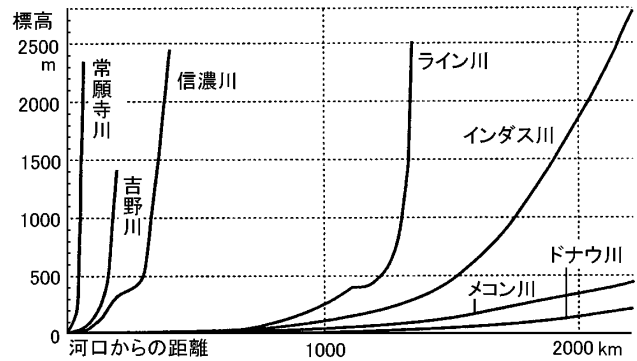
- ① 造山帯 A・B をそれぞれ何といますか。
 A() 造山帯)
 B() 造山帯)
- ② B の造山帯に含まれる山脈のうち、北アメリカ大陸、南アメリカ大陸にある山脈をそれぞれ答えなさい。
 北アメリカ() 山脈)
 南アメリカ() 山脈)

【2】下の日本地図について次の問いに答えなさい。



- ① C～H の山脈・山地をそれぞれ答えなさい。
 C() 山脈) D() 山脈) E() 山脈)
 F() 山脈) G() 山脈) H() 山地)
- ② E～G の山脈はまとめて何とよばれていますか。
 ()
- ③ 地図中の A・B の▲は代表的な火山です。それぞれ名前を答えなさい。
 (A) (B)

④ 日本の河川は外国と比較をしてどのような特徴がありますか。下の資料を見て、簡単に答えなさい。



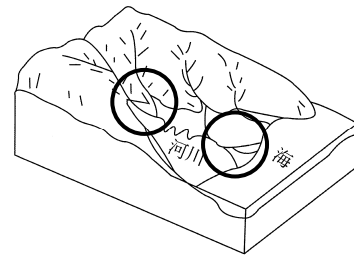
()

⑤ ア～エの平野とそこを流れている河川をそれぞれ答えなさい。

- ア() 平野・) 川) イ() 平野・) 川)
 ウ() 平野・) 川) エ() 平野・) 川)

⑥ 下の図の○印のように河川が山間部から平地に出たとき、また海に流れ込むときにできる地形をそれぞれ何といますか。また、それぞれの地形を表した地形図を下からそれぞれ選び記号で答えなさい。

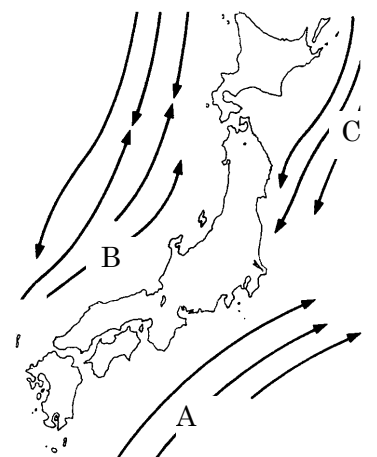
- () 地形図()
 () 地形図()



⑦ 地図中に表した P のような出入りの多い複雑な海岸を何といますか。
 ()

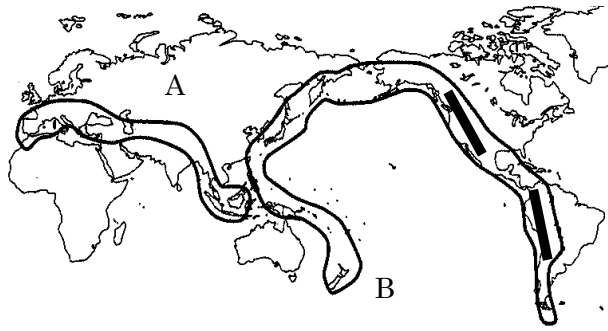
⑧ 右の図の日本の南岸を北上する暖流 A・B と東岸を南下する寒流 C をそれぞれ何といますか。

- 暖流 A()
 暖流 B()
 寒流 C()



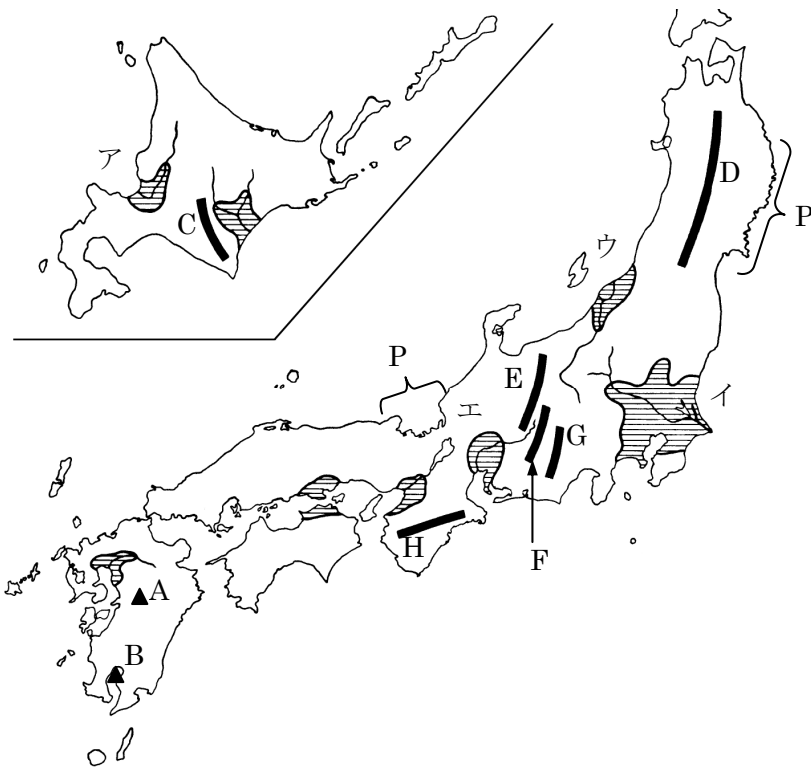
得点	演習問題〔解答〕	世界と日本の自然 ①	実施日	月 日	氏名

【1】下の図は造山帯を表しています。



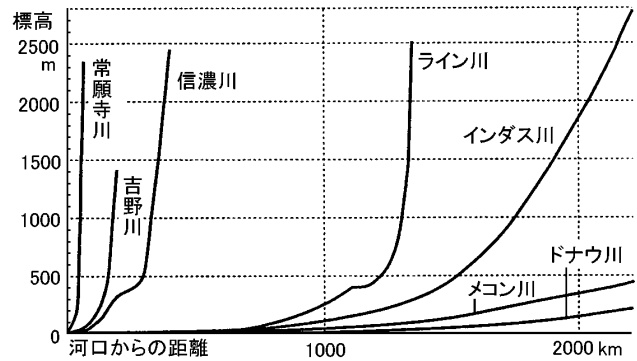
- ① 造山帯 A・B をそれぞれ何といますか。
 A(アルプス・ヒマラヤ 造山帯)
 B(環太平洋 造山帯)
- ② B の造山帯に含まれる山脈のうち、北アメリカ大陸、南アメリカ大陸にある山脈をそれぞれ答えなさい。
 北アメリカ(ロッキー 山脈)
 南アメリカ(アンデス 山脈)

【2】下の日本地図について次の問いに答えなさい。



- ① C～H の山脈・山地をそれぞれ答えなさい。
 C(日高 山脈) D(奥羽 山脈) E(飛騨 山脈)
 F(木曾 山脈) G(赤石 山脈) H(紀伊 山地)
- ② E～G の山脈はまとめて何とよばれていますか。
 (日本アルプス)
- ③ 地図中のA・Bの▲は代表的な火山です。それぞれ名前を答えなさい。
 (A 阿蘇山 B 桜島)

④ 日本の河川は外国と比較をしてどのような特徴がありますか。下の資料を見て、簡単に答えなさい。



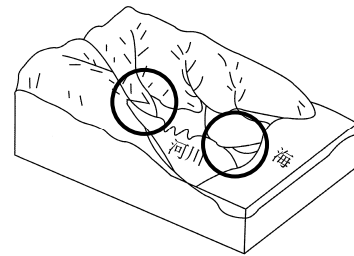
〔 短くて急である。 〕

⑤ ア～エの平野とそこを流れている河川をそれぞれ答えなさい。

- ア(石狩 平野・石狩 川) イ(関東 平野・利根 川)
 ウ(越後 平野・信濃 川) エ(濃尾 平野・木曾 川)

⑥ 下の図の○印のように河川が山間部から平地に出たとき、また海に流れ込むときにできる地形をそれぞれ何といますか。また、それぞれの地形を表した地形図を下からそれぞれ選び記号で答えなさい。

- (扇状地) 地形図(B)
 (三角州) 地形図(A)



⑦ 地図中に表したPのような出入りの多い複雑な海岸を何といますか。
 (リアス式海岸)

⑧ 右の図の日本の南岸を北上する暖流 A・B と東岸を南下する寒流 C をそれぞれ何といますか。

- 暖流 A(黒潮[日本海流])
 暖流 B(対馬海流)
 寒流 C(親潮[千島海流])

