

# 絶対暗記するプリント

日本の自然 ①

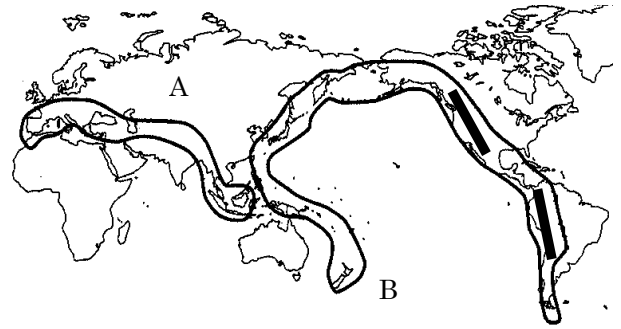
実施 /

氏名

① 右の図の造山帯 A・B をそれぞれ何といいますか。

A ( アルプス・ヒマラヤ 造山帯 )

B ( 環太平洋 造山帯 )



② B の造山帯に含まれる山脈のうち、北アメリカ大陸、南アメリカ大陸にある山脈をそれぞれ答えなさい。

北アメリカ ( ロッキー 山脈 )

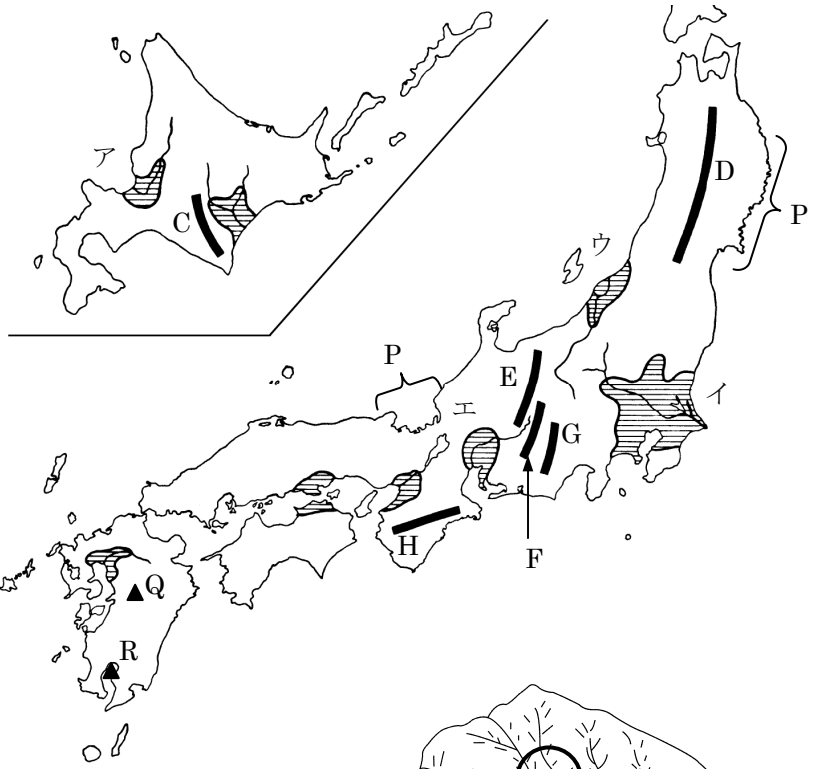
南アメリカ ( アンデス 山脈 )

③ 右の日本地図で C～H の山脈・山地をそれぞれ答えなさい。

C ( 日高 山脈 ) D ( 奥羽 山脈 )

E ( 飛騨 山脈 ) F ( 木曾 山脈 )

G ( 赤石 山脈 ) H ( 紀伊 山地 )



④ E～G の山脈はまとめて何とよばれていますか。  
( 日本アルプス )

⑤ 右の日本地図でア～エの平野とそこを流れている河川をそれぞれ答えなさい。

ア ( 石狩 平野・石狩 川 )

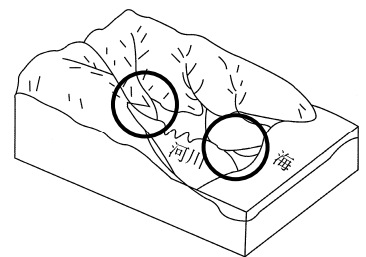
イ ( 関東 平野・利根 川 )

ウ ( 越後 平野・信濃 川 )

エ ( 濃尾 平野・木曾 川 )

⑥ 日本の河川は外国と比較してどのような特徴がありますか。  
( 短くて急 )

⑦ 右の図の○印のように河川が山間部から平地に出たとき、また海に流れ込むときにできる地形をそれぞれ何といいますか。  
( 扇状地 ) ( 三角州 )



⑧ 地図中に表した P のような出入りの多い複雑な海岸を何といいますか。  
( リアス式海岸 )

⑨ 東シナ海に広がる深さ 200m までの浅い海底を何といいますか。  
( 大陸棚 )

⑩ 日本の南岸を北上する暖流と東岸を南下する寒流をそれぞれ何といいますか。  
暖流 ( 日本海流 [ 黒潮 ] ) 寒流 ( 千島海流 [ 親潮 ] )

⑪ 地図中の Q・R の▲は代表的な火山です。それぞれ名前を答えなさい。  
( Q 阿蘇山 R 桜島 )

# 確認テスト

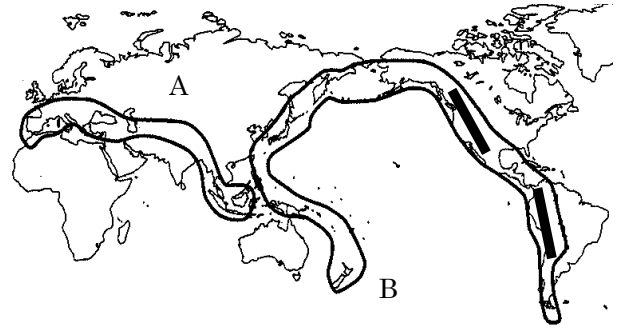
日本の自然 ①

実施 /

氏名

① 右の図の造山帯 A・B をそれぞれ何とといいますか。

A( ) 造山帯  
B( ) 造山帯

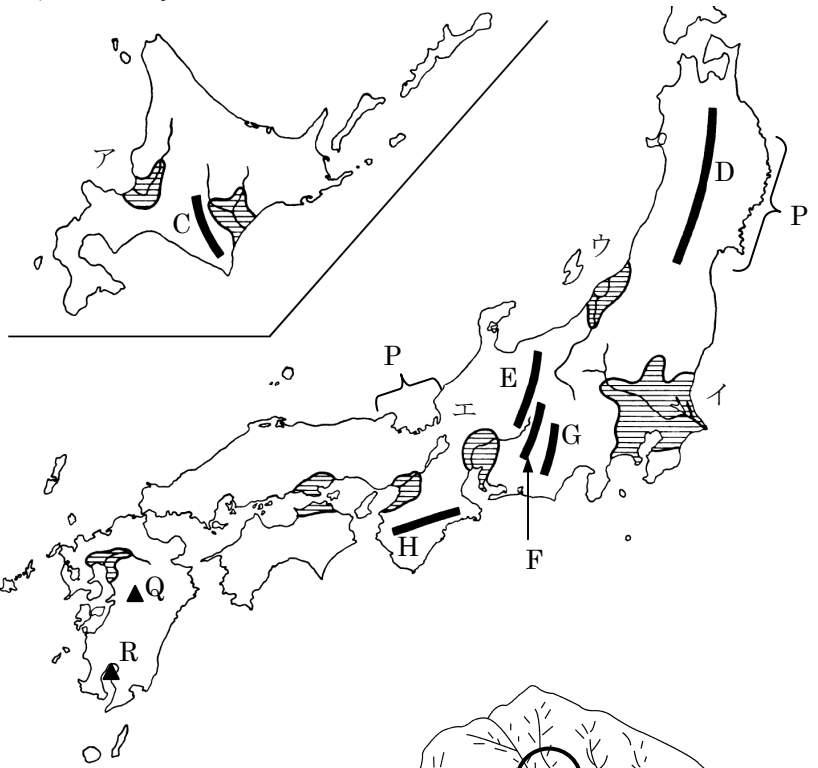


② B の造山帯に含まれる山脈のうち、北アメリカ大陸、南アメリカ大陸にある山脈をそれぞれ答えなさい。

北アメリカ( ) 山脈  
南アメリカ( ) 山脈

③ 右の日本地図で C～H の山脈・山地をそれぞれ答えなさい。

C( ) 山脈 D( ) 山脈  
E( ) 山脈 F( ) 山脈  
G( ) 山脈 H( ) 山地



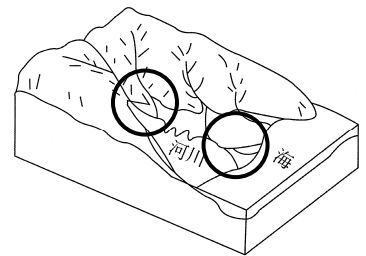
④ E～G の山脈はまとめて何とよばれていますか。  
( )

⑤ 右の日本地図でア～エの平野とそこを流れている河川をそれぞれ答えなさい。

ア( ) 平野・( ) 川  
イ( ) 平野・( ) 川  
ウ( ) 平野・( ) 川  
エ( ) 平野・( ) 川

⑥ 日本の河川は外国と比較をしてどのような特徴がありますか。( )

⑦ 右の図の○印のように河川が山間部から平地に出たとき、また海に流れ込むときにできる地形をそれぞれ何とといいますか。( ) ( )



⑧ 地図中に表した P のような出入りの多い複雑な海岸を何とといいますか。( )

⑨ 東シナ海に広がる深さ 200m までの浅い海底を何とといいますか。( )

⑩ 日本の南岸を北上する暖流と東岸を南下する寒流をそれぞれ何とといいますか。暖流( )  
寒流( )

⑪ 地図中の Q・R の▲は代表的な火山です。それぞれ名前を答えなさい。(Q ) (R )