

絶対暗記するプリント

日本の国土	実施 /	氏名
-------	------	----

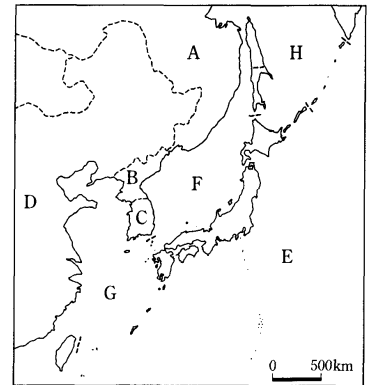
① 日本は何大陸の東に位置する島国ですか。 (ユーラシア大陸)

② 日本の国土面積は、約何万 km²ですか。 (38万 km²)

③ 右の地図のA～Dの国名を答えなさい。
 A(ロシア連邦) B(朝鮮民主主義人民共和国)
 C(大韓民国) D(中華人民共和国)

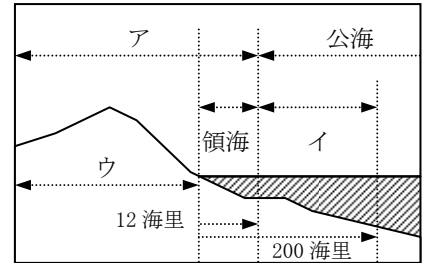
④ 右の地図のE～Hの海洋名を答えなさい。

E(太平洋) F(日本海) G(東シナ海) H(オホーツク海)



⑤ とんりの国である大韓民国との国境は、どうなっていますか。正しい文を次から1つ選び、記号で答えなさい。
 (エ)

- (ア) 対馬という島の上に国境線が引かれている。
- (イ) 韓国の海岸線に国境線が引かれている。
- (ウ) 対馬から12海里の海の上に国境がある。
- (エ) 対馬と韓国の海岸との真ん中に国境がある。



⑥ 右の図中のア～ウに適切な語を入れなさい。

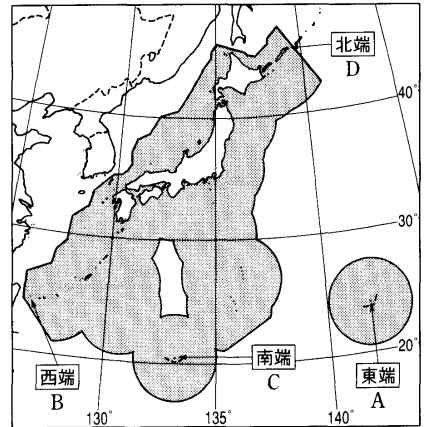
ア(領空) イ(経済水域) ウ(領土)

⑦ 日本の南端にある沖ノ島島では、波の浸食から島を守るために多額の費用をかけて護岸工事が行われたが、それはなぜですか。
 (水没してしまうと経済水域が大きく減少してしまうから)

⑧ 右の地図中のA～Dは、日本の領土の東西南北の各端に位置する島である。それぞれ島名を答えなさい。

A(南鳥島) B(与那国島) C(沖ノ島) D(択捉島)

⑨ 地図中の■の部分、海岸から200海里の水域である。この水域のことを何といいますか。
 (経済水域)



⑩ この水域内での日本の権利とはいえない文を次から1つ選び、記号で答えなさい。
 (エ)

- ア. 魚は日本のものだ。
- イ. かにや貝は日本のものだ。
- ウ. 海底にある鉱産資源は日本のものだ。
- エ. 外国の船は自由に通ってはいけない。

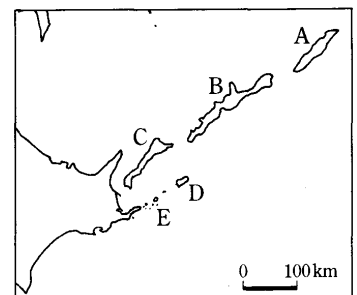
⑪ 北方領土に含まれる島を、地図中のA～Eから選びなさい。

(B・C・D・E)

⑫ ⑪を占領している国はどこですか。

(ロシア連邦)

⑬ 沖縄島の西の(A)諸島をめぐって中国と、また、隠岐諸島の北西の(B)をめぐって韓国と、それぞれ領土問題がおきている。A・Bにあてはまる地名をそれぞれ答えなさい。
 A(尖閣列島) B(竹島)



確認テスト

日本の国土	実施 /	氏名
-------	------	----

① 日本は何大陸の東に位置する島国ですか。 ()

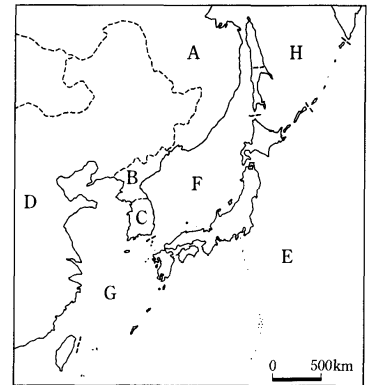
② 日本の国土面積は、約何万 km²ですか。 () km²

③ 右の地図のA～Dの国名を答えなさい。

A() B()
C() D()

④ 右の地図のE～Hの海洋名を答えなさい。

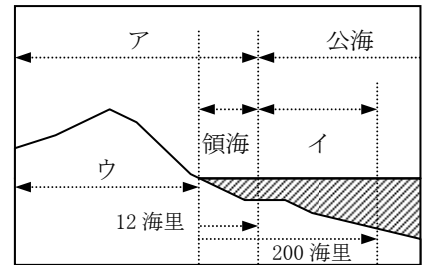
E() F() G() H()



⑤ とんりの国である大韓民国との国境は、どうなっていますか。正しい文を次から1つ選び、記号で答えなさい。

()

- (ア) 対馬という島の上に国境線が引かれている。
- (イ) 韓国の海岸線に国境線が引かれている。
- (ウ) 対馬から12海里の海の上に国境がある。
- (エ) 対馬と韓国の海岸との真ん中に国境がある。



⑥ 右の図中のア～ウに適切な語を入れなさい。

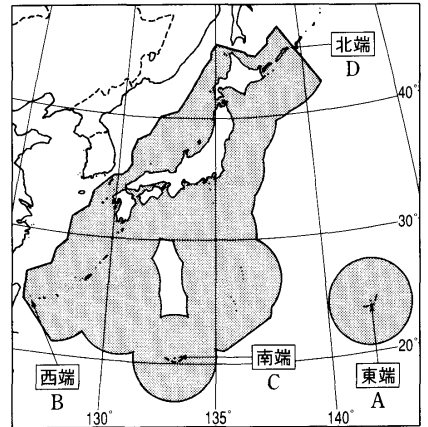
ア() イ() ウ()

⑦ 日本の南端にある沖ノ島では、波の浸食から島を守るために多額の費用をかけて護岸工事が行われたが、それはなぜですか。

()

⑧ 右の地図中のA～Dは、日本の領土の東西南北の各端に位置する島である。それぞれ島名を答えなさい。

A() B() C() D()



⑨ 地図中の■の部分、海岸から200海里の水域である。この水域のことを何といいますか。

()

⑩ この水域内での日本の権利とはいえない文を次から1つ選び、記号で答えなさい。 ()

- ア. 魚は日本のものだ。
- イ. かにや貝は日本のものだ。
- ウ. 海底にある鉱産資源は日本のものだ。
- エ. 外国の船は自由に通ってはいけない。

⑪ 北方領土に含まれる島を、地図中のA～Eから選びなさい。

()

⑫ ⑪を占領している国はどこですか。

()

⑬ 沖縄島の西の(A)諸島をめぐって中国と、また、隠岐諸島の北西の(B)をめぐって韓国と、それぞれ領土問題がおきている。A・Bにあてはまる地名をそれぞれ答えなさい。

A() B()

