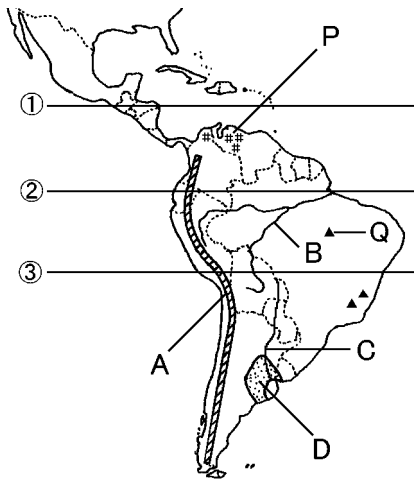


得点	演習問題			実施日	月 日	氏名
	南アメリカの特色 ①					

【1】下の地図を見て、次の問いに答えなさい。



- (1) 地図中で赤道を表す緯線は①～③のどれですか。()
- (2) 地図中の A の山脈名を答えなさい。()
- (3) 地図中の B・C の河川名をそれぞれ答えなさい。
B() C()
- (4) B の川の流域に広がる森林を何といいますか。()
- (5) (4)の森林で行われている、木を切りはらって畑をつくり、それを焼いてできた灰を肥料にして活用する農業を何といいますか。()
- (6) B の川の流域の北側にある高地、南側にある高原をそれぞれ何といいますか。
() 高地() 高原
- (7) C の河川の流域に広がる草原を何といいますか。()
- (8) (9)の地域では牧畜や()の栽培がさかんである。()にあてはまる語句を答えなさい。()
- (10) 地図中の P・Q はそれぞれ何という地下資源の産地を表していますか。 P() Q()
- (11) 地図中に示した鉱産資源以外に、近年注目されている希少金属などの地下資源も豊富で、各国は開発と工業化に力を入れている。この希少金属をカタカナで何といいますか。()

【2】下の地図を見て次の問いに答えなさい。

- (1) 地図中の A～E にあてはまる国名を次の①～⑧から1つずつ選び記号で答えなさい。
A() B()
C() D()
E()



- | | |
|----------|--------|
| ① アルゼンチン | ② ブラジル |
| ③ ベネズエラ | ④ チリ |
| ⑤ コロンビア | ⑥ ボリビア |
| ⑦ エクアドル | ⑧ ペルー |

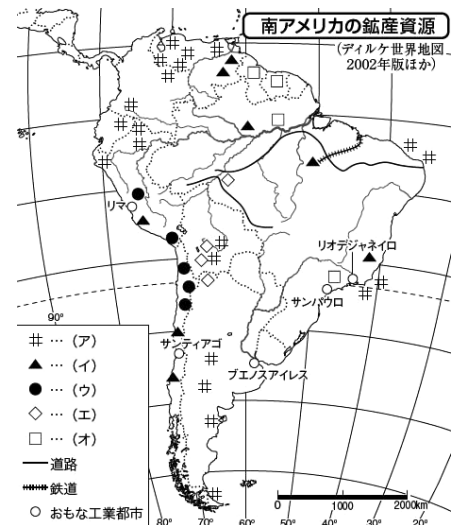
(2) 次の文の()にあてはまる数字を次のア～オから、それぞれ1つずつ選びなさい。 ①() ②()

日本人の南アメリカの国々への移住は、(①)世紀はじめに始まり、いまでもたくさんの人々が住んでいます。中でもブラジルには(②)万人をこえる人々がくらしています。

[ア 18 イ 19 ウ 20 エ 140 オ 180]

- (3) (2)の文で説明されている人々のことを何といいますか。()
- (4) ブラジルが公用語にしているのは何語ですか。また、ブラジル以外の国々は何語を公用語としていますか。
ブラジル() その他()
- (5) ブラジルに住む人々の人種は、()が半数をこえている。()にあてはまる語句を、次のア～ウから1つ選びなさい。
ア 混血 イ 先住民 ウ ヨーロッパ系
- (6) ヨーロッパ系の白人と先住のインディオの混血の人々を何といいますか。()

【3】下の地図を見て、次の問いに答えなさい。

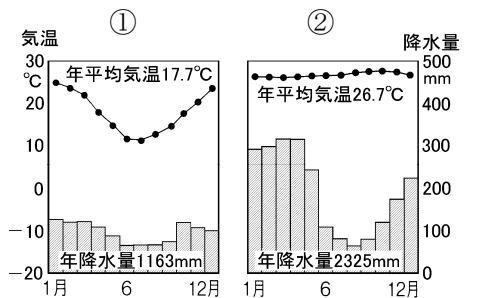


- (1) 地図中のア～オにあてはまる鉱産資源名を、次の A～F から1つずつ選び記号で答えなさい。**発展**
ア() イ() ウ() エ() オ()

A 石油 B 銅 C 石炭
D ボーキサイト E 鉄鉱石 F すず

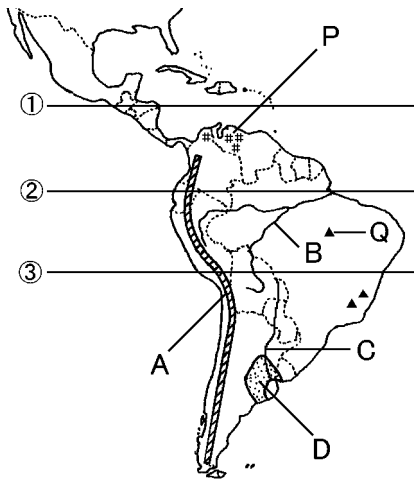
(2) 南アメリカでは、開発が進んだために開発と環境()との両立が課題になっている。()にあてはまる語句を答えなさい。()

- (3) 地図中のブエノスアイレスは何という気候帯に属していますか。また、その気候を表すグラフを右から選びなさい。
()
グラフ()



得点	演習問題〔解答〕	実施日	月 日	氏名

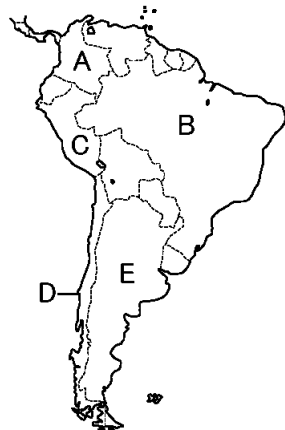
【1】下の地図を見て、次の問いに答えなさい。



- ①～③のどれですか。(ア)
- Aの山脈名を答えなさい。(アンデス山脈)
- B・Cの河川名をそれぞれ答えなさい。
B(アマゾン川) C(ラプラタ川)
- Bの川の流域に広がる森林を何といますか。(ア)
- (4)の森林で行われている、木を切りはらって畑をつくり、それを焼いてできた灰を肥料にして活用する農業を何といますか。(焼畑農業)
- Bの川の流域の北側にある高地、南側にある高原をそれぞれ何といますか。(ギアナ高地)(ブラジル高原)
- Cの河川の流域に広がる草原を何といますか。(パンパ)
- (9)の地域では牧畜や()の栽培がさかんである。()にあてはまる語句を答えなさい。(小麦)
- P・Qはそれぞれ何という地下資源の産地を表していますか。P(石油〔原油〕) Q(鉄鉱石)
- 地図中に示した鉱産資源以外に、近年注目されている希少金属などの地下資源も豊富で、各国は開発と工業化に力を入れている。この希少金属をカタカナで何といますか。(レアメタル)

【2】下の地図を見て次の問いに答えなさい。

- A～Eにあてはまる国名を次の①～⑧から1つずつ選び記号で答えなさい。
A(⑤) B(②)
C(⑧) D(④)
E(①)



- ① アルゼンチン ② ブラジル
- ③ ベネズエラ ④ チリ
- ⑤ コロンビア ⑥ ボリビア
- ⑦ エクアドル ⑧ ペルー

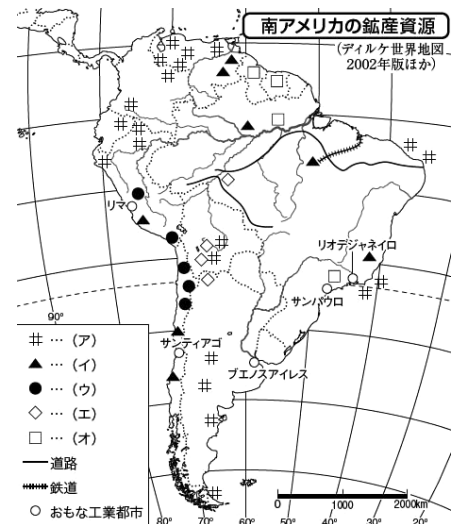
(2) 次の文の()にあてはまる数字を次のア～オから、それぞれ1つずつ選びなさい。 ①(ウ) ②(エ)

日本人の南アメリカの国々への移住は、(①)世紀はじめに始まり、いまでもたくさんの人々が住んでいます。中でもブラジルには(②)万人をこえる人々がくらしています。

[ア 18 イ 19 ウ 20 エ 140 オ 180]

- (2)の文で説明されている人々のことを何といますか。(日系人)
- ブラジルが公用語にしているのは何語ですか。また、ブラジル以外の国々は何語を公用語としていますか。
ブラジル(ポルトガル語) その他(スペイン語)
- ブラジルに住む人々の人種は、()が半数をこえている。()にあてはまる語句を、次のア～ウから1つ選びなさい。(ア)
ア 混血 イ 先住民 ウ ヨーロッパ系
- ヨーロッパ系の白人と先住のインディオの混血の人々を何といますか。(メスチソ)

【3】下の地図を見て、次の問いに答えなさい。



- 地図中のア～オにあてはまる鉱産資源名を、次のA～Fから1つずつ選び記号で答えなさい。**発展**
ア(A) イ(E) ウ(B) エ(F) オ(D)
A 石油 B 銅 C 石炭
D ボーキサイト E 鉄鉱石 F すず

(2) 南アメリカでは、開発が進んだために開発と環境()との両立が課題になっている。()にあてはまる語句を答えなさい。(保護)

- 地図中のブエノスアイレスは何という気候帯に属していますか。また、その気候を表すグラフを右から選びなさい。(温带) グラフ(①)

