

絶対暗記するプリント

中・南アメリカ

実施

/

氏名

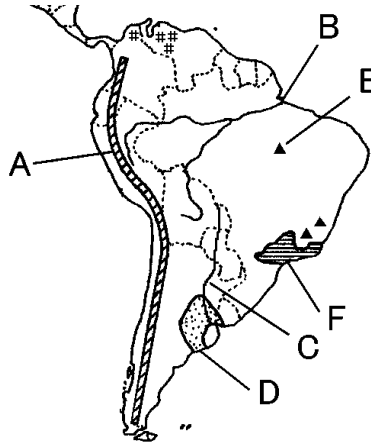
① 下の〔図1〕の A～E の国名をそれぞれ答えなさい。

A(コロンビア) B(ブラジル) C(ペルー) D(チリ) E(アルゼンチン)

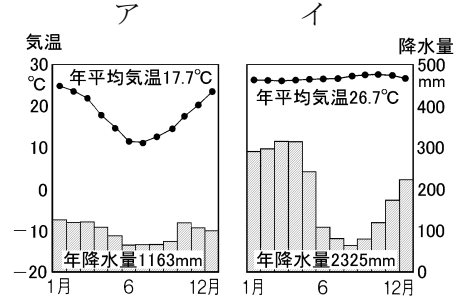
〔図1〕



〔図2〕



〔図3〕



- ② 上の〔図2〕の A の山脈の名前を答えなさい。 (アンデス山脈)
- ③ 15 世紀ごろ②の山脈の中に栄えていた文明を答えなさい。 (インカ帝国)
- ④ 〔図2〕の B の河川を何といいますか。 (アマゾン川)
- ⑤ B の流域で、最近おこっている環境問題は何ですか。 (開発による熱帯雨林の伐採)
- ⑥ B の流域で乾季に森林を焼き払い、灰を肥料にして耕作を行う農業を何というか。 (焼畑農業)
- ⑦ 〔図2〕の C の河川を何といいますか。 (ラプラタ川)
- ⑧ 〔図2〕の C の流域に広がる温帯草原 D を何といいますか。 (パンパ)
- ⑨ 〔図3〕のア・イは、それぞれ④・⑦の河川の流域の気候のどちらを表しているか。 (ア ⑦ イ ④)
- ⑩ 〔図1〕の B の国で公用語として用いられている言語は何ですか。 (ポルトガル語)
- ⑪ ⑩以外の中南アメリカの国々で公用語として用いられている言語は何ですか。 (スペイン語)
- ⑫ 先住民のインディオとヨーロッパから移住した白人との混血人を何といいますか。 (メスチソ)
- ⑬ 〔図2〕の E(カラジャス)など▲で産出する地下資源は何ですか。 (鉄鉱石)
- ⑭ 近年、携帯電話などに利用されている希少金属を何といいますか。 (レアメタル)
- ⑮ ブラジルやコロンビアで栽培され、世界の3分の1をしめる農作物は何ですか。 (コーヒー)
- ⑯ 〔図2〕の F の地域で栽培されているとうもろこしからつくる燃料を何といいますか。 (バイオエタノール)
- ⑰ 南アメリカで工業が急速に発展し BRICs の1つに数えられている国はどこですか。 (ブラジル)
- ⑱ 南アメリカの国々で盛んなスポーツは何ですか。 (サッカー)

確認テスト

中・南アメリカ	実施 /	氏名
---------	------	----

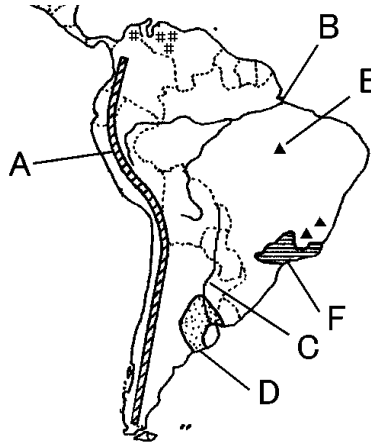
① 下の〔図1〕の A～E の国名をそれぞれ答えなさい。

A() B() C() D() E()

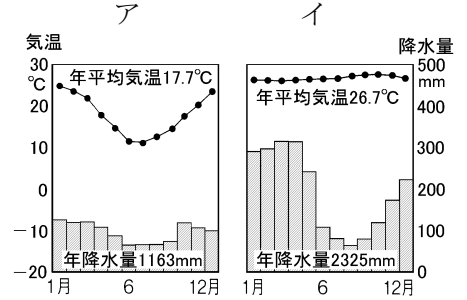
〔図1〕



〔図2〕



〔図3〕



- ② 上の〔図2〕の A の山脈の名前を答えなさい。 ()
- ③ 15 世紀ごろ②の山脈の中に栄えていた文明を答えなさい。 ()
- ④ 〔図2〕の B の河川を何といますか。 ()
- ⑤ B の流域で、最近おこっている環境問題は何ですか。 ()
- ⑥ B の流域で乾季に森林を焼き払い、灰を肥料にして耕作を行う農業を何というか。 ()
- ⑦ 〔図2〕の C の河川を何といますか。 ()
- ⑧ 〔図2〕の C の流域に広がる温帯草原 D を何といますか。 ()
- ⑨ 〔図3〕のア・イは、それぞれ④・⑦の河川の流域の気候のどちらを表しているか。 (ア イ)
- ⑩ 〔図1〕の B の国で公用語として用いられている言語は何ですか。 ()
- ⑪ ⑩以外の中南アメリカの国々で公用語として用いられている言語は何ですか。 ()
- ⑫ 先住民のインディオとヨーロッパから移住した白人との混血人を何といますか。 ()
- ⑬ 〔図2〕の E(カラジャス)など▲で産出する地下資源は何ですか。 ()
- ⑭ 近年、携帯電話などに利用されている希少金属を何といますか。 ()
- ⑮ ブラジルやコロンビアで栽培され、世界の3分の1をしめる農作物は何ですか。 ()
- ⑯ 〔図2〕の F の地域で栽培されているとうもろこしからつくる燃料を何といますか。 ()
- ⑰ 南アメリカで工業が急速に発展し BRICs の1つに数えられている国はどこですか。 ()
- ⑱ 南アメリカの国々で盛んなスポーツは何ですか。 ()