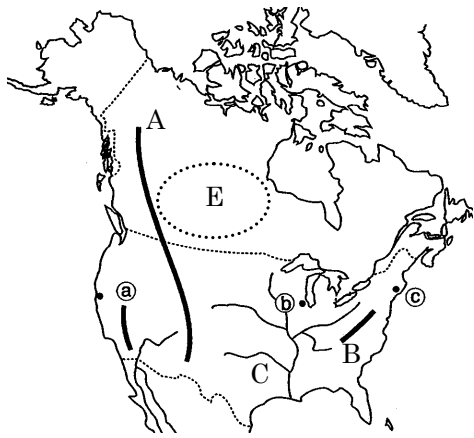
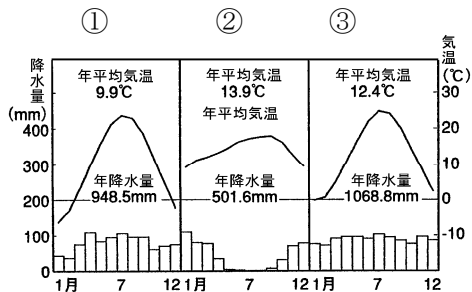


得点	演習問題			実施日	月 日	氏名
	単元名：アメリカ合衆国 ①					

【1】下の地図を見て、次の各問いに答えなさい。



- 地図中の A・B の山脈名をそれぞれ答えなさい。
A() 山脈) B() 山脈)
- C の河川名を答えなさい。
C() 川)
- C の流域に広がる草原を何といいますか。()
- E の地域に広がる針葉樹林帯を何といいますか。()
- 右の気候グラフは、地図中の a～c のいずれかの都市のもので、このうち、a の都市に当てはまるものを選び、記号で答えなさい。()



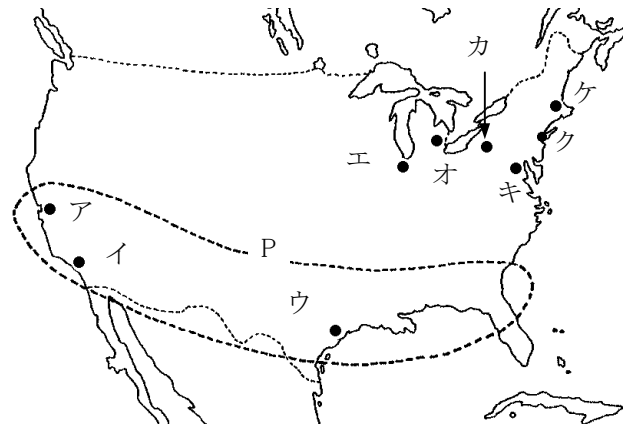
- しばしばメキシコ湾岸を襲う暴風雨を何といいますか。()

【2】下の地図は、アメリカ合衆国の農業について表したものです。これについて、次の問いに答えなさい。



- 地図中の A～C の地域に当てはまる代表的な農作物をそれぞれ答えなさい。
A() B() C()
- 国土の広いアメリカでは地域の気候や環境に適した作物を生産しています。これを何といいますか。()
- 綿花地帯では、かつて植民地から強制的に連れてこられた人々が労働力として使われていた。この人種は何ですか。()

【3】下の地図は、アメリカ合衆国の工業のさかんな都市を表したものです。これについて、次の問いに答えなさい。



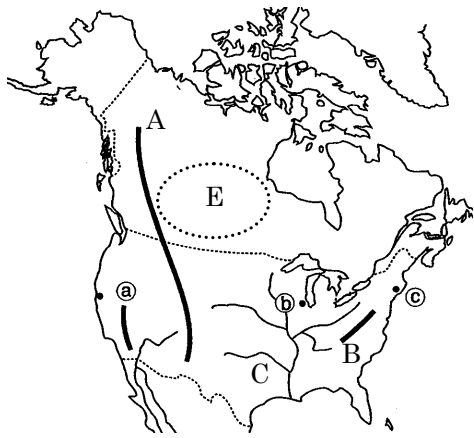
- 次の①～④にあてはまる都市名を下から選び、また、その位置を地図中のア～ケから選びそれぞれ記号で答えなさい。
① 石油化学工業、宇宙産業のさかんな都市。(都市 位置)
② 自動車工業のさかんな都市。(都市 位置)
③ 航空機産業・映画産業のさかんな都市。(都市 位置)
④ クリーブランドとともに鉄鋼業のさかんな都市。(都市 位置)

A ピッツバーグ	B シカゴ	C デトロイト
D ロサンゼルス	E ボストン	F ヒューストン

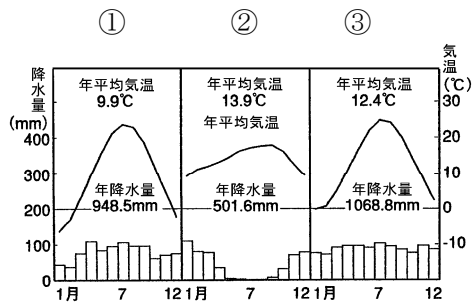
- アの近郊にあるサンノゼにはコンピュータ関連の大企業が集中しているため何と呼ばれていますか。()
- 地図中の P の地域は、1970 年代にはいつから工業がさかんになった北緯 37 度より南部に広がる新しい工業地帯です。この地域を何とよびますか。()
- また P の地域は、近年、中南米から移住してきた人々の割合が高い地域です。この人々を何といいますか。()
- アメリカ合衆国の東部の山脈周辺で多く産出する地下資源は何ですか。()
- メキシコ湾岸やカリフォルニア地方に多く産出する地下資源は何ですか。()
- 五大湖の周辺で多く産出する地下資源は何ですか。()
- 遺伝子組み換えなどを行い農作物の生産量を増やすなどの技術を何といいますか。()
- アメリカ最大の都市で、政治経済の中心であり、また国際連合の本部がある都市名を答えなさい。また、その位置を記号で答えなさい。(都市 位置)

得点		演習問題〔解答〕	実施日	月	日	氏名
				単元名：アメリカ合衆国 ①		

【1】下の地図を見て、次の各問いに答えなさい。



- 地図中の A・B の山脈名をそれぞれ答えなさい。
A(**ロッキー** 山脈) B(**アパラチア** 山脈)
- C の河川名を答えなさい。 C(**ミシシッピ** 川)
- C の流域に広がる草原を何といいますか。(**プレーリー**)
- E の地域に広がる針葉樹林帯を何といいますか。(**タイガ**)
- 右の気候グラフは、地図中の a～c のいずれかの都市のもです。このうち、a の都市に当てはまるものを選び、記号で答えなさい。(**②**)



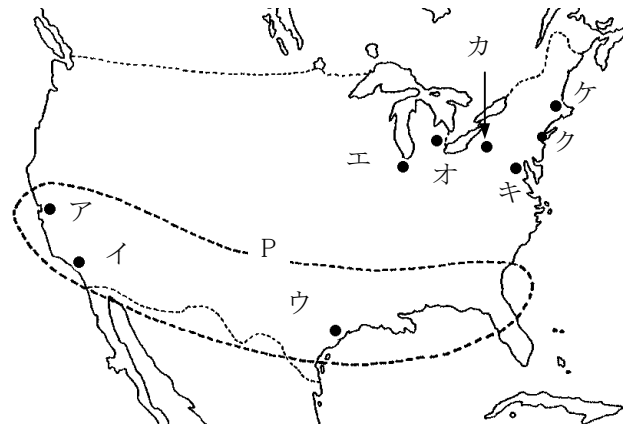
- しばしばメキシコ湾岸を襲う暴風雨を何といいますか。(**ハリケーン**)

【2】下の地図は、アメリカ合衆国の農業について表したものです。これについて、次の問いに答えなさい。



- 地図中の A～C の地域に当てはまる代表的な農作物をそれぞれ答えなさい。
A(**小麦**) B(**とうもろこし**) C(**綿花**)
- 国土の広いアメリカでは地域の気候や環境に適した作物を生産しています。これを何といいますか。(**適地適作**)
- 綿花地帯では、かつて植民地から強制的に連れてこられた人々が労働力として使われていた。この人種は何ですか。(**黒人**)

【3】下の地図は、アメリカ合衆国の工業のさかんな都市を表したものです。これについて、次の問いに答えなさい。



- 次の①～④にあてはまる都市名を下から選び、また、その位置を地図中のア～ケから選びそれぞれ記号で答えなさい。
① 石油化学工業、宇宙産業のさかんな都市。(都市 **F** 位置 **ウ**)
② 自動車工業のさかんな都市。(都市 **C** 位置 **オ**)
③ 航空機産業・映画産業のさかんな都市。(都市 **D** 位置 **イ**)
④ クリーブランドとともに鉄鋼業のさかんな都市。(都市 **A** 位置 **カ**)

A ピッツバーグ	B シカゴ	C デトロイト
D ロサンゼルス	E ボストン	F ヒューストン

- ア の近郊にあるサンノゼにはコンピュータ関連の大企業が集中しているため何と呼ばれていますか。(**シリコンバレー**)
- 地図中の P の地域は、1970 年代にはいつてから工業がさかんになった北緯 37 度より南部に広がる新しい工業地帯です。この地域を何とよびますか。(**サンベルト**)
- また P の地域は、近年、中南米から移住してきた人々の割合が高い地域です。この人々を何といいますか。(**ヒスパニック**)
- アメリカ合衆国の東部の山脈周辺で多く産出する地下資源は何ですか。(**石炭**)
- メキシコ湾岸やカリフォルニア地方に多く産出する地下資源は何ですか。(**石油(原油)**)
- 五大湖の周辺で多く産出する地下資源は何ですか。(**鉄鉱石**)
- 遺伝子組み換えなどを行い農作物の生産量を増やすなどの技術を何といいますか。(**バイオテクノロジー**)
- アメリカ最大の都市で、政治経済の中心であり、また国際連合の本部がある都市名を答えなさい。また、その位置を記号で答えなさい。(都市 **ニューヨーク** 位置 **ク**)