

# 絶対暗記するプリント

アメリカ合衆国 ③

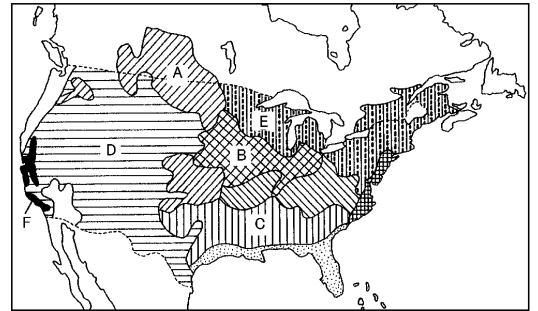
実施

/

氏名

- ① 1776年アメリカはどこから独立しましたか。  
( イギリス )
- ② 北アメリカ大陸の中央部に広がる平原を何といいますか。  
( グレートプレーンズ )
- ③ ミシシッピ川周辺に広がる草原を何といいますか。  
( プレーリー )
- ④ 五大湖から大西洋へ通じるカナダとの国境沿いにある河川は何ですか。  
( セントローレンス川 )

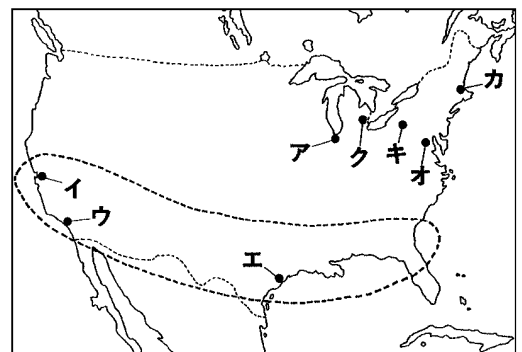
[アメリカの農業分布]



- ⑤ アメリカの農業の特徴で、その土地に適した作物を作る農業を何といいますか。( 適地適作 )
- ⑥ 右上のA～Cの地域で生産されている農作物はそれぞれ何ですか。  
A( 小麦 ) B( とうもろこし ) C( 綿花 )
- ⑦ 冷涼な右上のEの地域で行われている農業は何ですか。( 酪農 )
- ⑧ 地図中のFで行われている大規模な灌漑による農業を何といいますか。( 地中海式農業 )
- ⑨ アメリカにおいて、農業地域と牧草地域Dとを分ける経線は西経何度ですか。( 西経 100 度)

- ⑩ スペリオール湖西岸にある鉄鉱石の産地は何ですか。  
( メサビ鉄山 )
- ⑪ メキシコ湾岸で採れる地下資源は何ですか。  
( 原油 )
- ⑫ アパラチア地方でよく採れる地下資源は何ですか。  
( 石炭 )
- ⑬ ロッキー山脈にある銅鉱石の産地は何ですか。  
( ビンガム銅山 )

[アメリカの工業都市]



- ⑭ ミシガン湖の南岸にある食品工業の盛んな都市アは何ですか。( シカゴ )
- ⑮ 五大湖周辺の工業都市で、鉄鋼業が盛んなのはクリーブランドとあと1つはどこですか。( ピッツバーグ )
- ⑯ 地図中の ○ で表された北緯37度以南の新しい工業地域を何といいますか。( サンベルト )
- ⑰ サンフランシスコ近郊のサンノゼは電子工業が盛んなことから何といいますか。( シリコンバレー )
- ⑱ 太平洋岸にある航空機・映画産業が盛んなアメリカ第2の都市ウは何ですか。( ロサンゼルス )
- ⑲ メキシコ湾岸にある石油化学・宇宙産業が盛んな都市エは何ですか。( ヒューストン )
- ⑳ 自動車産業が最も盛んな都市クは何ですか。( デトロイト )

# 絶対暗記するプリント

アメリカ合衆国 ③

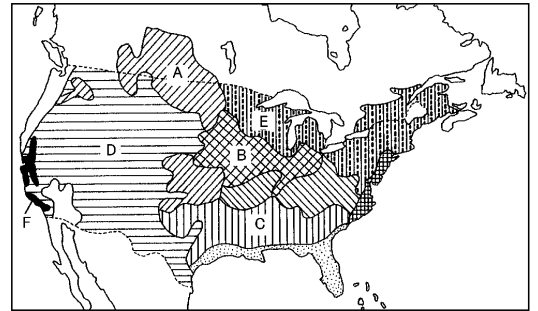
実施

/

氏名

- ① 1776年アメリカはどここの国から独立しましたか。  
( )
- ② 北アメリカ大陸の中央部に広がる平原を何といいますか。  
( )
- ③ ミシシッピ川周辺に広がる草原を何といいますか。  
( )
- ④ 五大湖から大西洋へ通じるカナダとの国境沿いにある河川は何ですか。  
( ) (川)

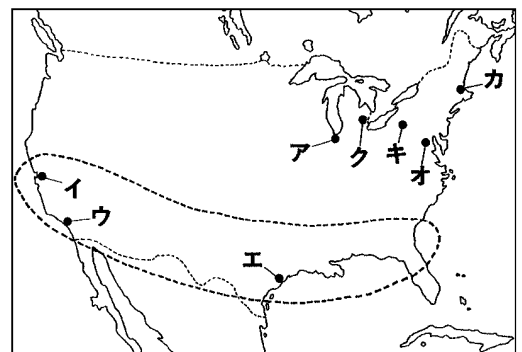
[アメリカの農業分布]



- ⑤ アメリカの農業の特徴で、その土地に適した作物を作る農業を何といいますか。 ( )
- ⑥ 右上のA～Cの地域で生産されている農作物はそれぞれ何ですか。  
A( ) B( ) C( )
- ⑦ 冷涼な右上のEの地域で行われている農業は何ですか。 ( )
- ⑧ 地図中のFで行われている大規模な灌漑による農業を何といいますか。 ( )
- ⑨ アメリカにおいて、農業地域と牧草地域Dとを分ける経線は西経何度ですか。 (西経 度)

- ⑩ スペリオル湖西岸にある鉄鉱石の産地は何ですか。  
( )
- ⑪ メキシコ湾岸で採れる地下資源は何ですか。  
( )
- ⑫ アパラチア地方でよく採れる地下資源は何ですか。  
( )
- ⑬ ロッキー山脈にある銅鉱石の産地は何ですか。  
( )

[アメリカの工業都市]



- ⑭ ミシガン湖の南岸にある食品工業の盛んな都市アは何ですか。 ( )
- ⑮ 五大湖周辺の工業都市で、鉄鋼業が盛んなのはクリーブランドとあと1つはどこですか。 ( )
- ⑯ 地図中の ○ で表された北緯37度以南の新しい工業地域を何といいますか。 ( )
- ⑰ サンフランシスコ近郊のサンノゼは電子工業が盛んなことから何といいますか。 ( )
- ⑱ 太平洋岸にある航空機・映画産業が盛んなアメリカ第2の都市ウは何ですか。 ( )
- ⑲ メキシコ湾岸にある石油化学・宇宙産業が盛んな都市エは何ですか。 ( )
- ⑳ 自動車産業が最も盛んな都市クは何ですか。 ( )